



به نام خداوند بخشنده مهربان
آزمون مداد کاغذی ریاضی پایه اول ابتدایی

نام و نام خانوادگی:




۱ سمت چپ مرغ چهار تخم مرغ بکشید.

۲ با کشیدن چوب خط حساب کن شکل های سمت چپ و راست با هم چند تا هستند.




.....


۳ بزرگترین خرس را رنگ بزن.




۴ شکل را طوری رسم کن که دو نیمه آن مثل هم باشد.



۵ در سمت راست همان قدر شکل بکش که تعداد آن با دسته ی سمت چپ برابر شود.



۶ دور عدد مناسب خط بکش.



کامل کن . در هر ستون و ردیف از ۱ تا ۹ باشد.

	۱	۲	۸	۹	۵	۴	۷	
۵		۹	۱	۴	۷	۳		۲
۴	۸		۲	۶	۳		۱	۹
۹	۵	۱		۳	۶	۲	۴	۸
۷	۲	۸	۵		۴	۶	۹	۳
۶	۳	۴	۹	۸		۱	۵	۷
۲	۴		۶	۷	۹		۳	۱
۱	۷		۳	۵	۸	۹		۴
	۹	۳	۴	۲	۱	۷	۶	

۷

دور دسته بیشتر خط بسته بکش و در دو طرف علامت عدد مناسب بنویس.



..... >


۸

بین هر دو عدد علامت های < = > بگذار.

۹.....۹ ۸.....۶ ۵.....۷ ۲.....۰

۹

در جای خالی عدد مناسب بنویس.



..... + =

..... + =

۱۰

در هر ردیف الگوها را با خط کش ادامه بده .

۱۱