



# مشاوره تحصیلی هیوا

تخصصی ترین سایت مشاوره کشور

مشاوره تخصصی ثبت نام مدارس ، برنامه ریزی درسی و آمادگی  
برای امتحانات مدارس

برای ورود به صفحه مشاوره مدارس کلیک کنید

برای ورود به صفحه نمونه سوالات امتحانی کلیک کنید

تماس با مشاور تحصیلی مدارس

۹۰۹۹۰۷۱۷۸۹



تماس از تلفن ثابت

(۱) عدد نویسی:

۵۳۳۲۲۲۰۰۱ :.....\*

\*دویست و بیست و پنج میلیون و چهارصد و یک هزار و نهصد و نود و نه:.....

(۲) عدد ۲۴۷۹۶۰۰ چند رقمی است؟

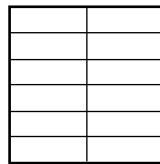
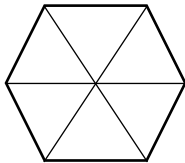
الف) جدول ارزش مکانی رسم شود.

ب) رقم صدگان آن چند است؟

ج) بزرگترین عدد، چه ارزش مکانی دارد؟

د) رقم ۴ در این عدد چه ارزشی دارد؟

(۳) ضرب کسر:



$$۴ \times \frac{1}{۹} = \text{---}$$

$$۳ \times \frac{۳}{۱۲} = \text{---}$$

(۴) تساوی کردن کسر ها:

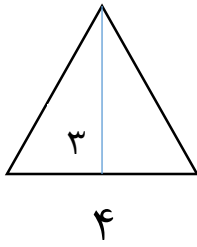
$$\frac{۱۵}{۱۸} - \frac{۱}{۲} =$$

(۵) ساده کردن:


$$\frac{۴}{۸} =$$

$$\frac{۱۵}{۲۵} =$$

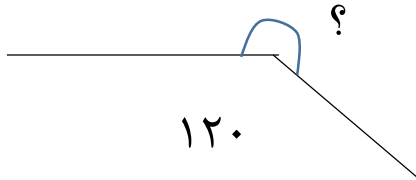
۶) مساحت مثلث:



۷) حاصل جمع  $1/2 + 2/3$  را روی محور نشان دهید.



۸) اندازه زاویه را بدست آورید.

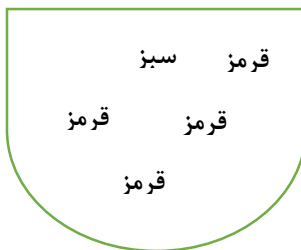


$$\begin{array}{r} \times \quad 427 \\ \quad 230 \\ \hline \end{array}$$

$$\begin{array}{r} 6812 \quad | \quad 7 \\ \hline \end{array}$$

۹) ضرب و تقسیم:

۱۰) در شکل رو به رو تعدادی مهره قرار دارد. احتمال این را که بدون نگاه کردن، یک مهره درآوریم و یکی از اتفاق های زیر بیفتد، با یک عبارت بیان کنید.



\*مهره قرمز باشد.

\*مهره سبز باشد.

\*مهره آبی باشد.