



# مشاوره تحصیلی هیوا

تخصصی ترین سایت مشاوره کشور

مشاوره تخصصی ثبت نام مدارس ، برنامه ریزی درسی و آمادگی  
برای امتحانات مدارس

برای ورود به صفحه مشاوره مدارس کلیک کنید

برای ورود به صفحه نمونه سوالات امتحانی کلیک کنید

تماس با مشاور تحصیلی مدارس

۹۰۹۹۰۷۱۷۸۹



تماس از تلفن ثابت

۱

الف) به عدد و حروف بنویسید.

سه هزار و پنج ..... چهارصد و چهل و نه .....

۴۵۴۵..... ۱۰۰۴.....

ب) عددهای قبل و بعد از این عددها را بنویسید.

.....، ۸۴۹۹، ..... ۱۰۰۰، ..... ۴۴۴، .....

ج) ۴ هزارتایی و ۹ یکی و ۵ صدتایی و ۲ دهه تایی می شود.....

د) حاصل جمع کوچکترین عدد سه رقمی و بزرگترین عدد دو رقمی چند است؟

۲

با توجه به جدول سمت چپ، جدول سمت راست را کامل کنید.

صدتایی	ده تایی	یکی
۵	۲۵	۸
۸	۱	۱۶

صدگان	دهگان	یکان
.....	.....	۸
.....	.....	.....

۳








عدد های داده شده را با هم جمع کنید و سپس برای اطمینان از درستی آن، آن را امتحان کنید.

(۳۸۹۳، ۴۳۰۸) (۳۴۲، ۴۱۳، ۲۸۹۹)

۴

عدد های داده شد را تفریق کنید و سپس برای اطمینان از درستی آن، آن را امتحان کنید.

(۸۰۴۱، ۶۵۲) (۴۸۹، ۲۹۵)

 .....	 .....	 .....	 .....	 .....	<p>۵ نام هر شکل را در زیر آن بنویسید.</p>
<p>۶ سه شی را نام ببرید که به شکل مکعب مستطیل باشد. مکعب مستطیل چند سطح دارد؟</p>					
<p>۷ الف) ۴ کیلومتر چند متر است؟ ..... ب) ۸ کیلومتر و ۴۵۰ متر چند متر است؟ ..... ج) ۶۰۰۰ متر چند کیلومتر است؟ ..... د) ۷۸۰۰ متر ..... کیلومتر و ..... متر است.</p>					
<p>۸ از علامت مناسب استفاده کنید.  <math>۸۵۷ - ۱۶۹</math> <input type="radio"/> <math>۷۸ + ۶۱۰</math>      <math>۶۲۱ - ۱۸۰</math> <input type="radio"/> <math>۵۸ + ۳۰۱</math></p>					
<p>۹ با توجه به شکل جاهای خالی را پر کنید.     ..... سه تا می شود.....      ..... دو تا می شود.....</p>					
<p>۱۰ برای ضرب های زیر شکل بکشید.  ۳ سه تا می شود ۹ تا      ۴ دو تا می شود ۸ تا</p>					
<p>۱۱ یک خط بسته، یک خط خمیده ی باز و یک خط شکسته بکشید.</p>					
<p>۱۲ تعداد دانش آموزان کلاس اول دبستان شهید مفتاح سلخ ۳۸ نفر و تعداد دانش آموزان کلاس سوم این دبستان ۲۹ نفر است. کلاس سوم چند دانش آموز از کلاس اول کمتر دارد؟ این دو کلاس روی هم چند دانش آموز دارند؟</p>					

۱۳	<p>کتابی ۱۵۰ صفحه داشت. محمد بار اول ۴۲ صفحه، بار دوم ۸۰ صفحه و بار سوم ۲۰ صفحه ی این کتاب را خواند.</p> <p>محمد در این سه بار چند صفحه را خوانده است؟</p> <p>محمد چند صفحه را نخوانده است؟</p>
۱۴	<p>جمله های درست را با (ص) و نادرست را با (غ) معین کنید.</p> <p>(الف) یک کیلومتر ۱۰۰۰۰ متر است. ( ) (ب) فاصله ی بین دو روستا را با متر اندازه می گیرند. ( )</p> <p>(ج) به جواب تفریق، حاصل تفریق می گویند. ( ) (د) ۲۰۰۰ متر از ۲ کیلومتر بیشتر است. ( )</p>
	<p>علاقه ات نسبت به درس ریاضی چگونه است؟</p> <p>ریاضی را خیلی دوست دارم      ریاضی را دوست دارم</p> <p>ریاضی را زیاد دوست ندارم      از ریاضی بدم می آید</p> <p>از ریاضی خیلی بدم می آید</p> <p>نظر معلم کلاس :</p>