



مشاوره تحصیلی هیوا

تخصصی ترین سایت مشاوره کشور

مشاوره تخصصی ثبت نام مدارس ، برنامه ریزی درسی و آمادگی
برای امتحانات مدارس

برای ورود به صفحه مشاوره مدارس کلیک کنید

برای ورود به صفحه نمونه سوالات امتحانی کلیک کنید

تماس با مشاور تحصیلی مدارس

۹۰۹۹۰۷۱۷۸۹



تماس از تلفن ثابت

به نام خدا

وزارت آموزش و پرورش

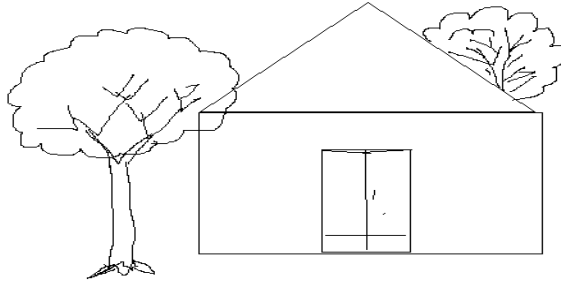
آزمون جامع مدادکاغذی ریاضی

نام و نام خانوادگی :

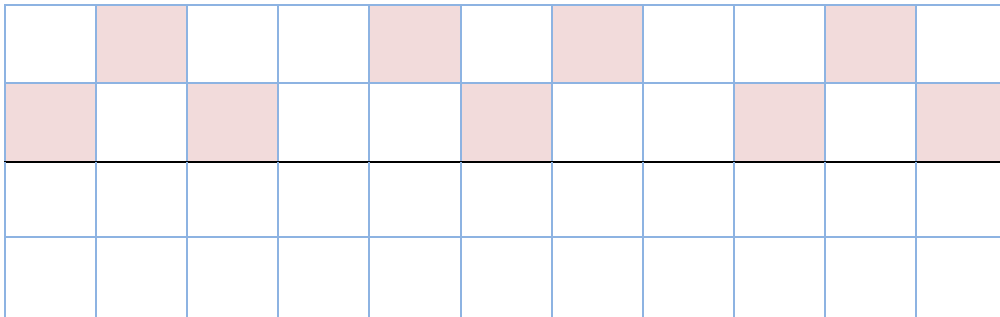
زمان : 45 دقیقه

کلاس : اول دبستان

1-- به سوالات با دقت پاسخ دهید: - درست چپ در خانه، یک پنجره بکشید. روی پشت بام یک دود کش بکشید. درخت پشت خانه را رنگ کنید.



2- تقارن شکل ها را کامل کنید .



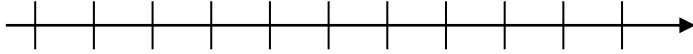
3- الگوها را دامه بدهید.



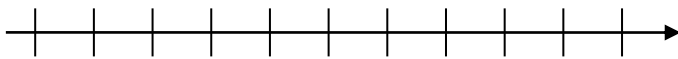
4- حاصل جمع و تفریق های زیر را با رسم شکل و سپس با کمک محور اعداد به دست آورید .

(محور را شماره گذاری کنید .)

$$4+5=$$



$$9-8=$$



5- بین اعداد زیر یکی از علامت های $<$ $=$ $>$ را قرار دهید .

9 19

47 36

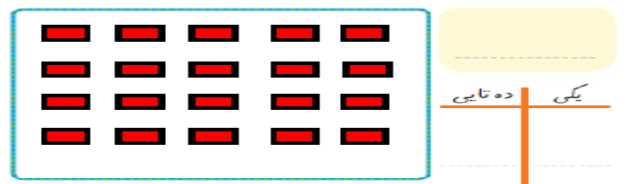
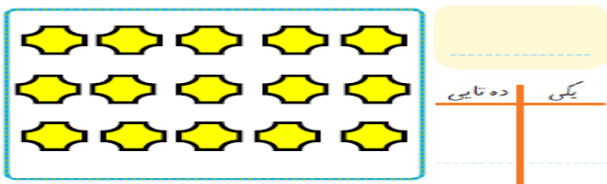
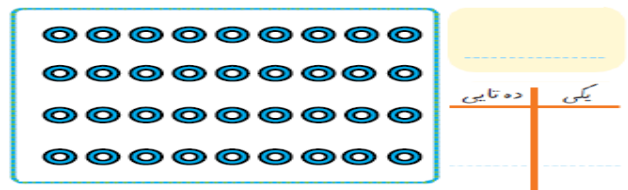
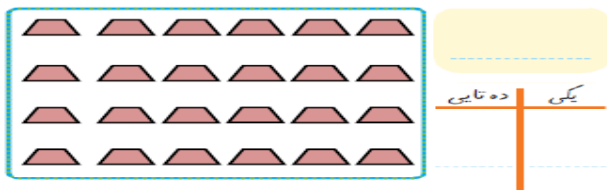
14 17

24 24

10 9

1 0

6- دسته های ده تایی درست کنید و سپس قسمت های مربوطه را کامل نمایید .



7- حاصل جمع و تفریق های زیر را به دست آورید .

$$5+5+5+5+5 =$$

$$10+10+10+10+10=$$

$$25+8=$$

$$6+8=$$

$86-24=$

$32+24=$

$12+24+96-85=$

$18+9=$

9- الگو را ادامه دهید . (تا 5 عدد) .

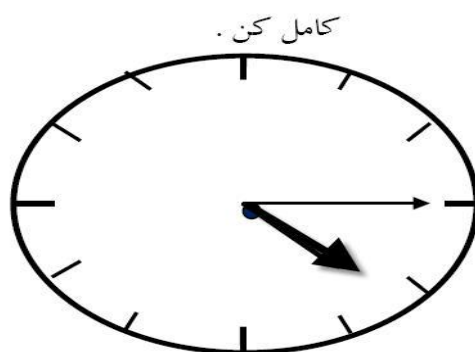
2-4

5-10

4-8

7-14

10- جاهای خالی را کامل کن .



زمان بین ساعت.....و..... می باشد.

ساعت از گذشته است.

11- از 47 تا 59 را ادامه دهید .

47-

12- جاهای خالی را با توجه به کلمات داخل پرانتز کامل کن . (سبک تر - سنگین تر - بلند تر - کوتاه تر) .

درخت از گل است .

سیب از هندوانه است .

13- حسین 17 بوته ی گوجه فرنگی داشت 8 تا از آن ها خشک شد چند بوته سالم مانده است ؟ (با رسم شکل)

14- فاطمه 14 شاخه ی گل و دوستش 9 شاخه خریدند . آن ها روی هم چند شاخه گل دارند ؟ (با رسم چوب خط)

خود سنجی : دانش آموز عزیز با توجه به عملکردت در آزمون پاسخ بده.

1 - من یاد گرفتم:

2 - اما یاد نگرفتم:

3- آنچه باید برای یادگیری بهتر انجام دهم:

| تسلط خیلی کم | تسلط کم | تسلط متوسط | تسلط خوب | تسلط کامل | سطوح عملکرد ملاک ها و شواهد |
|-----------------|------------|---------------|-------------|--------------|---|
| | | | | | آزمون را با دقت و در زمان مناسب انجام داده است . |
| | | | | | جمع و تفریق ها را درست حل کرده است . |
| | | | | | مساله ها را به درستی انجام داده است . |
| | | | | | جهت یابی و تقارن را به خوبی انجام داده است . |
| | | | | | مفهوم زمان را به خوبی درک کرده است . |
| | | | | | الگویابی هندسی و عددی را درست و کامل انجام داده است . |
| | | | | | عددنویسی و شمارش را کامل انجام داده است . |
| | | | | | مفهوم طول و وزن را به خوبی می داند. |
| | | | | | دسته بندی ده تایی و پر کردن جدول را به درستی انجام داده است . |
| | | | | | مفهوم کمتر، بیش تر و مساوی را در جای مناسب به کار می برد . |

موفق باشید .