



مشاوره تحصیلی هیوا

تخصصی ترین سایت مشاوره کشور

مشاوره تخصصی ثبت نام مدارس ، برنامه ریزی درسی و آمادگی
برای امتحانات مدارس

برای ورود به صفحه مشاوره مدارس کلیک کنید

برای ورود به صفحه نمونه سوالات امتحانی کلیک کنید

تماس با مشاور تحصیلی مدارس

۹۰۹۹۰۷۱۷۸۹



تماس از تلفن ثابت

به نام مهربان ترین

نام و نام خانوادگی:

۱- موشی را که به راست می رود در خط بسته قرار بده.

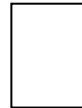

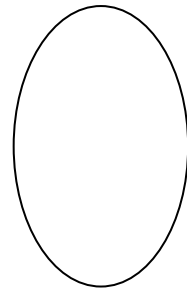
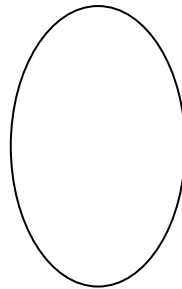

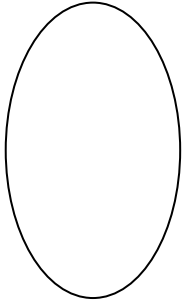



۲- دور دسته ی کمتر خط بکش و دوطرف علامت عدد مناسب بنویس



..... <

۳- با توجه به عدد شکل و برای شکل ها عدد مناسب بنویس.

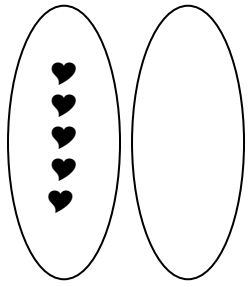


۴- عددها را به ترتیب از کمتر به بیش تر مرتب کن.

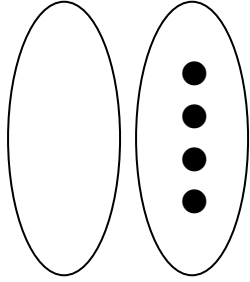
.. ۷ - ۲ - ۴ - ۰ - ۱ - ۳ - ۵ - ۶ - ۹ - ۸ -

.....

۵ - کامل کن و علامت مناسب بنویس.



۵ ۶



..... >

۶- برای شکل جمع بنویس.



..... + =



..... + =

۷- در جای خالی عدد مناسب بنویس.

$$1 + \dots = 5$$

$$\dots + 3 = \dots$$

$$1 + 2 = \dots$$

$$2 + 3 = \dots$$

$$1 + \dots = 2$$

$$\dots + 2 = 4$$

۸- در جای خالی عدد و علامت مناسب (<=>) بنویس.

$$4 \square 6$$

$$7 \square 5$$

$$2 \square 2$$

$$4 = \square$$

$$\square > 5$$

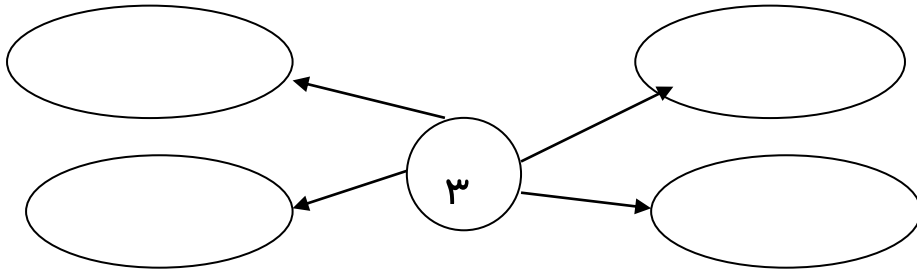
$$\square < 7$$

۹- برای جمع شکل بکش.


$$3 + 3 = \dots$$

$$4 + 2 = \dots$$

۱۰- جمع عد ۳ را کامل بنویس.



۱۱- برای شکل تفریق بنویس.



$$\dots - \dots = \dots$$

۱۲- شکل ها را همان طور که هست ادامه بده.



۱۳- برای تفریق شکل بکش.

$$۴ - ۳ = \dots$$

۱۴- اعداد قبل و بعد را بنویس.

۰ - ۱ - ۲ - - - - -

..... - - - - ۵ - - -

۱۵- برای شکل جمع بنویس.



$$\dots + \dots + \dots = \dots$$