



مشاوره تحصیلی هیوا

تخصصی ترین سایت مشاوره کشور

مشاوره تخصصی ثبت نام مدارس ، برنامه ریزی درسی و آمادگی
برای امتحانات مدارس

برای ورود به صفحه مشاوره مدارس کلیک کنید

برای ورود به صفحه نمونه سوالات امتحانی کلیک کنید

تماس با مشاور تحصیلی مدارس

۹۰۹۹۰۷۱۷۸۹



تماس از تلفن ثابت

به نام خدا

نوبت دوم

نام و نام خانوادگی :

تاریخ :

نام پدر :

۱- عدد های زیر را به حروف و رقم بنویسید .

۴۰۴

دویست و پنجاه و شش

۲- جاهای خالی را پر کنید .

۸۶۴ برابر است با یکی و ده تایی و صدتایی.

کوچک ترین عدد یک رقمی و بزرگ ترین عدد یک رقمی است .

۳- دنباله ی عدد های زیر را بنویسید .

۰ - ۲ - ۴ -

۳۰۰ - ۳۰۱ -

۳۰ - ۲۳ - ۶ - ۲ - ۷ - ۱۰ - ۵ - ۱۴

۴- دور عدد های زوج خط بکشید .

۱۹ - ۲۰ - ۱۱ - ۲۴ - ۵ - ۱۳ - ۴ - ۷

۵- زیر عدد های فرد خط بکشید .

۶- جمع و تفریق های زیر را انجام بدهید .

$5+2=$

$12-5=$

$(3+2)+1=$

$9+7=$

$15-7=$

$2+(4+3)=$

۷- جاهای خالی را پر کنید .

$3+ = 5$

$- 7 = 3$

$+ 2 = 10$

$2 - = 0$

۸- با استفاده از محور حاصل تفریق را پیدا کنید .



$$14 - 8 =$$

۹- در جاهای خالی علامت $<$ $=$ $>$ قرار دهید .

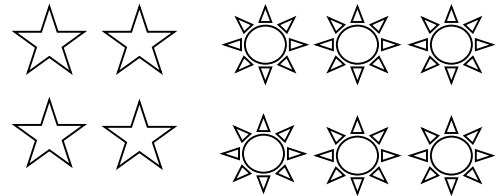
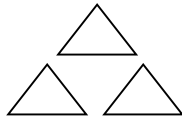
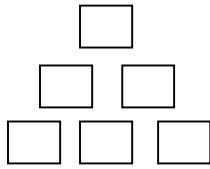
$$4 + 2 \square 9 - 3$$

$$100 \square 99$$

$$16 \square 61$$


$$549 \square 803$$

۱۰- برای هر شکل دو جمع و دو تفریق بنویسید .



۱۱- علی ۱۱ مداد داشت. ۴ تای آن را به خواهرش داد. حالا او چند مداد دارد؟

۱۲- ساعت زیر را کامل کنید و ۴:۲۵ را نشان دهید



.... :