



مشاوره تحصیلی هیوا

تخصصی ترین سایت مشاوره کشور

مشاوره تخصصی ثبت نام مدارس ، برنامه ریزی درسی و آمادگی
برای امتحانات مدارس

برای ورود به صفحه مشاوره مدارس کلیک کنید

برای ورود به صفحه نمونه سوالات امتحانی کلیک کنید

تماس با مشاور تحصیلی مدارس

۹۰۹۹۰۷۱۷۸۹



تماس از تلفن ثابت

بسمه تعالی

نام:

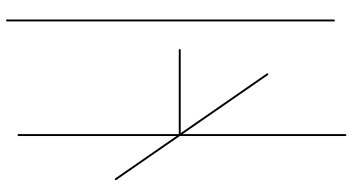
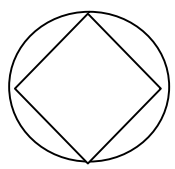
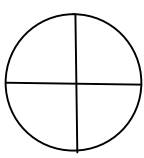
نام خانوادگی:

نام پدر:

مدت آزمون: ۹۰ دقیقه

تاریخ آزمون: / /

ردیف	سوالات	بارم
۱	مقایسه کنید و علامت مناسب (\leq یا \geq) بگذارید. $0/35$ <input type="checkbox"/> $0/035$ -32 <input type="checkbox"/> 16 $\frac{13}{5}$ <input type="checkbox"/> $2\frac{3}{5}$	<input type="checkbox"/> خ <input type="checkbox"/> خ <input type="checkbox"/> ق ق <input type="checkbox"/> ن
۲	حاصل عبارات زیر را بدست آورید. $2 \div \frac{1}{2}$ $3 + \frac{3}{4}$ $\frac{1}{3} \times \frac{2}{4}$ $1\frac{2}{5} - \frac{2}{3}$	<input type="checkbox"/> خ <input type="checkbox"/> خ <input type="checkbox"/> ق ق <input type="checkbox"/> ن
۳	کشاورزی نیمی از زمین خود را جو کاشت و نیم دیگر را به ۴ قسمت مساوی تقسیم کرد در یک قسمت یونجه کاشت پس در قسمت های دیگر سبزی کاشت اوچه کسری از زمین خود را سبزی کاشته است. (با رسم شکل)	<input type="checkbox"/> خ <input type="checkbox"/> خ <input type="checkbox"/> ق ق <input type="checkbox"/> ن
۴	تقسیم زیر را تا دو رقم اعشار در خارج قسمت ادامه دهید و باقیمانده را مشخص کنید. $57/83$ $3/12$	<input type="checkbox"/> خ <input type="checkbox"/> خ <input type="checkbox"/> ق ق <input type="checkbox"/> ن
۵	وزن نوزادی با مادرش $65/32$ کیلوگرم است اگر وزن مادر 62 کیلوگرم باشد وزن نوزاد چقدر است.	<input type="checkbox"/> خ <input type="checkbox"/> خ <input type="checkbox"/> ق ق <input type="checkbox"/> ن
۶	کدام یک از اشکال زیر مرکز تقارن ندارد. مربع <input type="checkbox"/> مستطیل <input type="checkbox"/> دوزنقه <input type="checkbox"/> دایره <input type="checkbox"/>	<input type="checkbox"/> خ <input type="checkbox"/> خ <input type="checkbox"/> ق ق <input type="checkbox"/> ن
۷	حجم شکل مقابل را بدست آورید.	<input type="checkbox"/> خ <input type="checkbox"/> خ <input type="checkbox"/> ق ق <input type="checkbox"/> ن

<input type="checkbox"/> خ خ <input type="checkbox"/> خ <input type="checkbox"/> ق ق <input type="checkbox"/> ن	<p>۸ با رعایت ترتیب انجام عملیات حاصل عبارت ها را بدست آورید.</p> <p>الف) $3/6 + (4 \times 2/5) \div 2 =$</p> <p>ب) $6/4 + 6/2 \times 2/2 =$</p>	۸
<input type="checkbox"/> خ خ <input type="checkbox"/> خ <input type="checkbox"/> ق ق <input type="checkbox"/> ن	<p>۹ قیمت یک لباس ۳۵۰۰۰ تومان است اگر فروشنده بخواهد آن را با ۲۰ درصد تخفیف به فروش برساند لباس با چه قیمتی به فروش می رسد.</p>	۹
<input type="checkbox"/> خ خ <input type="checkbox"/> خ <input type="checkbox"/> ق ق <input type="checkbox"/> ن	<p>۱۰ در جاهای خالی عدد یا کلمه مناسب قرار دهید.</p> <p>الف) واحد اندازه گیری زمین کشاورزی ب) ۱/۵ لیتر برابر است با سی سی ج) ۲ متر برابر است با دسی متر د) یک متر مکعب برابر است با لیتر</p>	۱۰
<input type="checkbox"/> خ خ <input type="checkbox"/> خ <input type="checkbox"/> ق ق <input type="checkbox"/> ن	<p>۱۱ با توجه به شکل به سوالات پاسخ دهید.</p> <p>الف) تعداد پاره خط ب) اندازه زاویه آ و ب</p> 	۱۱
<input type="checkbox"/> خ خ <input type="checkbox"/> خ <input type="checkbox"/> ق ق <input type="checkbox"/> ن	<p>۱۲ پاسخ را در جای خالی بنویسید.</p> <p>الف) عدد $0/0432$ با تقریب کمتر از $0/01$ با روش قطع کردن ب) عدد $32/806$ با تقریب کمتر از 1 با روش گرد کردن ج) عدد 4175 با تقریب کمتر از 10 با روش گرد کردن</p>	۱۲
<input type="checkbox"/> خ خ <input type="checkbox"/> خ <input type="checkbox"/> ق ق <input type="checkbox"/> ن	<p>۱۳ مساحت قسمت های رنگی را بدست آورید.</p> <div style="display: flex; justify-content: space-around; align-items: center;"> <div style="text-align: center;">  <p>شعاع دایره ۵ ضلع مربع ۵</p> </div> <div style="text-align: center;">  <p>شعاع دایره ۱۰</p> </div> </div>	۱۳
<p>نتیجه نهایی:</p> <p>خیلی خوب <input type="checkbox"/> خوب <input type="checkbox"/> قابل قبول <input type="checkbox"/> نیاز به تلاش بیشتر <input type="checkbox"/> خسته نباشید</p>		