



مشاوره تحصیلی هیوا

تخصصی ترین سایت مشاوره کشور

مشاوره تخصصی ثبت نام مدارس ، برنامه ریزی درسی و آمادگی
برای امتحانات مدارس

برای ورود به صفحه مشاوره مدارس کلیک کنید

برای ورود به صفحه نمونه سوالات امتحانی کلیک کنید

تماس با مشاور تحصیلی مدارس

۹۰۹۹۰۷۱۷۸۹

تماس از تلفن ثابت

به نام خدا

دبستان شاهد شهید بهشتی

فصل پنجم

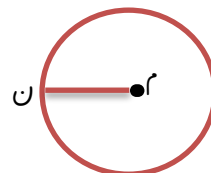
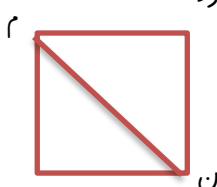
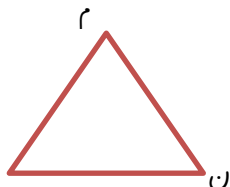
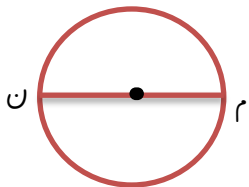
آزمون مداد کاغذی ریاضی

سال تحصیلی ۹۲-۹۳

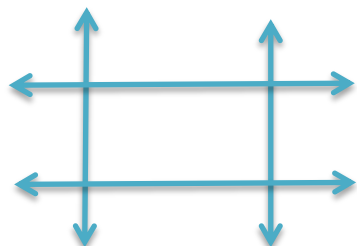
کلاس سوم ابتدایی

نام و نام خانوادگی:

۱. خط (م ن) در هر شکل چه نام دارد؟



۲. نقاطی که از برخورد چهار خط راست مقابل به وجود آمده است را نام گذاری کن.



از برخورد این چهار خط چه شکلی به وجود آمده است؟

این شکل از چند پاره خط درست شده است؟

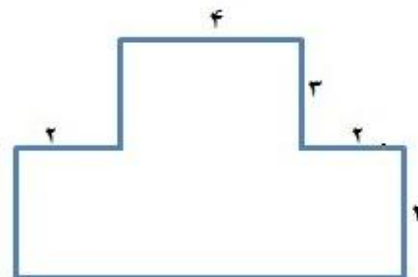

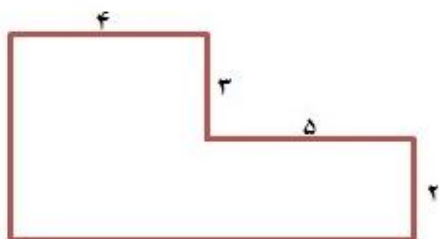
آن ها را نام ببر.....

۳.

			شکل
			نام شکل
			تعداد گوشه
			تعداد قطر

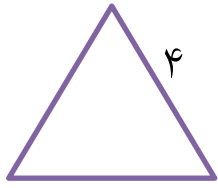


۴. محیط شکل های زیر را حساب کنید. (واحد ها به سانتی متر است)

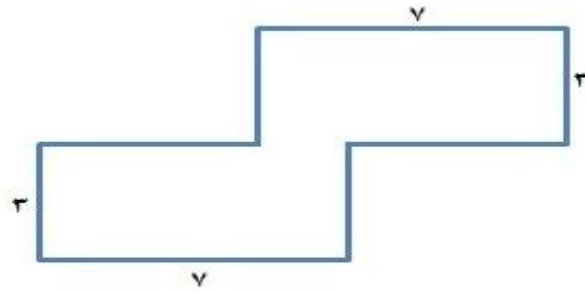
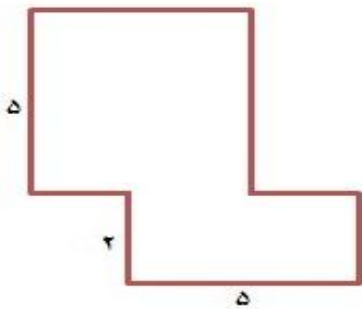


۵. طول اتاق مریم ۸ متر و عرض آن ۴ متر است. او می خواهد فرش با طول ۳ متر و عرض ۲ متر در اتاق پهن کند چه سطحی از اتاق فرش ندارد؟ **هیوا** تخصصی ترین سایت مشاوره کشور

۶. محیط شکل های زیر را با کمک ضرب بدست آورید.



۷. مساحت شکل های زیر را بدست آورید. (واحدها به متر هستند)



۸. مساحت یک فرش ۱۲ متر مربع است. اگر عرض این فرش ۳ متر باشد، طول آن چند متر است؟

۹. طول یک سالن ورزشی دو برابر عرض آن است اگر عرض آن ۱۰ باشد، مساحت سالن چند متر مربع است؟

۱۰. یک استخر مربع شکل که اندازه یک ضلع آن ۷ متر است داریم. اگر بخواهیم دور تا دور این استخر را زرده بکشیم چند متر زرده باید بکشیم؟

بازخورد آموزگار:

