



مشاوره تحصیلی هیوا

تخصصی ترین سایت مشاوره کشور

مشاوره تخصصی ثبت نام مدارس ، برنامه ریزی درسی و آمادگی
برای امتحانات مدارس

برای ورود به صفحه مشاوره مدارس کلیک کنید

برای ورود به صفحه نمونه سوالات امتحانی کلیک کنید



تماس با مشاور تحصیلی مدارس

۹۰۹۹۰۷۱۷۸۹



تماس از تلفن ثابت

۱- کارهایی که در گذشته انجام می دادی با رنگ قرمز، کارهایی که در حال انجام میدی با رنگ آبی و کارهایی که قراره در آینده انجام بدی با رنگ سبز مشخص کن.



۲- تعداد اعضای خانواده ها و نام اعضا را در زیر عکس بنویس.



۳. هادی با پدر و مادر و خواهرش زندگی می کند. مادر بزرگ و عمه اش نیز با آنها در یک خانه زندگی می کنند.

تغییراتی را که باعث کاهش تعداد اعضای خانواده هادی می شود زیرشان خط بکش.

ازدواج عمه هادی --- به دنیا آمدن یک برادر --- مرگ مادر بزرگ --- رفتن خواهر هادی به دانشگاه

۴- با توجه به جدول به سوالات جواب دهید.

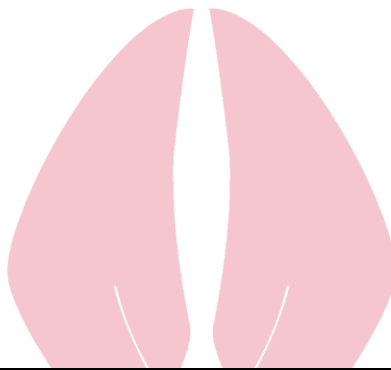
هیوا تخصصی ترین سایت مشاوره کشور

کارهای خانه	شستن ظرف ها و لباس	خرید نان	جمع کردن وسایل از خانه	جارو کشیدن	خرید وسایل از بیرون	تمیز کردن حیاط
اعضا				★	★	
مادر	★		★		★	
پدر		★	★			
خواهر			★			
مبین		★	★		★	

الف) وظیفه جمع کردن وسایل بر عهده ی کیست؟

ب) خواهر مبین چه کارهایی انجام می دهد؟

ج) تمیز کردن حیاط را چه کسی انجام می دهد؟



معیار و سنجش	تسلط کامل	خوب	کم	خیلی کم	باز خورد
ملاک و شواهد					
مفهوم زمان را درک کرده است.					
تعداد و اعضا خانواده را تشخیص می دهد					
تغییرات در خانواده را درک می کند					
وظایف اعضا خانواده را تشخیص می دهد.					
مفاهیم علوم اجتماعی را درک کرده است					

هيووا تخصصی ترین سايت مشاوره کشور

