



مشاوره تحصیلی هیوا

تخصصی ترین سایت مشاوره کشور

مشاوره تخصصی ثبت نام مدارس ، برنامه ریزی درسی و آمادگی
برای امتحانات مدارس

برای ورود به صفحه مشاوره مدارس کلیک کنید

برای ورود به صفحه نمونه سوالات امتحانی کلیک کنید

تماس با مشاور تحصیلی مدارس

۹۰۹۹۰۷۱۷۸۹



تماس از تلفن ثابت

نام و نام خانوادگی:

هیوا تخصصی ترین خدسایت مشاوره کشور

تاریخ:

شماره:

ارزشیابی پایانی فصل اول ریاضی ششم


مدت: ۴۵ دقیقه

نام معلم:


صفحه ی ۱

سطح آسان

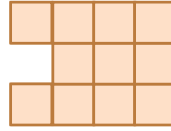
۱- با توجه به الگوی مقابل،



شکل (۱)



شکل (۲)



شکل (۳)

شکل (۵)

الف - شکل پنجم را رسم کنید.

ب رابطه ی بین تعداد مربع ها و شماره ی شکل ها را بنویسید

ج - چندمین شکل با ۲۰ مربع ساخته می شود؟

۲- چگونه می توان زوج یا فرد بودن یک عدد را مشخص کرد؟

با رسم الگویی، اعداد زوج را نشان دهید.

۳- در جای خالی کلمات مناسب بنویسید

حاصل جمع دو عدد فرد، عددی است .

بر روی محور اعداد صحیح ، هرچه به سمت پیش برویم عددها بزرگ تر می شوند .

حاصل جمع دو عدد که یکی از آنها زوج و دیگری فرد است، است .

۴- توضیح دهید که مضرب های عدد ۴ چگونه به دست می آیند؟ سپس چند مضرب آن را

بنویسید.

۵ - دور اعدادی که بر ۵ و زیر اعدادی که بر ۹ بخش پذیرند خط بکشید.

۱۰۰۰ ۵۰۱۱۲ ۱۹۹ ۲۰۷ ۲۲۵ ۶۹ ۳۶

۶- سه عدد کوچک تر از ۵۰ بنویسید که بر هیچ یک از اعداد ۲، ۳ و ۵ بخش نباشد .

نام و نام خانوادگی:

به نام خدا
هیوا تخصصی ترین سایت مشاوره کشور
ارزشیابی پایانی فصل اول ریاضی ششم

تاریخ:

شماره:

مدت: ۴۵ دقیقه

نام معلم:

صفحه ی ۲

۷- با کارت های



هر یک از اعداد خواسته شده را بسازید و جاهای خالی را پر کنید.

به حروف

به رقم

الف - کوچک ترین عدد ده رقمی

ب - کوچک ترین عدد ۶ رقمی زوج

۸ اعداد زیر را مقایسه کنید و علامت مناسب $< = >$ قرار دهید.

$$-۳ \square \circ$$

$$+۱ \square \circ$$

$$-۵ \square -۲$$

$$+۱ \square +۲$$

$$\circ \square -۵$$

$$۱ - \square ۱$$

$$-۵ \square +۴$$

۹- اعداد زیر را از کوچک به بزرگ مرتب کنید.

$$+۸۰, -۱, +۱, ۰, -۱۲, -۵, +۳۰, -۸۰$$

۱۰- با استفاده از محور، هر یک از الگوهای زیر را ادامه دهید.

$$, , , , , +۴, +۶, +۸, +۱۰$$

$$, , , , , -۱۵, ۰, -۲۰, -۲۵$$

۱۱- عدد چهل و نه میلیون و هشتصد و هفت را به رقم بنویسید.

به صورت گسترده بنویسید.

اگر آن را در ۱۰۰ ضرب کنید، ارزش مکانی رقم ۸ چه تغییری می کند؟

۱۲- برای عبارت $۱۰۰۰۹۲ - ۳۴۰۰۶۷$ مسئله ای طرح و آن را حل کنید.

www.Heyvagroup.com