



# مشاوره تحصیلی هیوا

تخصصی ترین سایت مشاوره کشور

مشاوره تخصصی ثبت نام مدارس ، برنامه ریزی درسی و آمادگی  
برای امتحانات مدارس

برای ورود به صفحه مشاوره مدارس کلیک کنید

برای ورود به صفحه نمونه سوالات امتحانی کلیک کنید

تماس با مشاور تحصیلی مدارس

۹۰۹۹۰۷۱۷۸۹



تماس از تلفن ثابت

## به نام خداوند جان و خرد


نام زیبای تو : .....

۱- قاصدکم الگوهای عددی زیر را ادامه بده.


 ۱ - ۳ - ۴ - ..... - ..... - ..... - .....

..... - ..... - ..... - ..... - دویست و نود و هفت - دویست و نود و هشت

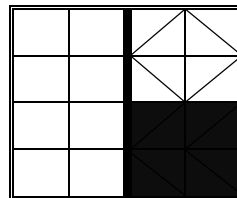
۲- شاپرکم بنیامین برای خرید دفتر به ۵۶۹ ریال پول احتیاج دارد. با رنگ کردن سکه به او کمک کن تا این مقدار پول را جدا کند.



۳- ریاضیدان کوچک من حاصل جمع و تفریق های زیر را به صورت تقریبی بدست بیاور.

$$\begin{array}{r}
 55 \\
 + 32 \\
 \hline
 \end{array}
 \begin{array}{l}
 \rightarrow \dots \\
 \rightarrow \dots \\
 \dots
 \end{array}$$

۴- عزیزم با توجه به خط تقارن قسمت های دیگر شکل را کامل کن .



۵- نازنینم ابتدا با کمک شابلون در کادر روبه رو یک مربع و یک مستطیل بکش و سپس تفاوت ها و شباهت های آنها را بنویس.



تفاوت : .....

شباهت: .....

۶- پسر گلم با توجه به کارت های ۹ و ۷ و ۲ هر چه می توانی عدد سه رقمی بساز و به سوالات

پاسخ بده.

یکان	دهگان	صدگان

\* رقم دهگان کدام اعداد ۹ است ؟ .....

۷- عزیزم باز شده ی اعداد زیر را بنویس.


$$۱۱۵ =$$

$$۹۸۶ =$$

۸- فرزندم اعداد زیر را با حذف رقم یکان (و قراردادن صفر بجای آن) بنویس.

$$۹۹۹ =$$

$$۱۳۶ =$$



۹- نازنینم ساعت چند است؟ .....

\* نیم ساعت بعد چه ساعتی است؟ .....

۱۰- شاپرکم به سوالات زیر پاسخ بده.

\* ۸ سکه ی ۱۰ ریالی چند ریال می شود؟ .....

\* ۵ سکه ی ۱ ریالی چند ریال می شود؟ .....



# پیاموز | Biamoz.com

بزرگترین مرجع آموزشی و نمونه سوالات درسی تمامی مقاطع

شامل انواع | نمونه سوالات | فصل به فصل | پایان ترم | جزوه |

ویدئوهای آموزشی | گام به گام | طرح درس | طرح جابر | و ...

اینستاگرام

گروه تلگرام

کانال تلگرام

برای ورود به هر پایه در سایت ما روی اسم آن کلیک کنید

## دبستان

اول	دوم	سوم	چهارم	پنجم	ششم
-----	-----	-----	-------	------	-----

## متوسطه اول

هفتم	هشتم	نهم
------	------	-----

## متوسطه دوم

دهم	یازدهم	دوازدهم
-----	--------	---------