

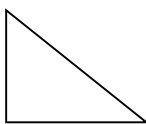
نام و نام خانوادگی: به نام خدا

آزمون مدادکاغذی ریاضی تاریخ: ۱۳۹۱ / ۱۰ / ۵

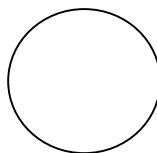
۱- نام شکل های زیر را بنویس.



.....



.....





.....



.....

۲- عزیزم به دو شکل زیر با دقت نگاه کن و شباهت ها و تفاوت های هر کدام را بنویس.




شباهت ها:

.....
.....

تفاوت ها:


۳- با استفاده از شابلون یک شکل بکش که ۶ گوشه داشته باشد.

۴- در هر شکل زیر خط «م» ، «د» چه نام دارد . و گوشه های شکل زیر را با مداد قرمز مشخص کن.




نام خط:

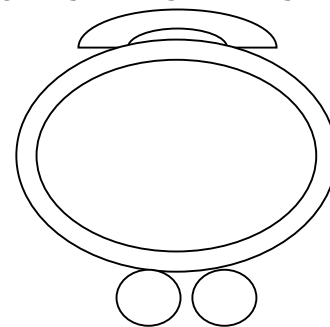
۵- عقربه های هر ساعت را بکش.



یک ربع مانده به ساعت ۱۰

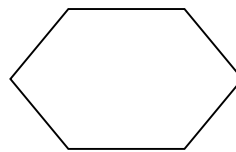
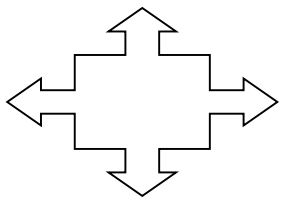


ساعت ۵ و نیم



ساعت ۷ و ۴۲ دقیقه

۶- با کشیدن ۲ خط هر شکل را به ۴ قسمت خاصی تقسیم کنایت مشاوره کشور

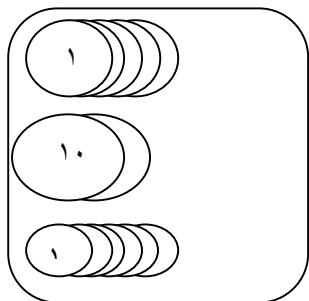


۷- با استفاده از ساعت آموزشی به سوالات زیر پاسخ بده.

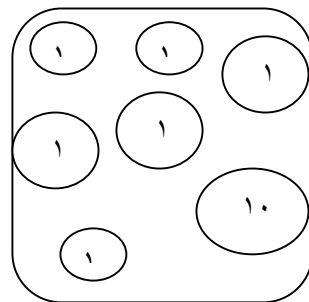
یک ربع بعد از ساعت ۱۰ و ۲۰ دقیقه

یک ساعت و نیم قبل از ساعت ۲

۸- در هر کادر چند ریال سکه وجود دارد؟



.....ریال



.....ریال

۹- جاهای خالی را پر کن.

۷ سکه ۱ ریالی چند ریال می شود؟

۵ سکه ۱۰ ریالی چند سکه ۱ ریالی می شود؟

۱۰- جمع و تفریق های زیر را کامل کن.

$100 - 50 =$

$100 - 20 =$

$50 + 50 =$

$30 + 70 =$

۱۱- رضا برای خرید گل ۷ سکه ۱۰ ریالی و ۵ سکه ۱ ریالی به گل فروش داد. او چه قدر پول داد؟

« پیروز و موفق باشید »

www.Heyvagroup.com