



مشاوره تحصیلی هیوا

تخصصی ترین سایت مشاوره کشور

مشاوره تخصصی ثبت نام مدارس ، برنامه ریزی درسی و آمادگی
برای امتحانات مدارس

برای ورود به صفحه مشاوره مدارس کلیک کنید

برای ورود به صفحه نمونه سوالات امتحانی کلیک کنید

تماس با مشاور تحصیلی مدارس

۹۰۹۹۰۷۱۷۸۹



تماس از تلفن ثابت

نام و نام خانوادگی :

نام پدر:

آموزشگاه:

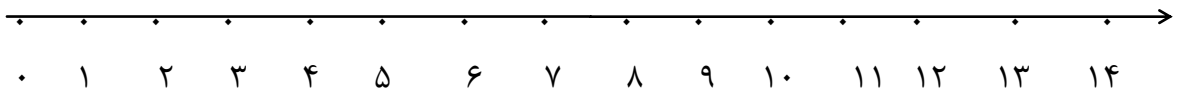
۱- عدد ۳۹۸ چند رقمی است؟ با رقم های آن یک عدد سه رقمی دیگر بنویس

۲- عددی سه رقمی بنویسید که یکانش ۸ و دهگانش ۷ و صدگانش دو تا کم تر از دهگان باشد؟

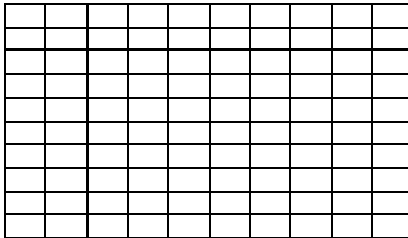
۳- چهار تساوی از جمع های عدد ۶ را بنویسید .

۴- حاصل عبارت زیر را با کمک محور اعداد به دست آورید.

$$۱۴ - ۵ + ۶ =$$



۵- با رنگ کردن ۱۰ خانه از خانه های شطرنجی زیر شکل های مختلف درست کنید . هر بار از یک مداد رنگ استفاده کنید . چند دسته ده تایی درست کرده اید؟



۶- حاصل عبارت های زیر را به دست آورید .

$۷ + ۶ =$

$۱۵ - ۷ =$

$۹ + ۸ =$

$۱۸ - ۹ =$

۷- جدول را کامل کنید .

نود و هشت	صد و شصت		
	۵۱۲	۲۰۲	

۸- حاصل جمع و تفریق زیر را از راه فرآیندی یا جدول به دست آورید .

$$\begin{array}{r} ۵۷ \\ + ۳۹ \\ \hline \end{array}$$

+

.....

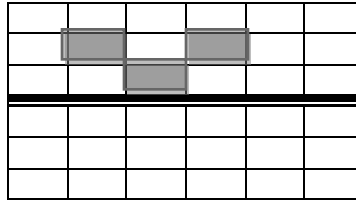
$$\begin{array}{r} ۹۲ \\ - ۲۶ \\ \hline \end{array}$$

-

.....

۹- احمد ساعت ۵:۲۰ از مدرسه تعطیل شد و یک ساعت و ده دقیقه بعد به خانه رسید . چه ساعتی به خانه رسیده است؟

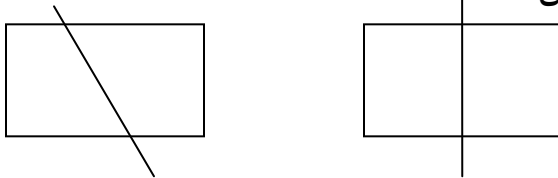
۱۰- نیمه دیگر شکل را بکشید.



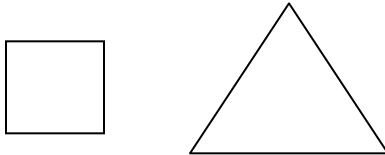
۴۰-۴۵-۵۰
 ۱۲-۱۳-۱۵

۱۱- الگو را ادامه دهید.

۱۲- خط تقارن کدام شکل صحیح است آن را رنگ بزن.




۱۳- به شکل ها نگاه کن و آن ها را با هم مقایسه کن.



تفاوت :
 شباهت :

۱۴- وسط ضلع ها را مشخص کن و سپس به هم وصل کن.



۱۵- علی سه سکه ی ۱۰۰ ریالی و دو سکه ی ۱۰ ریالی دارد او چند ریال دارد ؟

۱۶- ابتدا اعداد را با حذف در یکان و دهگان به تقریب برسانید سپس جمع و تفریق را انجام دهید

$$\begin{array}{r}
 - ۷۲۶ \quad \longrightarrow \quad - \dots\dots\dots \quad + ۵۸۹ \quad \longrightarrow \quad + \dots\dots\dots \\
 ۲۱۴ \quad \longrightarrow \quad \dots\dots\dots \quad ۳۴۲ \quad \longrightarrow \quad \dots\dots\dots \\
 \hline \qquad \qquad \qquad \hline \qquad \qquad \qquad \hline \qquad \qquad \qquad \hline \qquad \qquad \qquad \hline
 \end{array}$$

۱۷- دبستان علوی دو کلاس دوم دارد که هر یک ۲۸ دانش آموز دارد این دو کلاس چند دانش آموز دارد ؟

باز خورد توصیفی معلم : نظر اولیا : گروه های آموزشی

پیاموز | Biamoz.com

بزرگترین مرجع آموزشی و نمونه سوالات درسی تمامی مقاطع

شامل انواع | نمونه سوالات | فصل به فصل | پایان ترم | جزوه |

ویدئوهای آموزشی | گام به گام | طرح درس | طرح جابر | و ...

اینستاگرام

گروه تلگرام

کانال تلگرام

برای ورود به هر پایه در سایت ما روی اسم آن کلیک کنید

دبستان

اول	دوم	سوم	چهارم	پنجم	ششم
-----	-----	-----	-------	------	-----

متوسطه اول

هفتم	هشتم	نهم
------	------	-----

متوسطه دوم

دهم	یازدهم	دوازدهم
-----	--------	---------