



137F

کد کنترل

137

F

آزمون (نیمه‌متمرکز) ورود به دوره‌های دکتری - سال ۱۴۰۱**دفترچه شماره (۱)**

صبح جمعه ۱۴۰۰/۱۲/۶



«اگر دانشگاه اصلاح شود مملکت اصلاح می‌شود.»

امام خمینی (ره)

جمهوری اسلامی ایران
وزارت علوم، تحقیقات و فناوری
سازمان سنجش آموزش کشور**رشته باستان‌شناسی
(کد ۲۱۷۶)**

جدول مواد امتحانی، تعداد، شماره سؤال‌ها و زمان پاسخ‌گویی

زمان پاسخ‌گویی	تا شماره	از شماره	تعداد سؤال	مواد امتحانی
۱۲۰ دقیقه	۸۰	۱	۸۰	مجموعه دروس تخصصی: - دوره پیش از تاریخ و دوران تاریخی ایران (ایلام - مادها - هخامنشی - اشکانی - ساسانی) - دوران اسلامی (معماری و شهرسازی - هنرها - فنون و صنایع - خطوط و کتابت) - مبانی باستان‌شناسی (تاریخچه - نظریات - روش‌ها و فنون)

استفاده از ماشین حساب مجاز نیست.

این آزمون نمره منفی دارد.

* متقاضی گرامی، وارد نکردن مشخصات و امضا در کادر زیر، به منزله غیبت و حضور نداشتن در جلسه آزمون است.

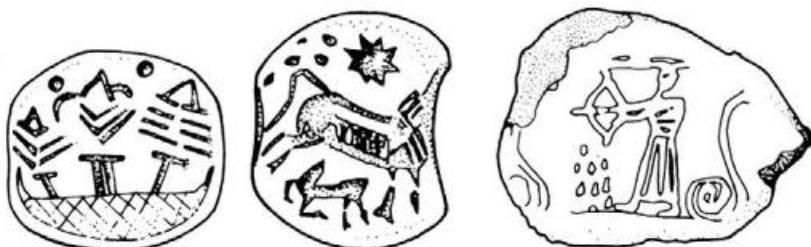
اینجانب با شماره داوطلبی با آگاهی کامل، یکسان بودن شماره صندلی خود را با شماره داوطلبی مندرج در بالای کارت ورود به جلسه، بالای پاسخ‌نامه و دفترچه سؤال‌ها، نوع و کد کنترل درج شده بر روی دفترچه سؤال‌ها و پایین پاسخ‌نامه‌ام را تأیید می‌نمایم.

امضا:

- ۱- در کدام غار، شواهد تداوم استقرار از دوره پارینه‌سنگی میانی به پارینه‌سنگی جدید وجود دارد؟
(۱) کمر بند (۲) گمیشان (۳) هوتو (۴) وارواسی
- ۲- کدام گزینه در مورد تکنیک «لوالوا» در مصنوعات سنگی غار کلدر درست است؟
(۱) در لایه II تغییرات تکنولوژیکی از تیغه به ریزتیغه در حدود ۳۵۰۰۰ سال قبل رخ داد.
(۲) در لایه VII تغییرات تکنولوژیکی از تیغه به ریزتیغه در حدود ۶۰۰۰۰ سال قبل رخ داد.
(۳) در لایه III تغییرات تکنولوژیکی از تیغه به ریزتیغه در حدود ۳۵۰۰۰ سال قبل رخ داد.
(۴) در لایه V تغییرات تکنولوژیکی از تیغه به ریزتیغه در حدود ۵۰۰۰۰ تا ۲۳۰۰۰ سال قبل رخ داد.
- ۳- فرهنگ علی‌آباد، بیانگر کدام حوزه فرهنگی ایران است و از چه تاریخی شروع می‌شود؟
(۱) منطقه کرمان، ۳۳۰۰ - ۴۰۰۰ ق.م
(۲) شمال شرق ایران، ۴۰۰۰ - ۴۵۰۰ ق.م
(۳) فلات مرکزی، ۳۵۰۰ - ۴۰۰۰ ق.م
(۴) شمال غرب، ۳۵۵۰ - ۴۰۰۰ ق.م
- ۴- قدیمی‌ترین مس ذوب شده دارای آرسنیک در کدام محوطه به‌دست آمد و تاریخ آن مربوط به چه دوره‌ای است؟
(۱) تپه قبرستان - ۴۵۰۰ ق.م
(۲) تل ابلیس - نیمه اول هزاره پنجم ق.م
(۳) تپه سیلک - نیمه اول هزاره پنجم ق.م
(۴) تپه یحیی - ربع چهارم هزاره پنجم ق.م
- ۵- سفال معروف **Caspian Black on Red Ware** مربوط به چه زمانی است و کدام حوزه فرهنگی ایران را دربرمی‌گیرد؟
(۱) هزاره سوم ق.م - شمال ایران
(۲) هزاره سوم ق.م - شمال غرب ایران
(۳) اواخر هزاره چهارم ق.م - شمال شرق ایران
(۴) نیمه اول هزاره چهارم ق.م - شمال غرب ایران
- ۶- واژه تمدن هلمند، کدام حوزه جغرافیایی ایران را در برمی‌گیرد؟
(۱) شرق ایران - موندیگاگ
(۲) شمال غرب ایران - گودین
(۳) شرق ایران - جیرفت
(۴) شمال شرق ایران - دشت گرگان
- ۷- مدیریت منابع غذایی، مشخصه کدام دوره است؟
(۱) فراپارینه سنگی (۲) نوسنگی انتقالی (۳) نوسنگی قدیم (۴) نوسنگی میانی
- ۸- کدام محوطه‌ها، حاوی شواهد دوره نوسنگی انتقالی در غرب ایران هستند؟
(۱) آسیاب - گوران - چغاگلان
(۲) چغاگلان - آسیاب - شیخی‌آباد
(۳) گنج دره - عبدالحسین - چیا سبز شرقی
(۴) چیا سبز شرقی - گوران - شیخی‌آباد
- ۹- برجسته‌ترین طرفدار نظریه‌های پیچیدگی اجتماعی در مباحث فرایند نوسنگی شدن، چه کسی است؟
(۱) برایان هایدن (۲) رابرت بریدوود (۳) گوردون چایلد (۴) لوئیس بینفورد
- ۱۰- چه کسی برای اولین بار دوره پارینه‌سنگی زیرین را در زاگرس مرکزی شناسایی کرد؟
(۱) کنت فلانری (۲) فرانک هول (۳) رابرت بریدوود (۴) پدرومورتسن

- ۱۱- کدام یک، از ویژگی‌های دوره فرایارینه‌سنگی به‌شمار نمی‌آید؟
 (۱) تولید تیغه (۲) تولید ریزتیغه
 (۳) طیف وسیع اقتصادی (۴) ساخت دست‌افزارهای ترکیبی
- ۱۲- فرایند گرمادهی سنگ خام به‌منظور تولید مصنوعات سنگی با چه هدفی انجام شده است؟
 (۱) صرفاً برای آماده‌سازی سنگ مادرهای لاک‌پشتی (۲) تولید با استفاده از فناوری فشار
 (۳) سهولت تولید با استفاده از فناوری ضربه (۴) ساخت هسته ابزارهای درشت به روش ضربه
- ۱۳- قیر اندود کردن جداره داخلی اغلب سفال‌ها به‌منظور مقاوم‌سازی در برابر نشت مایع، در سفالگری کدام محوطه گزارش شده است؟
 (۱) تپه بندبال - لایه‌های ۲۲ تا ۱۱ (۲) تپه شوش - لایه‌های طبقه D
 (۳) تپه جعفرآباد - لایه‌های ۶ تا ۴ (۴) تپه جوی - لایه‌های ۸ تا ۱
- ۱۴- در کدام لایه‌های آکروپل ۲ (صفت مرتفع آکروپل شوش) آثار دوران شوش I یا A شناسایی شده است؟
 (۱) لایه‌های ۷ تا ۱ (۲) لایه‌های ۸ تا ۴ (۳) لایه‌های ۱۱ تا ۷ (۴) لایه‌های ۱۰ تا ۴
- ۱۵- طبق دیدگاه «ویلیام سامنر» اولین مدارک قانع‌کننده از تغییر شیوه کشت دیم به آبی در کدام فاز حوزه رود کر شناسایی شده است؟
 (۱) باکون A (۲) شمس‌آباد (۳) موشکی و جری (۴) بانس قدیم
- ۱۶- براساس نظریه جان آلدن (Alden) در دوره شوش III A محوطه شوش چند هکتار داشت؟
 (۱) ۵ (۲) ۱۰ تا ۱۱ (۳) ۲۵ (۴) ۳۰
- ۱۷- دوره آغاز عیلامی تپه یحیی، مربوط به کدام لایه است؟
 (۱) II (۲) III (۳) IVC (۴) VIII
- ۱۸- در محوطه باستانی شوش، چند لوح آغاز عیلامی به‌دست آمد؟
 (۱) ۳۸۰ (۲) ۱۰۰۰ (۳) ۱۵۶۰ (۴) ۲۰۰۰
- ۱۹- کدام گزینه درباره پدیده اقلیمی ۴/۲k درست است؟
 (۱) باعث گرم و مرطوب شدن ایران در هزاره چهارم ق. م و افزایش قابل توجه جمعیت در جنوب غربی ایران شد.
 (۲) از هزاره چهارم ق. م شروع شد، یک دوره فراوانی و حاصلخیزی ایجاد کرد و باعث افزایش جمعیت در ایران شد.
 (۳) از نیمه دوم هزاره دوم ق. م شروع شد و خشکسالی بر نواحی شرق، شمال شرق و مرکز فلات ایران تأثیر گذاشت.
 (۴) باعث خشکسالی و متروک شدن بخش‌هایی از ایران در هزاره چهارم ق. م شد.
- ۲۰- کدام مورد درباره اهلی شدن گاو درست است؟
 (۱) در چپاسبز اهلی شد و پدیده بومی است.
 (۲) در گنج‌دره اهلی شد اما پدیده‌ای غیربومی است.
 (۳) در لایه محمدجعفر اهلی شد و پدیده بومی است.
 (۴) در ایران اهلی نشد و در دوره CMT از غرب ایران وارد سرزمین ایران شد.
- ۲۱- در شهر باستانی شوش، دوره شوش II در چه مقطع زمانی به پایان می‌رسد؟
 (۱) در لایه ۱۷A حدود ۳۱۰۰ ق. م از میلاد این دوره به پایان می‌رسد.
 (۲) در حدود ۳۳۰۰ ق. م شوش II به پایان می‌رسد و از لایه ۱۸ دوره آغاز عیلامی، شروع می‌شود.
 (۳) در حدود ۳۴۰۰ ق. م شوش II به پایان می‌رسد و از لایه ۱۸ تغییرات اساسی و دوره آغاز عیلامی شروع می‌شود.
 (۴) در لایه‌نگاری آکروپل I در حدود ۳۲۰۰ ق. م طبقه ۱۷A به پایان رسیده و یک دوره جدید با لوحه‌های جدید آغاز می‌شود.

- ۲۲- در کدام یک از مناطق جغرافیایی ایران، شواهد آغاز عیلامی به دست نیامد؟
 (۱) شمال غرب (۲) فلات مرکزی (۳) شرق ایران (۴) جنوب غرب ایران
- ۲۳- در کدام لایه از تپه سیلک جنوبی آتش‌سوزی رخ داد و رومن گیرشمن چند مهر استوانه‌ای آغاز عیلامی در آن کشف کرد؟
 (۱) III_۲ - ۸ عدد (۲) III_{۱-۳} - ۸ عدد (۳) III_{۴-۵} - ۸ عدد (۴) III_{۶-۷} - ۶ عدد
- ۲۴- نخستین شواهد آتش‌سپاری اجساد در ایران در کدام محوطه به دست آمد؟
 (۱) یاریم تپه - هزاره چهارم ق.م (۲) سیلک - دوره نوسنگی
 (۳) تپه یحیی - هزاره چهارم ق.م (۴) شهر سوخته - هزاره سوم ق.م
- ۲۵- فاز ۳ غار حاج بهرامی، متعلق به کدام دوره زمانی است؟
 (۱) ۱۰۰۰۰ - ۷۴۰۰ ق.م (۲) ۸۸۰۰ - ۸۰۰۰ ق.م
 (۳) ۹۰۰۰ - ۸۵۰۰ ق.م (۴) ۱۲۰۰۰ - ۱۰۰۰۰ ق.م
- ۲۶- کدام بازه زمانی را می‌توان برای ایلام نو III در نظر گرفت؟
 (۱) ۷۴۶-۵۳۹ ق.م (۲) ۷۶۴-۵۵۹ ق.م
 (۳) ۶۷۴-۵۵۹ ق.م (۴) ۶۴۷-۵۳۹ ق.م
- ۲۷- آجرهای کتیبه‌دار تل ملیان به ترتیب، توسط چه کسانی کشف و قرائت شد؟
 (۱) رایتر، والا (۲) سامنر، کامرون (۳) سامنر، رایتر (۴) رایتر، پاتس
- ۲۸- ساخت عبارت «ایلام»، منسوب به کدام یک است؟
 (۱) کاتبان اکدی (۲) کاتبان ایلامی
 (۳) کاتبان سومری (۴) نویسندگان یونانی
- ۲۹- طبق دیدگاه پاتس، به منظور ارائه مقدمه درباره فرهنگ آغاز ایلامی، چه محوطه‌هایی را باید مطالعه کرد؟
 (۱) شوش، تل موشکی و تل جری (۲) شوش، تل باکون و تل ملیان
 (۳) تل باکون، تل موشکی و تل نخودی (۴) تل ملیان، تل نخودی و شوش
- ۳۰- شیل و پاتس، به ترتیب، متون مکشوفه از شوش (استقرار ایلامی) را چه نامیدند و شیل معتقد بود در نظام نگارشی متون ایلامی قدیم، از چه متونی الهام گرفته شده است؟
 (۱) آغاز ایلامی - شوش III - آغاز ایلامی (۲) شوش III - ماورای ایلامی - آغاز ایلامی
 (۳) ماورای ایلامی - شوش III - شوش III (۴) ماورای ایلامی - آغاز ایلامی - شوش III
- ۳۱- کدام محوطه‌های منسوب به دوره ماد، دارای حصار مدور هستند؟
 (۱) ازبکی، موش تپه (۲) ازبکی، گونسپان تپه
 (۳) گودین، هگمتانه (۴) گودین، گونسپان تپه
- ۳۲- مهرهای مقابل، مربوط به کدام محوطه مادی است؟
 (۱) سیلک ب (۲) تپه حاجی‌خان
 (۳) باباجان تپه (۴) نوشیجان تپه



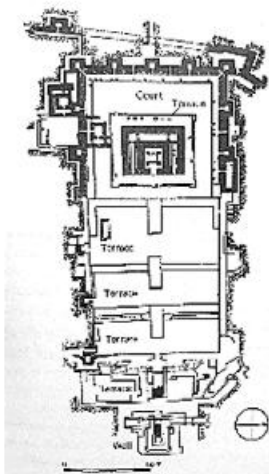
- ۳۳- تفاوت مهم قبرهای گوردخمه قیزقاپان با انواع آرامگاه‌های شاهان هخامنشی کدام است؟
 (۱) قبرهای قیزقاپان بیضوی شکل هستند اما قبرهای هخامنشی مستطیل شکل هستند.
 (۲) قبرهای قیزقاپان در سطح کف، کنده شده اما قبرهای هخامنشی بر بلندی و سطح سکو است.
 (۳) در ساخت قبرهای قیزقاپان از شانه سنگ‌تراشی استفاده نشده اما در قبرهای هخامنشی استفاده شده است.
 (۴) قبرهای قیزقاپان روباز و فاقد درپوش سنگی بودند اما قبرهای هخامنشی دارای درپوش سنگی هستند.
- ۳۴- گنجینه نوشیجان از کدام بنای این محوطه به دست آمده، شامل چند قطعه است و تاریخ احتمالی دفن آن کدام است؟
 (۱) قلعه، ۲۱۳ قطعه طلائی، ۶۰۰-۶۵۰ ق.م
 (۲) قلعه، ۲۳۱ قطعه نقره‌ای، ۵۷۵-۶۵۰ ق.م
 (۳) معبد مرکزی، ۲۳۰ قطعه نقره‌ای، ۵۵۰-۶۵۰ ق.م
 (۴) تونل تالار ستون‌دار، ۲۳۰ قطعه نقره‌ای، ۶۵۰-۷۵۰ ق.م
- ۳۵- کدام محوطه منسوب به دوره ماد، دارای تالار مشابه با تالارهای هخامنشی با چهار برج در چهار گوشه است؟
 (۱) ازبکی (۲) باباجان (۳) گودین (۴) نوشیجان
- ۳۶- کدام گزینه در ارتباط با ویژگی‌های سبک درباری در مهرهای دوره هخامنشی درست است؟
 (۱) صحنه شکار پادشاه، اشخاصی با لباس پارسی و گوی بالدار
 (۲) نقش پادشاهان هخامنشی، حیوانات افسانه‌ای و انسان بالدار
 (۳) نماد گوی یا انسان بالدار، حیوانات افسانه‌ای و درختان نخل
 (۴) نماد گوی یا انسان بالدار، اشخاصی با لباس پارسی و درختان نخل
- ۳۷- کدام گزینه در ارتباط با اشکال شاخص در ساخته‌های فلزی دوره هخامنشی درست است؟
 (۱) ظروف لاله‌ای شکل، بشقاب‌های طلائی، دستبندها و بازوبندها، تزیینات مرصع کاری شده
 (۲) ظروف لاله‌ای شکل، ظروف با دسته حیوانی شکل، پلاک‌های نذری، تزیینات مرصع کاری شده
 (۳) ظروف لاله‌ای شکل، ظروف با دسته حیوانی شکل، دستبندهایی با دو سر حیوانی شکل، ریتون
 (۴) کاسه‌های طلائی، ظروف با دسته حیوانی شکل، دستبندهایی با دو سر حیوانی شکل، تزیینات شخصی
- ۳۸- کارکرد سه بنای مهم دهانه غلامان (شماره ۳، شماره ۲ و شماره ۱۵) به ترتیب کدام است و تاریخ احتمالی ساخت و استفاده از آن در چه قرن (قرون) قبل از میلاد است؟
 (۱) مذهبی، خدماتی، مذهبی - ششم
 (۲) خدماتی، مذهبی، تشریفاتی - پنجم
 (۳) اداری، مذهبی، خدماتی و کارگاهی - چهارم تا سوم
 (۴) مذهبی، اداری، خدماتی و کارگاهی - ششم تا پنجم
- ۳۹- ایوان بزرگ به طول حدود ۷۲ متر با نیمکت سنگی و سکوی تختگاه مربوط به کدام بنای هخامنشی است؟
 (۱) تالار آپادانای شوش
 (۲) کاخ بارعام پاسارگاد
 (۳) کاخ اختصاصی پاسارگاد
 (۴) تالار آپادانای تخت جمشید
- ۴۰- کدام گزینه در ارتباط با نام‌های مختلف تخت‌جمشید به ترتیب در دوره‌های مختلف درست است؟
 (۱) پارسه، پرسه‌پلیس، صدستون، چهل‌ستون یا چهل منار، قصر جمشید، تخت‌جمشید
 (۲) پرسه‌پلیس، دژنشت، صدستون، چهل‌ستون یا چهل منار، تخت‌جمشید
 (۳) پرسه‌پلیس، شهر پارسیان، صدستون، چهل‌ستون یا چهل منار، تخت‌جمشید
 (۴) پارسه، پرسه‌پلیس، چهل‌ستون یا چهل‌منار، تخت‌جمشید، قصر جمشید
- ۴۱- نام حاکم شهر لائودیسه هم‌زمان با آنتیوخوس یکم پادشاه سلوکی چه بوده است؟
 (۱) مندوس (۲) هوسپائوسین (۳) دیمتریوس (۴) کامناسکیر

۴۲- آنتیوخوس یکم در استوانه بوریسیا، چه هدفی را دنبال می‌کرده است؟

- (۱) مارشری شدن
(۲) مشروعیت سیاسی
(۳) کاهن اعظم شدن
(۴) تسلط بر سرزمین‌های شرقی
- ۴۳- در کدام محوطه باستانی، اشمیت، یک پادگان نظامی از اواخر دوره اشکانی را کاوش کرده است؟
(۱) تپه ناریشان
(۲) تورنگ تپه
(۳) تپه‌های قومس
(۴) یاریم تپه

۴۴- شیوه تدفین در چشمه‌سار تخت جمشید به چه شکل بوده است؟

- (۱) تابوتی
(۲) خمره‌ای
(۳) گوردخمه
(۴) سردابه‌ای
- ۴۵- پلان مقابل، مربوط به کدام محوطه هم‌زمان با دوره اشکانی است؟



- (۱) آی خانم
(۲) تاکسیلا
(۳) سرخ کتل
(۴) کوه خواجه

۴۶- ویسهوفر، با تکیه بر سکه‌ها، چه کسی را پادشاه مستقل پارس دانسته است؟


- (۱) تیسافرن
(۲) وهبرز
(۳) ولخش (بلاش)
(۴) ودفرداد اول (فرهاد)
- ۴۷- کدام شاه ساسانی برای نخستین بار، لقب شاه ایران و انیران را روی سکه‌های خود ضرب کرد؟

- (۱) هرمزد اول
(۲) شاپور اول
(۳) بلاش اول
(۴) اردشیر بابکان

۴۸- براساس گزارش جغرافی‌نگاران دوره اسلامی مانند ابن بلخی و اصطخری، منار (طربال) فیروزآباد چه عملکردی داشته است؟

- (۱) برج دیده‌بانی
(۲) جایگاه آب
(۳) جایگاه آتش
(۴) نقطه پرگار

۴۹- تصویر مقابل، پلان کدام بنای ساسانی است؟



- (۱) ایوان کرخه
(۲) بیشاپور
(۳) طاق کسری
(۴) کاخ دامغان

۵۰- کاوش‌های شهر استخر، توسط کدام باستان‌شناسان صورت گرفته است؟

- (۱) هرتسفلد و اشمیت
(۲) گیرشمن و اشمیت
(۳) گیرشمن و استروناخ
(۴) استروناخ و هرتسفلد

۵۱- عبارت زیر به کدام یک از موارد روش‌شناختی مرتبط با رویکرد باستان‌شناسی فضایی (فضاها) دلالت دارد؟
 «در مقیاس یک محوطه انجام می‌شود و مدل‌های اجتماعی و معماری در آن مورد استفاده است. در این مطالعات فضای عمومی و عوامل فرهنگی و اجتماعی از عوامل اقتصادی اهمیت بیشتری دارند، اما موقعیت اقتصادی بیشتر نمایان می‌شود.»

- (۱) مدل مکان مرکزی
 (۲) مطالعات سطح خرد
 (۳) مطالعات سطح کلان
 (۴) مطالعات سطح شبه‌خرد

۵۲- کدام گزینه در ارتباط با کاخ‌های صفوی درست است؟

- (۱) کاخ چهل ستون قزوین به شکل کوشکی هشت ضلعی در سه طبقه ساخته شده است.
 (۲) در زمان سلطنت شاه سلیمان صفوی تالاری با هجده ستون چوبی به طبقه سوم کاخ عالی‌قاپو اضافه شده است.
 (۳) کاخ آینه از کاخ‌های معدوم‌شده صفوی در اصفهان به کاخ هشت بهشت شباهت داشته است.
 (۴) کاخ‌های دمبی، آب گرم و کبوتردره از جمله کاخ‌های صفوی قرار گرفته در مسیر اصفهان به فرخ‌آباد ساری و بهشهر هستند.

۵۳- عبارت زیر به کدام یک از حکومت‌های محلی ایران اشاره دارد؟

- «در ناحیه دیلم به مرکزیت رودبار الموت حکومت می‌کردند. دوره حکومت آن‌ها اواخر قرن دوم تا قرن پنجم ه. ق بود.»
 (۱) آل مسافر (۲) جستانیان (۳) روادیان (۴) هاشمیان

۵۴- نوع خط مقابل کدام است؟

- (۱) توفیع
 (۲) دیوانی
 (۳) رقی
 (۴) ثلث
- اَنْ كُفِّرَ لَكَ عِبَادًا، وَ كَفَىٰ فِي فَجْرٍ اَنْ يَكُوْنُ لَكَ تَبَا، اَنْتَ
 كَمَا اَجَبَ فَاَجْعَلْنِي كَمَا اَحْبَبُ وَقَالَ عَلَيْهِ السَّلَامُ

۵۵- تکنیک ترصیع کاری روی سفال با استفاده از قطعات لعاب فیروزه‌ای یا لاجوردی در کدام دوره اسلامی، رواج بیشتری داشته است؟

- (۱) ایلخانی (۲) تیموری (۳) صفوی (۴) قاجاریه

۵۶- دو مسجد قزوین و قطبیه به ترتیب در کدام شهرها قرار دارند؟

- (۱) فاس و مراکش (۲) الجزیره و طلیطله (۳) المریه و مدینه‌الزهرا (۴) مراکش و المریه

۵۷- دو بنای مناره سوق‌الغازی و آرامگاه امام دُر به ترتیب در کدام شهرها قرار دارند؟

- (۱) دهلی و غزنی (۲) رقه و اسوان (۳) بغداد و سامرا (۴) قاهره و دمشق

۵۸- یکی از اولین شهرهای شناخته‌شده ایرانی که در آن سکه‌های درهم اسلامی دورهٔ اموری ضرب شد، چه نام دارد؟

- (۱) ابرشهر (۲) بلخ (۳) تستر (۴) شق‌التیمره

۵۹- کلماتی مانند النصر، الیمن و السعاده روی سکه‌های کدام حکومت دیده می‌شود؟

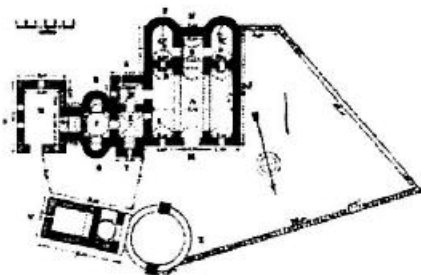
- (۱) طاهریان (۲) سامانیان (۳) صفاریان (۴) سلجوقیان

۶۰- امضای عبدالوهاب شیرازی در ساخت کدام مسجد دیده می‌شود؟

- (۱) امام اصفهان (۲) عتیق شیراز (۳) وکیل شیراز (۴) جامع اصفهان

۶۱- امضای استادکاران تبریزی در کاشی کاری کدام مسجد، قابل ملاحظه است؟

- (۱) برسیان (۲) اشترجان (۳) جامع یزد (۴) جامع ورامین



۶۲- پلان زیر مربوط به چه بنایی است؟

- (۱) المشتی
- (۲) قصیرالعمره
- (۳) خربه المفجر
- (۴) قصرالحیر غربی

۶۳- آخرین حاکم مسلمانی که در شمال ایران به سبک سکه‌های باستانی تبرستانی یا امرای گاوبارگان، اقدام به ضرب سکه کرد، چه نام داشت؟

- (۱) خالد
- (۲) عمر بن علا
- (۳) سلیمان بن منصور
- (۴) فضل بن سهل

۶۴- کتیبه‌های دو ضلع شرقی و غربی داخل گنبد مسجد شیخ لطف‌الله دارای چه محتوایی است و به خط چه کسی نگاشته شده است؟

- (۱) آیاتی از قرآن (سوره بقره) - علیرضا عباسی
- (۲) اسماء مقدس خداوند به زبان عربی - علیرضا عباسی
- (۳) اشعاری به زبان فارسی در مدح امامان شیعی - باقر بنا
- (۴) اشعاری به زبان عربی مشتمل بر اسامی چهارده معصوم - باقر بنا

۶۵- در کدام کتاب، اشاره‌ای به چگونگی ساخت سفال نشده است؟

- (۱) معراج‌نامه
- (۲) تنسوخ‌نامه
- (۳) جواهرنامه
- (۴) عرایس الجواهر و نفایس الاطایب

۶۶- از آثار جاویدان کدام خوشنویس، می‌توان به کتیبه‌های اطراف ایوان آیینه امام‌زاده حمزه بن موسی بن جعفر در شهرری و کتیبه اطراف صحن آرامگاه شیخ صدوق در ابن‌بابویه اشاره کرد؟

- (۱) محمدابراهیم طهرانی
- (۲) میرزا غلامرضا اصفهانی
- (۳) محمدرضا کلهر
- (۴) عماد الکتاب

۶۷- در تشریح ویژگی‌های مکتب فلزکاری موصل، کدام گزینه نادرست است؟

- (۱) فن دو پوسته سازی ظروف فلزی در این دوره مورد توجه قرار گرفت.
- (۲) این مکتب پس از افول موقت، مجدداً در دوره‌های تیموری و صفوی رونق یافت.
- (۳) نام «سلطان بدرالدین لولو» بر شمار زیادی از آثار فلزی این دوره حک شده است.
- (۴) هم‌زمان با دوره سلجوقی، طی سده‌های ششم و هفتم ه. ق شکل گرفت.

۶۸- درباره کتاب «علاق‌النفیسه»، کدام مورد درست است؟

- (۱) اثر ابن‌خردادبه درباره بناها و مساجد
- (۲) اثر ابوالفرج اصفهانی درباره شهرسازی صفویان
- (۳) اثر ابن‌رسته درباره شهرها، مشاغل و غیره
- (۴) اثر دینوری درباره جغرافیای تاریخی مناطق و غیره

۶۹- کدام قلعه، در مرکز الجزایر، حوالی ۳۸۹ ه. ق با نظارت و حمایت فاطمیان، به‌صورت شهری با اجزای عظیم سلطنتی، مرکب از یک برج عظیم با کوشک‌هایی در رأس آن ساخته شده است؟

- (۱) بنی حماد
- (۲) جابر
- (۳) نجم
- (۴) بُست

۷۰- القابی همچون ابوالقاسم یا امیرالسید روی سکه‌های کدام حکومت، شناسایی شده است؟

- (۱) ایلخانی
- (۲) تیموری
- (۳) غزنوی
- (۴) سلجوقی

- ۷۱- مراحل تزیین داخلی مقبره العجایتو به چه صورت است؟
 (۱) مرحله اول کاشی و مرحله دوم با گچ رنگی
 (۲) مرحله اول گچ رنگی و مرحله دوم با آجر و کاشی
 (۳) مرحله اول گچ رنگی و کاشی و مرحله دوم با آجر
 (۴) مرحله اول آجر و کاشی و مرحله دوم با گچ رنگی
- ۷۲- سردر جورجیر کنار کدام بنا و کدام شهر واقع شده است؟
 (۱) سردر قورخانه - تهران
 (۲) دروازه باغ ملی - تهران
 (۳) مسجد حکیم - اصفهان
 (۴) مسجد جامع عتیق - اصفهان
- ۷۳- کدام یک از جغرافی‌دانان قرن چهارم هـ. ق، به موزاییک‌کاری‌های مسجد جامع دمشق اشاره نموده است؟
 (۱) ابن حوقل (۲) مقدسی (۳) استخری (۴) بلاذری
- ۷۴- آیه « قُلْ لَا أَسْئَلُكُمْ عَلَيْهِ أَجْرًا إِلَّا الْمَوَدَّةَ فِي الْقُرْبَىٰ » بر روی کدام سکه‌ها شناسایی شده است؟
 (۱) خوارج (۲) علویان طبرستان (۳) ابومسلم خراسانی (۴) یعقوب لیث صفاری
- ۷۵- کوره کاشی‌سازی در کاوش‌های باستان‌شناسی کدام محوطه به‌دست آمده است؟
 (۱) ری (۲) سیراف (۳) جرجان (۴) تخت سلیمان
- ۷۶- نظریه استبداد شرقی و ظهور جوامع پیچیده و تمدن آب‌ها، متعلق به چه کسی است؟
 (۱) وبستر (۲) ویت‌فوگل (۳) دایسون و کایلر یانگ (۴) لوئیس بینفورد
- ۷۷- کایلر یانگ، پیرو کدام مکتب باستان‌شناسی بود؟
 (۱) تاریخی فرهنگی (۲) روندگرا (۳) فراروندگرا (۴) مارکسیسم
- ۷۸- دکتر عباس علیزاده به کدام راهبرد باستان‌شناسی اعتقاد داشت؟
 (۱) جبر تاریخی (۲) ساختارگرایی (۳) تاریخ آنال (۴) زیست بوم فرهنگی و روندگرا
- ۷۹- واژه آغاز عیلامی را چه کسی برای اولین بار مطرح کرد؟
 (۱) جان آلدن (۲) رومن گیرشمن (۳) وینسن شیل (۴) لمبرت کارلوفسکی
- ۸۰- واژه **Peer polity interaction** را چه کسی برای اولین بار استفاده کرد و در کدام شاخه از مطالعات خود آن را به کار برد؟
 (۱) کنت فلاتری - ایران (۲) لوئیس بینفورد - تمدن اتیک (۳) ایان هادر - ترکیه، آناتولی (۴) کولین رنفرو - عصر مفرغ اژه

