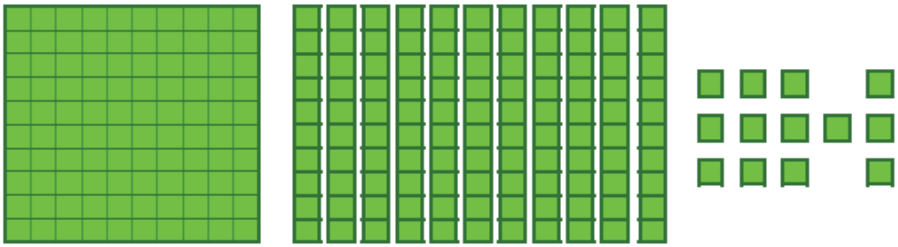


۱- با توجه به شکل جدول و جاهای خالی را کامل کن .



صدگان	دهگان	یکان

با عدد :

با حروف :

۲- شمارش اعداد را با توجه به الگو ادامه بده .

۵ ، ۱۰ ، ۱۵ ، ، ، ، ، ، ، ،

۶ ، ۱۲ ، ، ، ، ، ، ، ،

۱ ، ۲ ، ۴ ، ۷ ، ۱۱ ، ، ، ، ،



..... ، ، ، ، ، ، ، ، ، ، ۲۱ ، ۲۵ ، ۲۹

۳- با سه کارت که روی آن ها رقم های ۲ و ۳ و ۵ نوشته شده است ، چند عدد سه رقمی می توان نوشت ؟



۴- یک عدد دو رقمی بنویس که یکان آن ۵ و دهگان آن ۳ تا کم تر از یکان باشد ؟

۵- سینا ۴ بسته مدادرنگی ۶ تایی دارد . او رنگ های زرد و نارنجی و سبز هر بسته را بر می دارد.

حالا چند تا مداد رنگی در جعبه ها است ؟



۶- عدد صحیح هر جدول را با حروف بنویس .

ده تایی	یکی
۳	۱۳

صدتایی	ده تایی	یکی
۵	۱۲	۲۴

صدتایی	ده تایی	یکی
۲	۰	۴۹

.....

.....

.....

۷- همه ی عددهای سه رقمی را که می توان با رقم های ۳ و ۴ برای یکان و ۷ و ۵ برای دهگان و ۸ و ۹ برای صدگان نوشت ، پیدا کنید .


۸- میوه فروشی در مغازه ی خود ۸۹ کیلو سیب و موز دارد . اگر سیب ها ۴۳ کیلو باشند ، موزها چند کیلو هستند؟

۹- یک مربع و یک مستطیل بکش و بیان کن این دو شکل چه تفاوت ها و چه شباهت هایی دارند ؟

۱۰- محمدحسین ۳ سکه ی ۱۰۰ ریالی ، ۴ سکه ی ۵۰ ریالی و ۲ سکه ی ۱ ریالی دارد .

او می خواهد یک خودکار ۲۵۰ ریالی بخرد . در این صورت چند ریال برایش باقی می ماند؟

۱۱- به اندازه ی ۵۳۴ ریال سکه بکش .



۱۲ - ساعت چند است ؟



ساعت و دقیقه است .

..... دقیقه مانده به




ساعت و دقیقه است .

..... دقیقه گذشته از

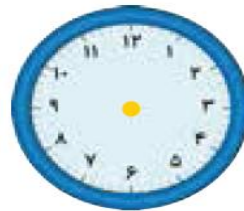
۱۳ - زمان های زیر را روی ساعت نشان بده .




نیم ساعت مانده به ۱۰



یک ربع مانده به ۴



نیم ساعت بعد از ۷



یک ربع بعد از ۹

۱۴ - هواپیمای شهرکرد - شیراز ، همیشه ساعت ۱۲ : ۲۰ پرواز دارد . اما دیروز با نیم ساعت تأخیر پرواز کرد .

این هواپیما دیروز ساعت چند پرواز کرده بود ؟

۱۵ - حاصل جمع و تفریق های زیر را به صورت تقریبی به دست آور .

$$\begin{array}{r} ۸۹ \rightarrow \text{---} \\ - ۵۱ \rightarrow \text{---} \\ \hline \end{array}$$

$$\begin{array}{r} ۵۲ \rightarrow \text{---} \\ - ۲۵ \rightarrow \text{---} \\ \hline \end{array}$$

$$\begin{array}{r} ۷۱ \rightarrow \text{---} \\ + ۲۴ \rightarrow \text{---} \\ \hline \end{array}$$

$$\begin{array}{r} ۳۹ \rightarrow \text{---} \\ + ۲۵ \rightarrow \text{---} \\ \hline \end{array}$$



۱۶- حاصل جمع و تفریق های زیر را از روش گسترده نویسی به دست آور .

$$\begin{array}{r} 35 \\ + 23 \\ \hline \end{array}$$

$$\begin{array}{r} 41 \\ + 37 \\ \hline \end{array}$$

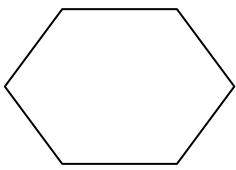
$$\begin{array}{r} 50 \\ + 29 \\ \hline \end{array}$$

$$\begin{array}{r} 76 \\ - 23 \\ \hline \end{array}$$

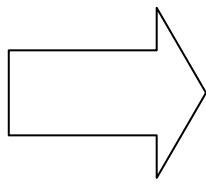
$$\begin{array}{r} 95 \\ - 84 \\ \hline \end{array}$$

$$\begin{array}{r} 49 \\ - 20 \\ \hline \end{array}$$

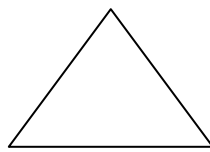
۱۷- هر کدام از شکل های زیر دارای تقارن چند قسمتی هستند؟ رسم کن .



.....



.....



.....



.....

۱۸- نمونه ی باز شده ی عددهای زیر را بنویس .

$$\boxed{593} = \underline{\hspace{2cm}}$$

$$\boxed{780} = \underline{\hspace{2cm}}$$

۱۹- هرچرتکه چه عددی را نشان می دهد؟



۲۰- برای سگه های زیر یک مسأله بنویس و آن را حل کن .

