



مشاوره تحصیلی هیا

تخصصی ترین سایت مشاوره کشور

تماس با مشاوران ما، با شماره گیری


۹۰۹۹۰۷۵۳۰۵

از طریق تلفن ثابت

کد کنترل

323

E



323E

اگر دانشگاه اصلاح شود مملکت اصلاح می‌شود.
امام خمینی (ره)



جمهوری اسلامی ایران
وزارت علوم، تحقیقات و فناوری
سازمان سنجش آموزش کشور

صبح جمعه

۱۴۰۱/۱۰/۳۰

دفترچه شماره ۲

آزمون اختصاصی (سراسری) ورودی دانشگاه‌ها و مؤسسات

آموزش عالی کشور - نوبت اول - سال ۱۴۰۲

گروه آزمایشی علوم انسانی (ویژه دیپلمه‌های علوم و معارف اسلامی)

ملاحظات	زمان پاسخ‌گویی	تا شماره	از شماره	تعداد سؤال	مواد امتحانی	ردیف
۸۰ سؤال ۷۵ دقیقه	۲۰ دقیقه	۱۰۰	۸۱	۲۰	زبان عربی	۱
	۲۰ دقیقه	۱۱۳	۱۰۱	۱۳	تاریخ	۲
		۱۲۵	۱۱۴	۱۲	جغرافیا	۳
	۲۰ دقیقه	۱۴۵	۱۲۶	۲۰	فلسفه و منطق	۴
۱۵ دقیقه	۱۶۰	۱۴۶	۱۵	اقتصاد	۵	

حق چاپ، تکثیر و انتشار سؤالات به هر روش (الکترونیکی و ...) پس از برگزاری آزمون، برای تمامی اشخاص حقیقی و حقوقی تنها با مجوز این سازمان مجاز می‌باشد و با متخلفین برابر مقررات رفتار می‌شود.

دی ماه ۱۴۰۱

۱۰۱- کدام گزینه دربارهٔ دوره مکی تاریخ صدر اسلام درست است؟

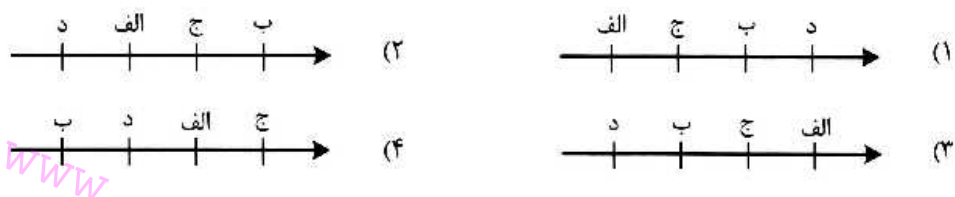
- ۱) بلال بن رباح، ابوذر و صهیب بن سنان پس از نزول آیات اولیه سوره مدثر ایمان آوردند.
 - ۲) مشرکان، پیامبر (ص) را به داشتن برخی علوم و فنون که جنبه تجربی داشت، متهم می‌کردند.
 - ۳) زیدبن حارثه در دوره دعوت نهانی و ابوذر و خَبَّاب بن اَرْت در دوره دعوت آشکار ایمان آوردند.
 - ۴) نگرانی اصلی سران شرک از دعوت آشکار، به خطر افتادن اعتقادات آنها و موقعیت تجاری مکه بود.
- ۱۰۲- کدام نمودار خط زمان، ترتیب وقایع تاریخ اسلام در دوره مدنی از قدیم به جدید، (از چپ به راست) را درست نشان داده است؟

الف: پایان کارشکنی‌های تشکیلاتی جریان نفاق

ب: پایان کار آخرین کانون یهودی توطئه بر ضد مدینه

ج: شهادت زیدبن حارثه

د: آزادی پیروی از اسلام در مکه قبل از فتح آن به وسیله سپاه اسلام



۱۰۳- کدام گزینه در خصوص نسب اشخاص از طایفه بنی هاشم درست است؟

- ۱) عبدالمطلب و اسد، پسران هاشم بن عبد مناف بودند.
 - ۲) عبدالمطلب و اسد، پسران عبد مناف بن هاشم بودند.
 - ۳) فاطمه بنت اسد، نوه هاشم و برادرزاده عبد مناف بود.
 - ۴) ابوطالب و عباس با اسد پسر عمو و هر سه، نوه هاشم بودند.
- ۱۰۴- عبارت «قضائی از قضاهای الهی که در مورد آن کسی از خود اختیاری ندارد.» به کدام رویداد اشاره دارد؟
- ۱) صلح معاویه و امام حسن (ع) که در سال ۴۱ هـ. ق اتفاق افتاد.
 - ۲) فتنه مارقین که در نتیجه اختلاف‌افکنی‌های قاسطین شکل گرفت.
 - ۳) تسلط معاویه بر حکومت پس از سال‌ها جنگ و فتنه‌انگیزی میان مسلمانان
 - ۴) اعلام ولایتعهدی یزید توسط معاویه و موروثی شدن خلافت در خاندان اموی
- ۱۰۵- کشته شدن صحابه و تابعان معتقد به امامت امام علی(ع) و سایر ائمه توسط خلفای بنی امیه، به کدام وضعیت منجر شد؟
- ۱) بستر مناسب برای جاعلان حدیث و غلات را فراهم کرد.
 - ۲) ارائه شکل ناقص و تحریف‌شده تعالیم اسلامی به مردم را به دنبال داشت.
 - ۳) ابهامات و شبهات در مسائل اعتقادی را گسترش داد و به منازعات فکری منتج شد.
 - ۴) عدم دسترسی فقهای متقدم به سنت نبوی و ظهور اختلافات فقهی را در پی داشت.

- ۱۰۶- کدام مورد درباره اقدامات خلفای عباسی درست است؟
 الف: تعیین مقرری برای افراد ناتوان
 ب: قطع حقوق و مستمری بنی هاشم
 ج: سرکوب قیام ابوالسرایا و ابن طباطبا
 د: فرونشاندن شورش رافع بن لیث
 (۱) «ج» (هارون)، «د» (مأمون)
 (۲) «ج» (مأمون)، «د» (هارون)
 (۳) «الف» (مهدی)، «ب» (هادی)
 (۴) «الف» (هادی)، «ب» (مهدی)
- ۱۰۷- کدام گزینه درباره تاریخ شهر «بصره» در قرون اولیه اسلامی درست است؟
 (۱) از کانون‌های علمی عراق بود و در قرن ۳ هـ. ق در ناحیه اول از نواحی چهارگانه شبکه وکالت واقع بود.
 (۲) محل پدید آمدن دستور زبان عربی و جزء ناحیه سوم از نواحی چهارگانه شبکه وکالت در عصر امام هادی (ع) بود.
 (۳) در شمار شهرهای ناحیه چهارم وکالت در قرن ۳ هـ. ق و کانون رشد و تکامل زبان عربی و اندیشه‌های معتزله بود.
 (۴) محل رشد و تکامل اندیشه‌های معتزله بود و در ناحیه دوم فعالیت شبکه وکالت در عصر امام هادی (ع) قرار داشت.
- ۱۰۸- کدام گزینه درباره موضوع آثار و تألیفات دوره اسلامی درست است؟
 (۱) سرالاسرار در شیمی، مفاتیح‌الغیب در تفسیر و الموطأ در فقه نگاشته شده‌اند.
 (۲) الدر المنثور کتابی است در تفسیر، و قانون و الحاوی به ترتیب در فلسفه و طب تألیف شده‌اند.
 (۳) اوائل‌المقالات در کلام، الموطأ در اصول فقه و عوارف‌المعارف در تصوف و عرفان نگاشته شده‌اند.
 (۴) موضوع الخراج فقه است و تجرید الاعتقاد و مجمع‌البیان به ترتیب در اصول فقه و تفسیر تألیف شده‌اند.
- ۱۰۹- کدام موارد در خصوص نهادهای اداری در تاریخ ایران دوره اسلامی درست است؟
 الف: از عوامل توسعه جغرافیایی و جمعیت برخی شهرها بودند.
 ب: در سیاست‌نامه‌ها اطلاعات سودمندی درباره آنها وجود دارد.
 ج: متون ادبی منابعی ارزشمند برای پژوهش درباره آنها به شمار می‌روند.
 د: در نتیجه توسعه جغرافیایی و گسترش عناصر شهری در برخی شهرها، اهمیت می‌یافتند.
 (۱) «الف» و «ب»
 (۲) «الف» و «ج»
 (۳) «ب» و «د»
 (۴) «ج» و «د»
- ۱۱۰- کدام یک از رویدادهای زیر در مقطع زمانی ۱۲۵۰ تا ۱۲۶۴ هـ. ق روی داده است؟
 الف: میرزا صالح شیرازی اولین شماره کاغذ اخبار را منتشر کرد.
 ب: قائم مقام فراهانی از مقام خود عزل و کشته شد.
 ج: دوره دوم جنگ‌های ایران و روسیه به پایان رسید.
 د: انگلستان معاهده پاریس را به حکومت قاجار، تحمیل کرد.
 (۱) «الف» و «ب»
 (۲) «الف» و «ج»
 (۳) «ب» و «د»
 (۴) «ج» و «د»
- ۱۱۱- با توجه به واقعیات تاریخی، کدام موارد درباره اشکال جانشینی در سه سلسله صفوی، افشار و قاجار درست است؟
 الف: پس از عمو، برادرزاده به سلطنت رسیده است. (افشار - قاجار)
 ب: پس از پدر، پسر به سلطنت رسیده است. (صفوی - افشار - قاجار)
 ج: سلطنت از پدر بزرگ به نوه رسیده است. (صفوی - قاجار)
 د: پس از مرگ پادشاه، برادر وی به سلطنت رسیده است. (صفوی - افشار - قاجار)
 (۱) «الف» و «ب»
 (۲) «الف» و «ج»
 (۳) «ب» و «د»
 (۴) «ج» و «د»

۱۱۲- با توجه به تقدم و تأخر زمان وقوع رویدادها، در کدام نمودار زمان، ترتیب وقایع از چپ به راست (از قدیم به جدید) به درستی نشان داده شده است؟

الف: عملیات بیت‌المقدس و آزادی خرمشهر از اشغال رژیم بعث عراق

ب: برگزاری انتخابات اولین دوره انتخابات مجلس خبرگان رهبری

ج: بازگشایی دانشگاه‌ها که پس از پیروزی انقلاب اسلامی تعطیل شده بودند.

د: آغاز دوره اول ریاست جمهوری آیت الله خامنه‌ای



۱۱۳- مؤلف / مؤلفان کتاب درسی تاریخ (۳): ایران در دوره اسلامی، گزاره زیر را از کدام یک از منابع ذیل استخراج کرده‌اند؟

«صدام مصمم بود با یک تهاجم برق‌آسا در مدت پنج تا شش هفته، خوزستان را تسخیر کند.»

(۲) اسناد و خاطرات افسران عراقی

(۱) نشریات و مطبوعات کشور عراق

(۴) تحقیقات تاریخی جدید (مأخذ)

(۳) اعترافات افسران اسیر عراقی

۱۱۴- با توجه به این که شناخت توان‌ها و ظرفیت‌های محیطی بدون دانش جغرافیا ممکن نیست، در کشور ما، هر استان چه اقدامی لازم است انجام دهد؟

- ۱) تولیدات باغی خود را براساس موقعیت نسبی، تطبیق دهد و میوه‌های ویژه خود را تولید و صادر کند.
- ۲) تولیدات باغی خود را براساس موقعیت ریاضی، تطبیق دهد و میوه‌های ویژه خود را تولید و صادر کند.
- ۳) به دلیل کمبود منابع آب ناشی از موقعیت نسبی، محور توسعه کشاورزی را از زراعت به باغداری تبدیل کند.
- ۴) به دلیل کمبود منابع آب ناشی از موقعیت مطلق، محور توسعه کشاورزی را از باغداری به زراعت تبدیل کند.

۱۱۵- کدام مورد، عبارت زیر را به درستی کامل می‌کند؟

«در دشت لوت که از دوران‌های زمین‌شناسی بسیار قدیم به‌جامانده، ناهمواری‌هایی جدید مانند تشکیل شده است.»

- ۱) کلوت‌ها، از طریق تخریب بخش نرم‌تر رسوبات باقیمانده از دریاچه‌های قدیم و به صورت شیارهای آ شکل
- ۲) کلوت‌ها، از طریق تخریب بخش سخت‌تر رسوبات به‌جامانده از دریاچه‌های قدیم در اثر فرسایش آبی - بادی
- ۳) چاله‌های بادی در نواحی دارای ماسه‌های ریز، پوشش گیاهی غنی و فاقد آب‌های زیرزمینی با عمق ۴۰ متر
- ۴) چاله‌های بادی در نواحی فاقد پوشش گیاهی، دارای آب‌های زیرزمینی و ماسه‌های ریز با عمق کمتر از ۴۰ متر

۱۱۶- کدام مورد، عبارت زیر را به درستی تکمیل می‌کند؟

«در آب و هوای به ترتیب وجود دارد.»

- ۱) کوهستانی و معتدل خزری - اعتدال دما در طول سال و پوشش گیاهی غنی
- ۲) معتدل خزری و کوهستانی - اعتدال دما در طول سال و خشکی شدید هوا
- ۳) گرم و شرجی و گرم و خشک - میزان تبخیر و تعرق کم و رطوبت نسبی بالا
- ۴) گرم و خشک و گرم و شرجی - میزان تبخیر و تعرق بالا و رطوبت نسبی بالا

۱۱۷- در خصوص تاریخچه تقسیمات کشوری در ایران، کدام گزینه به خط زمان درستی از موارد مطرح شده اشاره دارد؟

الف: در این دوره به واحدهایی تحت عنوان ایالت تقسیم می‌شد.

ب: در این دوره به چهار ایالت و دوازده ولایت، تقسیم می‌شد.

ج: به قسمت‌های ایالت، خوره، تسوگ و رستاگ تقسیم شده بود.

د: به قسمت‌های ایالت، ولایت، بلوک و قصبه تقسیم شده بود.

۱) جدیدتر → د ج ب الف → قدیمی‌تر (۲) جدیدتر → د الف ب ج → قدیمی‌تر

۳) جدیدتر → ب د الف ج → قدیمی‌تر (۴) جدیدتر → ج الف ب د → قدیمی‌تر

۱۱۸- موارد «الف» و «ب» در متن زیر، با کدام گزینه‌ها مطابقت دارد؟

الف - امروزه اغلب سکونتگاه‌ها چند نقش دارند و این نقش‌ها را با هم ایفا می‌کنند.

ب - ممکن است نقش سکونتگاه‌ها در طول زمان تغییر کند یا تکامل و توسعه یابد.

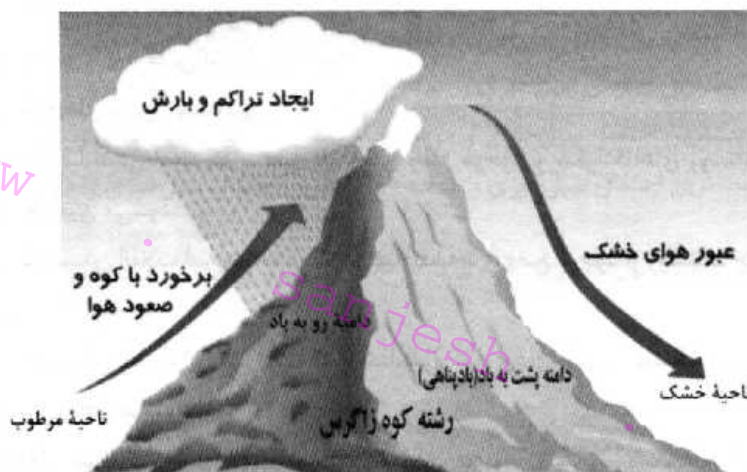
(۱) الف: محدودیت‌های طبیعی موجب شده است، انسان‌ها برای کنترل محیط چاره‌اندیشی کنند. ب: نواحی، تحت تأثیر تصمیم‌گیری‌های سیاسی حکومت‌ها قرار دارند.

(۲) الف: نواحی تحت تأثیر تصمیم‌گیری‌های سیاسی حکومت‌ها قرار دارند. ب: محدودیت‌های طبیعی موجب شده است انسان‌ها برای کنترل محیط چاره‌اندیشی کنند.

(۳) الف: انسان‌ها نواحی مختلفی را پدید می‌آورند یا نواحی طبیعی را تغییر می‌دهند. ب: انسان‌ها نواحی مختلفی را پدید می‌آورند یا نواحی طبیعی را تغییر می‌دهند.

(۴) الف: محدودیت‌های طبیعی موجب شده است انسان‌ها برای کنترل محیط چاره‌اندیشی کنند. ب: محدودیت‌های طبیعی موجب شده است، انسان‌ها برای کنترل محیط چاره‌اندیشی کنند.

۱۱۹- در تصویر زیر، نوعی بارش نمایش داده شده است که در آن فعالیت دارد.



(۱) توده‌ی هوای خشک به صورت غیرافقی حرکت می‌کند و برخلاف بارش همرفتی، یک توده‌ی هوا

(۲) توده‌ی هوای مرطوب به صورت غیرافقی حرکت می‌کند و برخلاف بارش سیکلونی، یک توده‌ی هوا

(۳) توده‌ی هوای مرطوب به صورت افقی صعود می‌کند و همانند بارش سیکلونی، دو توده‌ی هوا

(۴) توده‌ی هوای خشک به صورت افقی صعود می‌کند و همانند بارش همرفتی، دو توده‌ی هوا

۱۲۰- کدام موارد، متن زیر را به درستی تکمیل می‌کنند؟

«کشورهای فیلیپین و پاکستان در زمینه تولید برنج توانستند به خودکفایی برسند. این کشورها به دلیل

توانستند تولید کشاورزی خود را به چند برابر افزایش دهند.»

الف: شرایط خاص آب و هوایی و صرفاً داشتن رطوبت بسیار زیاد

ب: شرایط خاص آب و هوایی و وقوع بارش در ماه‌های مختلف سال

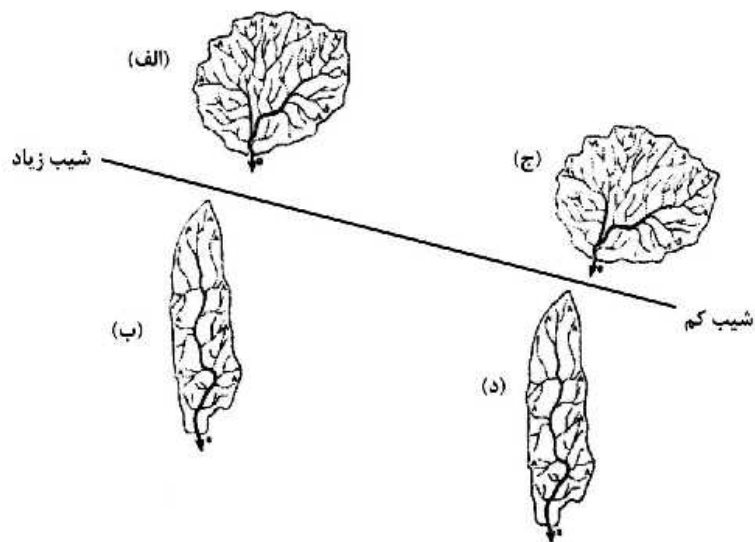
ج: به کار بردن روش‌های علمی در استفاده از کودها و آفت‌کش‌های غیرشیمیایی

د: استفاده از بذرهای اصلاح‌شده، آفت‌کش‌های شیمیایی و ماشین‌آلات

(۱) «الف» و «ج» (۲) «الف» و «د» (۳) «ب» و «ج» (۴) «ب» و «د»

- ۱۲۱- با بررسی موارد زیر، کدام مورد با نظریه ژئوپلیتیک آن، مطابقت دارد؟
- الف: جنگ تحمیلی عراق علیه ایران به دلیل محدودیت‌های کشور عراق در دسترسی به سواحل خلیج فارس
 ب: تبدیل شدن کشور انگلستان به یک قدرت دریایی به دلیل دسترسی به آب‌های آزاد و موقعیت جزیره‌ای
 ج: موقعیت آسیب‌پذیر لهستان به دلیل مجاورت داشتن با دو کشور روسیه و آلمان در دوره‌هایی از تاریخ
- (۱) مورد «الف» برخلاف موارد «ب» و «ج»، با نظریه هلفورد مکیندر
 (۲) مورد «الف» همانند موارد «ب» و «ج» با نظریه هلفورد مکیندر
 (۳) مورد «ب» برخلاف موارد «الف» و «ج» با نظریه آلفرد ماهان
 (۴) مورد «ب» همانند موارد «الف» و «ج» با نظریه آلفرد ماهان
- ۱۲۲- به‌طور معمول در سکونتگاه‌هایی که بیشتر جمعیت فعال در فعالیت‌های نوع دوم و سوم اشتغال دارند
 (۱) از نظر میزان جمعیتی یا متداول‌ترین ملاک تشخیص شهر و روستا، جمعیت بیشتری مشاهده می‌شود.
 (۲) در شیوه زندگی ساکنان آن، تغییرات اجتماعی در مقایسه با وابستگی اجتماعی کمتر دیده می‌شود.
 (۳) به دلیل جمعیت بیشتر، فعالیت ساکنان آن در چشم‌اندازهای طبیعی گسترده‌تری، انجام می‌شود.
 (۴) در ارائه خدمات و تسهیلات به ساکنان آنها، تنوع و تعداد کمتری مشاهده می‌شود.
- ۱۲۳- کدام مورد عبارت زیر را به درستی تکمیل می‌کند؟
 «تهیه و اجرای طرح‌های هادی روستایی،»
- (۱) از وظایف جهاد سازندگی است که با تهیه نقشه‌های وضع موجود از سکونتگاه‌های روستایی، چگونگی گسترش آن‌ها در آینده معین می‌شود.
 (۲) از وظایف بنیاد مسکن انقلاب اسلامی است که با تهیه نقشه‌های وضع موجود از روستاها، چگونگی گسترش آن‌ها در آینده معین می‌شود.
 (۳) از وظایف بنیاد مسکن انقلاب اسلامی است که با شناسایی کاربری‌های اراضی روستاها، خدمات بهداشتی و توسعه راه‌های روستایی انجام می‌شود.
 (۴) از وظایف جهاد سازندگی است که با شناسایی مناطق محروم روستایی، شبکه‌های آب آشامیدنی، خدمات بهداشتی و توسعه روستایی انجام می‌شود.
- ۱۲۴- کدام مورد متن زیر را به درستی تکمیل می‌کند؟
 «با توجه به حرکت زمین از غرب به شرق، مناطق مختلف کره زمین واقع بر نصف‌النهارها پی‌درپی در مقابل خورشید قرار می‌گیرند. به‌عنوان مثال ساکنان کلان‌شهر مشاهده می‌کنند.»
- (۱) پاریس، به دلیل ساعت واقعی یا استاندارد متفاوت نسبت به تهران، طلوع خورشید را زودتر
 (۲) پاریس، به دلیل ساعت رسمی یا واقعی متفاوت نسبت به تهران، طلوع خورشید را دیرتر
 (۳) تهران، به دلیل ساعت واقعی یا رسمی متفاوت نسبت به پاریس، طلوع خورشید را دیرتر
 (۴) تهران، به دلیل ساعت واقعی یا محلی متفاوت نسبت به پاریس، طلوع خورشید را زودتر

۱۲۵- با توجه به شکل زیر، کدام مورد، درست است؟



- ۱) حوضه (الف) بیشترین احتمال سیل خیزی و حوضه (د) کمترین احتمال سیل خیزی را دارد.
- ۲) حوضه (ب) بیشترین احتمال سیل خیزی و حوضه (الف) کمترین احتمال سیل خیزی را دارد.
- ۳) حوضه (ج) بیشترین احتمال سیل خیزی و حوضه (ب) کمترین احتمال سیل خیزی را دارد.
- ۴) حوضه (د) بیشترین احتمال سیل خیزی و حوضه (ج) کمترین احتمال سیل خیزی را دارد.

www

sanjesh

org

- ۱۲۶- در کدام عبارت، احتمال برداشت معانی متفاوت وجود ندارد؟
- (۱) شیشه میز شکسته را فروختم.
 (۲) خواجه در ابریشم و ما در گلیم.
 (۳) بیخشید ساعت تون چند است؟
 (۴) مریم و برادرش دو سال اختلاف سن دارند.
- ۱۲۷- هرگاه A و B دو مفهوم کلی باشند که A مصادیق مشترکی با B داشته باشد به نام C و مصادیق اختصاصی خود را نیز داشته باشد، کدام عبارت درست خواهد بود؟
- (۱) میان A و B می‌تواند رابطه تساوی برقرار باشد.
 (۲) رابطه A با غیر C عموم و خصوص من وجه است.
 (۳) رابطه B با C حتماً تساوی است.
 (۴) غیر C مصادیق اختصاصی B خواهد بود.
- ۱۲۸- کدام مورد، عبارت درستی را در مورد تعریف بیان می‌کند؟
- (۱) تعریف، نوعی تفکر است که اگر انسان توانایی آن را نداشت، هیچ تصویری را نمی‌شناخت.
 (۲) وقتی اوصافی را به یک مفهوم نسبت می‌دهیم یا از آن سلب می‌کنیم، درحقیقت آن را تعریف کرده‌ایم.
 (۳) در برخی از انواع تعریف، مفهوم را از نظر اجزاء سازنده‌اش در نظر می‌گیریم و آن را به دو جزء عام و خاص تحلیل می‌کنیم.
 (۴) برای تعریف یک تصور، چند تصور معلوم را به یک تصور مجهول نسبت می‌دهیم و آن را در قالب یک تصدیق بیان می‌کنیم.
- ۱۲۹- کدام عبارت درست است؟
- (۱) در عبارت «نقش ما گو ننگارند به دیباچه عقل / هر کجا نامه عشق است نشان من و توست»، فقط یک قضیه به کار رفته است.
 (۲) در عبارت «چون نیک نظر کرد پر خویش در آن دید / گفتا ز که نالیم که از ماست که برماست» دو قضیه شرطی و دو قضیه حملی به کار رفته است.
 (۳) در عبارت «چرخ نبندد گرهی بر سرت / تا نگشاید گرهی دیگر»، یک بار «گره بر سر بستن» از چرخ سلب شده و بار دیگر «گشودن گره» به آن نسبت داده شده است.
 (۴) در قضیه «در طلب دانش همت می‌کنم»، به ثبوت «همت» برای «طلب دانش» حکم شده است.
- ۱۳۰- به فرض درستی گزاره «هر واقعیتی یک بخش ناشناختنی دارد»، کدام مورد را به نحو منطقی می‌توان نتیجه گرفت؟
- (۱) هر واقعیتی یک بخش شناختنی دارد.
 (۲) بعضی از واقعیت‌ها، ناشناختنی هستند.
 (۳) برخی چیزها که بخش ناشناختنی دارند، واقعیت‌اند.
 (۴) آنچه که بخش ناشناختنی دارد، قسمتی از واقعیت است.
- ۱۳۱- اگر قضیه «هر الف ب است.» از مقدمات یک استدلال معتبر باشد و بدانیم که «ب» حد وسط است، کدام قضیه نمی‌تواند مقدمه دیگر این استدلال باشد؟
- (۱) هر ب ج است. (۲) بعضی ب ج نیست. (۳) هیچ ب ج نیست. (۴) بعضی ج ب نیست.
- ۱۳۲- کدام عبارت درست است؟
- (۱) با تأمل فیلسوفانه در شاخه‌هایی از فلسفه مانند فلسفه تاریخ و فلسفه حقوق، دانش‌هایی چون تاریخ و حقوق شکل می‌گیرد.
 (۲) فلسفه‌های مضاف درعین این که مسائل مشترک میان علوم و فلسفه را مطرح می‌کنند، بنیان‌های عقلی علوم نیز هستند.
 (۳) امکان شناخت وجود، فرع بر معرفت آن است و به همین دلیل یکی از مسائل فلسفه، امکان یا عدم امکان شناخت است.
 (۴) آن دسته از دانش‌هایی که قوانین بنیادی علوم را به وجودشناسی منتقل می‌سازند، شاخه‌های فلسفه هستند.

- ۱۳۳- «تأکید بر نقش عقل در درک حرکت و سکون» و «توجه به حرکت، به عنوان جمع امور ناسازگار»، به ترتیب، به کدام فیلسوف مربوط می‌شود؟
- (۱) پارمنیدس - هراکلیتوس
(۲) هراکلیتوس - پارمنیدس
(۳) پارمنیدس - پارمنیدس
(۴) هراکلیتوس - هراکلیتوس
- ۱۳۴- کدام عبارت در مورد امکان شناخت و مسائل مربوط به آن، قابل پذیرش است؟
- (۱) رفتار انسان با موجودات جهان، نشان می‌دهد که قدرت شناخت خود را باور دارد.
(۲) شناخت، امری امکان‌پذیر است؛ پس چیزی وجود ندارد که بشر قادر به شناخت آن نباشد.
(۳) این باور که انسان نمی‌تواند به همه خصوصیات موجودات دست یابد، نسبت شناخت را در پی دارد.
(۴) تفاوت میان شناخت افراد از یک موضوع، نشان می‌دهد که شناخت هر کس، نسبت به خودش معتبر است.
- ۱۳۵- کدام عبارت بیانگر کارکرد ویژه عقل، نسبت به سایر قوا و ابزارهای شناخت است؟
- (۱) شناخت حقایق غیرمحسوس و ماوراءطبیعی
(۲) تشخیص موارد استفاده از اشیاء گوناگون
(۳) کسب مقدمات استدلال‌های قیاسی
(۴) بررسی و تحلیل یافته‌های حسی
- ۱۳۶- با توجه به نظرات افلاطون در مورد انسان و حقیقت او، کدام عبارت پذیرفتنی است؟
- (۱) هر موجود زنده و دارای نفس، یک جزء نامرئی به نام عقل دارد.
(۲) نفس انسان در هنگام تولد تحقق ندارد، بلکه به تدریج ایجاد شده و به فعلیت می‌رسد.
(۳) درک این مطلب که «یک چیز نمی‌تواند هم باشد و هم نباشد» به نفس انسانی مربوط است.
(۴) از میان موجودات، فقط انسان دارای حقیقت برتری است که محدودیت‌های ماده را ندارد.
- ۱۳۷- کدام عبارت با نظرات اخلاقی فیلسوفان مسلمان سازگار نیست؟
- (۱) منشاء گرایش به نیکی و گریز از بدی، عقل نظری و عامل تشخیص و عمل به آن، عقل عملی است.
(۲) داشتن ویژگی‌هایی مانند انصاف و صداقت و رفتار براساس آن‌ها، در جهت سلامت اجتماع و خیر افراد است.
(۳) شرط تشخیص رفتار درست از نادرست و دستیابی به سعادت فردی و اجتماعی، سلامت و اعتدال عقل است.
(۴) گرایش‌های اخلاقی آدمی مانند دو کفه یک ترازو هستند و انگیزه‌ها، باعث سنگینی یکی نسبت به دیگری می‌شود.
- ۱۳۸- در کدام مورد، نسبت میان موضوع و محمول در هر دو قضیه یکسان است؟
- (۱) آب مایعی بی‌رنگ است. - فعل کلمه‌ای است که انجام کاری را می‌رساند.
(۲) چوب عایق است. - یکی از انواع ویروس‌ها، ویروس آنفلوانزا است.
(۳) کره زمین دارای آب است. - هر جسمی دارای مکان است.
(۴) اکسیژن، از انواع گازها است. - فلز نوعی ماده است.
- ۱۳۹- کدام مورد، عبارت را هماهنگ با نظر تجربه‌گرایان و به درستی کامل می‌کند؟
- «انسان بارها مواردی مانند سوختن چوب پس از آتش گرفتن یا روشنی زمین پس از طلوع خورشید را مشاهده کرده و ...»
- (۱) تصور کرده است که میان این‌گونه پدیده‌های متوالی، رابطه‌ای تخلف‌ناپذیر وجود دارد.
(۲) متوجه شده است که میان برخی پدیده‌ها، نوعی رابطه ضروری برقرار است که آن را علیت می‌نامیم.
(۳) نتیجه گرفته است که کشف پدیده‌های متوالی، فقط از طریق تجربه و آزمایش امکان‌پذیر است.
(۴) کشف کرده که اصل علیت، مصادیقی دارد مانند سوختن چوب در آتش یا روشنی زمین در اثر طلوع خورشید.

۱۴۰- هیوم، دلایل دکارت و دیگر فیلسوفان عقل‌گرا را درباره‌ی خداوند نامعتبر می‌داند، زیرا معتقد است:

- (۱) مهم‌ترین برهان بر اثبات وجود خدا، برهان نظم است.
- (۲) هیچ نوع شناختی مستقل از حس و تجربه وجود ندارد.
- (۳) این براهین توانایی اثبات واجب‌الوجود بالذات را ندارند.
- (۴) برای اثبات خدا، فقط دلایل تجربی از اعتبار برخوردارند.

۱۴۱- کدام‌یک، از مقدمات برهان فارابی بر اثبات خدا شمرده نمی‌شود؟

- (۱) فقط در صورتی که علت وجود داشته باشد، معلول هم هست.
- (۲) ممکن است یک علت، در عین حال معلول هم باشد.
- (۳) هر چه که واقعیت دارد، باید دارای علتی باشد.
- (۴) بی‌شک، موجوداتی در جهان وجود دارند.

۱۴۲- کدام عامل نزد حکمای مسیحی قرون یازدهم تا سیزدهم میلادی، به حاکمیت عقل در برابر دین منجر گردید؟

- (۱) کشف توانایی عقل برای اثبات و تبیین مسائل دینی
- (۲) انشعاب فیلسوفان اروپایی به دو دسته‌ی عقل‌گرا و تجربه‌گرا
- (۳) روی آوردن فیلسوفان به عقل و تبیین عقلانی مسائل دینی
- (۴) ناسازگاری میان تبیین عقلانی مسائل دینی با مبانی اولیه‌ی کلیسای کاتولیک

۱۴۳- کدام عبارت بیانگر نظر فیلسوفان مسلمان است؟

- (۱) استفاده از استدلال‌های عقلی صرف، ممکن است نتایجی مخالف وحی در پی داشته باشد؛ در این صورت باید با تلاش علمی، از تعارض‌های ظاهری آن دو کاست.
- (۲) آن‌چه که معارف وحی را برای غیرپیامبران قابل فهم و استفاده می‌کند، عقل است و ایمان جاهلانه، گمراه‌کننده و خطرناک است.

- (۳) استدلال عقلی، شهود و وحی، راه‌هایی برای نیل به حقیقت‌اند؛ بنابراین در همه‌ی موضوعات به نتایج یکسان می‌رسند.
- (۴) عالی‌ترین مرتبه‌ی شهود که وحی است و به پیامبران الهی اختصاص دارد، فقط از طریق تهذیب نفس قابل دستیابی است.

۱۴۴- کدام عبارت با دیدگاه‌های ابن سینا سازگاری بیشتری دارد؟

- (۱) شناخت جهان طبیعت به مدد مشاهده، استقرا، روش تجربی و براساس اصول عقلانی امکان‌پذیر می‌شود.
- (۲) مشاهده‌ی دقیق، استقرا و آزمایش‌های مکرر، دانشمند را به یک بینش کلی نسبت به مراتب وجود می‌رساند.
- (۳) با بررسی و مطالعه‌ی تجربی تک‌تک موجودات جهان، وجود یک مبدأ که خالق نظام احسن است، اثبات می‌شود.
- (۴) هر یک از موجودات عالم، طبیعتی دارد که هم آثار آن موجود را تعیین می‌کند و هم منشاء آثار کل عالم طبیعت می‌شود.

۱۴۵- کدام عبارت درباره‌ی مشرب فلسفی ملاصدرا نادرست است؟

- (۱) همه‌ی مباحث فلسفی وی، از معیارهای پذیرفته شده در دانش فلسفه تبعیت می‌کنند.
- (۲) با آثار عرفا به خوبی آشنایی داشته و در شکل‌گیری نظام فلسفی او مؤثر بوده است.
- (۳) در اثبات برخی حقایق فلسفی، از آیات قرآن به عنوان مقدمات استدلال‌هایش استفاده کرده است.
- (۴) مکتب فکری او ثمره‌ی پیوند فلسفه‌های مشایی و اشراقی و بهره‌مندی از شهود قلبی و وحی قرآنی است.

- ۱۴۶- تصمیمات زیر به ترتیب مصداق مناسبی برای کدام اشتباه‌های رایج در تصمیم‌گیری است؟
- زیبا به جشن تولد دوستش دعوت شده است، همچنین برای کاهش وزن و بیماری دیابت خود رژیم غذایی خاصی است اما مقداری از کیک تولد را می‌خورد.
 - مجتبی پیراهن ۴۵۰ هزار تومانی که ۵۰٪ تخفیف دارد را بر پیراهن ۱۶۵ هزار تومانی ترجیح می‌دهد.
 - پدر مریم اخیراً علی‌رغم نبود مشتری کافی برای میوه آناناس تصمیم گرفته است زمین بیشتری به این محصول اختصاص دهد.

- ۱) بی‌صبری زیاد - اثرگذاری حقه‌های فروش - خودرأی بودن و اعتماد به نفس زیاد
 - ۲) بی‌صبری زیاد - عدم استفاده از معیار هزینه فرصت - چسبیدن به وضعیت فعلی
 - ۳) اعتماد به نفس بیش از حد - صرفه‌جویی بیش از حد - چسبیدن به وضعیت فعلی
 - ۴) اعتماد به نفس بیش از حد - توجه به هزینه‌های دررفته - خودرأی بودن و اعتماد به نفس زیاد
- ۱۴۷- با توجه به الگوی مرز امکانات تولید، کدام مورد درک بهتری در استفاده از منابع کمیاب ارائه می‌دهد؟
- ۱) تولید در خارج از مرز امکانات، قابل دستیابی است به شرط آن که منابع کمیاب موجود با مدیریت صحیح به تولید کالا اختصاص یابد.
 - ۲) تولید کالا باید درون مرز امکانات تولید، انجام پذیرد به شرط آن که منابع کمیاب موجود با مدیریت صحیح به تولید کالا اختصاص یابد.
 - ۳) یک تولیدکننده بهتر است بر روی مرز امکانات، تولید کند و هر نقطه روی آن نشان می‌دهد که منابع کمیاب بین تولید دو کالای موردنظر تقسیم شده است.
 - ۴) یک تولیدکننده بهتر است درون مرز امکانات، تولید کند و هر نقطه در این محدوده نشان می‌دهد که منابع کمیاب بین تولید دو کالای موردنظر تقسیم شده است.

- ۱۴۸- با توجه به اطلاعات مربوط به یک کارگاه تولیدی، نتیجه عملکرد این کارگاه در طی یک سال گذشته چگونه بوده است؟
- الف: اجاره کارگاه ۳۰ میلیون ریال در سال ب: خرید ماشین‌آلات ده برابر اجاره کارگاه
- ج: خرید ماشین‌فرزند مدیر کارخانه ۲۰ میلیون ریال د: خرید ماده اولیه دو برابر اجاره کارگاه
- ه: درآمد حاصل از فروش محصولات ده برابر خرید مواد اولیه و: پرداخت حقوق ۱۵۰ میلیون ریال در سال
- ۱) ۶۰ میلیون ریال سود
 - ۲) ۸۰ میلیون ریال سود
 - ۳) ۶۰ میلیون ریال ضرر
 - ۴) ۸۰ میلیون ریال ضرر

۱۴۹- هر کدام از موارد زیر، به ترتیب مربوط به کدام ویژگی مشترک کارآفرینان موفق می‌باشند؟

الف: ایده‌ها را به محصولات جدید و یا کسب‌وکار جدید تبدیل می‌کنند.

ب: کارآفرینان واقع‌بین هستند اما مطمئن و دلگرم به موفقیت اقتصادی هستند.

ج: کارآفرینان موفق، خود را با شرایط بازار وفق می‌دهند.

د: نظم، پایداری، انضباط، اشتیاق و توانایی حل مسئله را دارند.

(۱) تیزبین - خوش‌بین - ریسک‌پذیر - سازمان‌دهنده (۲) تیزبین - پراکنجه - یادگیرنده - سازمان‌دهنده

(۳) نوآور - پراکنجه - ریسک‌پذیر - سازمان‌دهنده (۴) نوآور - خوش‌بین - یادگیرنده - پراکنجه

۱۵۰- در جریان چرخه فعالیت‌های اقتصادی، کدام مورد بیان مناسبی در رابطه با تعاملات بین بازیگران کلیدی است؟

(۱) خانوارها با درآمدی که از فروش عوامل تولید کسب کرده‌اند، خدمات موردنیاز خود را از بنگاه خریداری می‌کنند.

(۲) خانوارها باید منابع را از کارخانه‌های تولیدی خریداری کنند و نیروی کار را به بنگاه‌ها اجاره دهند.

(۳) بازار فقط شامل مجموعه خریداران و فروشندگان چیزی در مکان خاصی می‌باشد.

(۴) بنگاه‌ها در مبادلات خود با خانوارها باید به صورت حقیقی در بازار حضور یابند.

۱۵۱- در هنگام عدم تعادل، در وضعیت کمبود تقاضا در بازار، دولت از ابزار مالیات‌گیری جهت بهبود عملکرد بازار

استفاده می‌کند، از کدام نوع مالیات و با چه هدفی، مالیات گرفته می‌شود؟

(۱) مالیات مستقیم - کسب درآمد (۲) مالیات مستقیم - کاهش مصرف

(۳) مالیات غیرمستقیم - حمایت از مصرف‌کننده (۴) مالیات غیرمستقیم - کاهش مصرف

۱۵۲- جهت مقاوم‌سازی اقتصاد کشوری که با مشکلات «تورم»، «فقر» و «تحریم» روبرو است، به ترتیب چه راهکارهایی

مناسب است؟

(۱) سیاست پولی انبساطی - بهبود فضای کسب‌وکار - خودکفایی

(۲) سیاست پولی انقباضی - بهبود توزیع درآمد - تنوع شرکای تجاری

(۳) سیاست پولی انبساطی - سیاست افزایش نقدینگی - خلق مزیت اقتصادی

(۴) سیاست پولی انقباضی - کاهش وابستگی به اقتصاد تک‌محصولی - خلق مزیت اقتصادی

محل انجام محاسبات

۱۵۳- با توجه به جدول میزان مالیات پرداختی در یک جامعه برای موارد «الف» و «ب» به ترتیب، چند میلیون تومان است؟

تعرفه‌های گمرکی	۱۸۰ میلیون تومان
مالیات بر درآمد اشخاص	$\frac{1}{5}$ مالیات بر دارایی
مالیات بر دارایی	۲۴۰ میلیون تومان
عوارض خودرو	۳۵ میلیون تومان
مالیات شکر	۱۵ میلیون تومان

الف: مجموع میزان مالیات مستقیم پرداختی

ب: مجموع میزان مالیات غیرمستقیم پرداختی

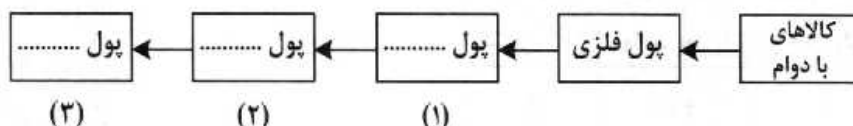
(۱) ۲۸۸ و ۲۱۵

(۲) ۲۸۸ و ۲۳۰

(۳) ۳۰۴ و ۲۱۵

(۴) ۳۰۴ و ۲۳۰

۱۵۴- با توجه به سرگذشت پول، کدام مورد مسیر تکاملی پول را به درستی تکمیل می‌کند؟



(۱) تحریری - ثبتي - دیجیتالی

(۳) تحریری - الکترونیکی - بیت کوین

(۲) اسکناس - تحریری - ثبتي

(۴) کاغذی - تحریری - الکترونیکی

۱۵۵- کدام سیاست اقتصادی، جهت مقابله با تحریم‌های تجاری مناسب است؟

(۱) افزایش درآمد سرانه

(۳) کاهش حجم نقدینگی و حفظ ارزش پول ملی

(۲) افزایش ارزش پولی صادرات و واردات

(۴) افزایش نسبت صادرات غیرنفتی به تولید کل

۱۵۶- کدام مورد به ترتیب «منشأ رشد اقتصادی» و «مؤلفه اندازه‌گیری پیشرفت اقتصادی» را ارائه می‌دهد؟

(۱) آموزش نیروی انسانی - افزایش عرضه نیروی کار

(۲) آموزش نیروی انسانی - میانگین سال‌های تحصیل

(۳) سرانه درآمد ناخالص داخلی - افزایش عرضه نیروی کار

(۴) سرانه درآمد خالص داخلی - میانگین سال‌های تحصیل

۱۵۷- کشور «الف» و «ب» فقط دو محصول برنج و چای تولید می‌کنند. کشور «الف» به ازای هر کیلو چای که تولید می‌کند از

تولید ۵ کیلو برنج صرف‌نظر می‌کند. کشور «ب» به ازای هر کیلو چای که تولید می‌کند از تولید ۸ کیلو برنج صرف‌نظر

می‌کند. با توجه به اطلاعات ارائه‌شده، کشور «الف» دارای کدام مزیت است؟

(۱) مزیت نسبی در تولید برنج

(۲) مزیت نسبی در تولید چای

(۳) مزیت مطلق در تولید برنج

(۴) مزیت مطلق در تولید چای

محل انجام محاسبات

۱۵۸- اگر کارخانه‌ای به دلیل کاهش فروش، مجبور شود به‌طور موقت تعدادی از کارگرها را بیکار کند، با توجه به جدول زیر، این کارخانه از کدام نوع بیکاری برخوردار است و نرخ بیکاری چند درصد است؟

جمعیت کل (نفر)	جمعیت زیر ۱۵ سال (نفر)	جمعیت غیرفعال (نفر)	جمعیت شاغل (نفر)
۳,۸۰۰,۰۰۰	۹۰۰,۰۰۰	۴۰۰,۰۰۰	۲,۵۰۰,۰۰۰

- (۱) دوره‌ای - ۲۰
(۲) اصطکاک‌ی - ۲۰
(۳) اصطکاک‌ی - ۳۰
(۴) دوره‌ای - ۳۰

۱۵۹- با توجه به اطلاعات ارائه شده پیرامون سطح عمومی قیمت‌ها در یک سال مشخص برای سه کشور «A»، «B» و «C»، سطح عمومی قیمت‌ها در انتهای سال برای کشور «A» و ابتدای سال برای کشور «B»، به ترتیب چند واحد پولی است؟

قیمت کشور	ابتدای سال (واحد پولی)	انتهای سال (واحد پولی)	نرخ تورم (درصد)
A	۴۰۰	؟	$\frac{1}{2}C$
B	؟	۴۴۸	سه برابر A
C	۲۰۰	۲۸۰	۴۰

- (۱) ۲۸۰ ، ۴۸۰
(۲) ۳۲۵ ، ۴۸۰
(۳) ۲۸۰ ، ۵۲۰
(۴) ۳۲۵ ، ۵۲۰

۱۶۰- در جدول زیر اطلاعات کشوری برای ۴ سال متوالی ارائه شده است. پاسخ پرسش‌های «الف» و «ب» کدام است؟

سال	دهک دهم	دهک اول
۱۳۸۶	۲۰	۴
۱۳۸۷	۲۷/۵	۵
۱۳۸۸	۳۲	۸
۱۳۸۹	۲۱	۶

الف: توزیع درآمد آن کشور در چه سالی نامناسب‌تر است؟

ب: در آن جامعه در کدام سال توزیع درآمد عادلانه‌تر است؟

- (۱) ۱۳۸۷ ، ۱۳۸۹
(۲) ۱۳۸۷ ، ۱۳۸۸
(۳) ۱۳۸۹ ، ۱۳۸۷
(۴) ۱۳۸۹ ، ۱۳۸۶

۸۴- « إِنَّمَا الإِعْصَارُ رِيَاخٌ شَدِيدَةٌ لَهَا قُدْرَةٌ تَلْتَفُّ حَوْلَ الْأَشْيَاءِ، وَ هَذِهِ الظَّاهِرَةُ تُعَدُّ أَسَاسَ ظَاهِرَةِ مَطَرِ الْأَسْمَاكِ! »:

- ۱) گردباد فقط بادهای شدیدی است که قدرتی دارد که به دور اشیاء می‌پیچد، و این پدیده اساس پدیده باران ماهیها بشمار می‌آید!
- ۲) فقط گردباد بادهای شدید با قدرت زیاد است که به دور اشیاء می‌چرخد، و این پدیده‌ایست که اساس پدیده باران ماهیها شمرده می‌شود!
- ۳) فقط گردباد است که بادهای سخت نیرومندی است که به دور اشیاء می‌پیچد، و این پدیده را اساس پدیده باران ماهیها بشمار آورده‌اند!
- ۴) گردباد فقط بادهای سخت با قدرتی است که دور اشیاء پیچیده آنها را می‌چرخاند، و این پدیده ایست که آن را اساس پدیده باران ماهیها شمرده‌اند!

۸۵- « رَأَى الْمُشَاهِدُونَ سَحَابَةً سُودَاءَ تَقْتَرِبُ بِسُرْعَةٍ، فَقَالُوا مُحْذِرِينَ: لِنَتْرِكَ الْمَكَانَ قَبْلَ أَنْ تُدْرِكَنَا الرِّيَاخُ الشَّدِيدَةُ وَ تُمَطِّرَ السَّمَاءَ مَطْرًا غَزِيرًا! »:

- ۱) مشاهده‌کنندگان ابر سیاهی را که سرعت نزدیک می‌شد می‌دیدند و ترسان گفتند: باید قبل از اینکه بادهای تند و باران شدید از آسمان بیاید و به ما برسد، این مکان را ترک کنیم!
- ۲) بینندگان در حالیکه ابری سیاه را که به سرعت نزدیک می‌شد دیدند محتاطانه گفتند: پیش از رسیدن بادهای سخت و باریدن بارانهای شدید، این مکان را باید ترک کنیم!
- ۳) بینندگان ابر سیاهی را دیدند که با سرعت نزدیک می‌شد، با هشدار گفتند: این مکان را باید ترک کنیم قبل از اینکه بادهای تند به ما برسند و آسمان باران فراوان ببارد!
- ۴) مشاهده‌کنندگان ابری سیاه را می‌دیدند که به سرعت نزدیک می‌شد پس با ترس گفتند: باید این مکان را ترک کنیم پیش از آنکه بادهای تند به ما برسد و از آسمان باران فراوان ببارد!

۸۶- عَيْنُ الصَّحِيحِ:

- ۱) إِيَّاكَ وَ مَا يُفْسِدُ عَمَلِكَ، إِنَّمَا يُفْسِدُ عَمَلَكَ الرِّيَاءُ: تو را از آنچه عملت را تباه می‌کند برحذر می‌دارم، فقط دورویی عملت را فاسد می‌کند!
- ۲) إِنَّمَا الْحَيَاةُ الدُّنْيَا قَصِيرَةٌ لِلَّذِينَ يَعْقِلُونَ وَ يَنْتَبِهُونَ: زندگی دنیا فقط برای آنها که اندیشیده‌اند و آگاه شده‌اند کوتاه است!
- ۳) حَذْرُهُ مِمَّا يُبْعِدُهُ مِنْ مَوْضِعِ الدَّرْسِ، لِأَنِّي أُرِيدُ الْخَيْرَ لَهُ: او را از آنچه از موضوع درس دور می‌کند، برحذر داشتیم زیرا من فقط خیرش را می‌خواهم!
- ۴) إِنَّمَا مَكْتَبَةُ الْمَدْرَسَةِ مَكَانٌ لِلْمَطَالَعَةِ، لَيْتَكُمْ يَا أَصْدِقَائِي تُدْرِكُونَ ذَلِكَ: کتابخانه مدرسه جایی برای مطالعه است، دوستان من شاید درکش کنید!

۸۷- عَيْنُ الْخَطَا:

- ۱) إِنَّمَا نَزْدَادُ قُوَّةً عِنْدَمَا نُدْرِكُ أَنْ يَدَ الْعَوْنِ الَّتِي نَحْتَاجُ إِلَيْهَا لَا تَوْجَدُ إِلَّا فِي عَضُدِنَا: همانا توانائی ما زیاد می‌شود هنگامی که دریابیم که دست کمکی که به آن نیاز داریم فقط در بازوی خودمان وجود دارد!
- ۲) أَتَعْجَبُ مِمَّنْ يَكُونُ فِطْرًا عَلَى الْأَخْرِينِ، وَ هُوَ يُحِبُّ أَنْ لَا يَنْفَضُوا مِنْ حَوْلِهِ: از کسی که نسبت به دیگران تندخو است حال آنکه دوست دارد از اطرافش پراکنده نشوند، تعجب می‌کنم!
- ۳) مَنْ اعْتَمَدَ عَلَى نَفْسِهِ اعْتِمَادًا لَا يَحْتَاجُ إِلَى أَنْ يَمُدَّحَهُ النَّاسُ: هرکس کاملاً به خودش اعتماد داشته باشد نیاز به اینکه مردم او را ستایش کنند ندارد!
- ۴) لَا يَأْكُلُ الْأَطْعَمَةَ وَ الْأَشْرَبَةَ كَثِيرًا إِلَّا الْمَبْطَانُ وَ هُوَ لَا يَشْعُرُ بِهِ: فقط پرخور می‌تواند زیاد بخورد و بیاشامد و احساس پرخوری نکند!

- ۸۸- « انگور برزلی درختی است که میوه‌های آن بر تنه درخت می‌روید و از مهمترین خصوصیات آن اینست که در طول سال میوه می‌دهد. » عین الصحیح:
- (۱) عنب البرازیل شجره اثمارها تنمو على الجذع، و المواصفات المهمة لها أنها تنمر طول السنة.
- (۲) العنب البرازیلی شجرة تنمو اثمارها على جذعها، و من أهم مواصفاتها أنها تعطي اثماراً طول السنة.
- (۳) عنب البرازیلی هو شجرة تنمو الاثمار لها على جذوعها، و من المواصفات المهمة لها أنها تعطي الاثمار طول السنة.
- (۴) العنب البرازیلی الشجرة التي تنمو ثمارها على جذوعها، و أهم المواصفات فيها أنها تعطي اثمارها طول السنة.

■ ■ اقرأ النص التالي ثم أجب عن الأسئلة (۸۹ - ۹۳) بما يناسب النص:

- ﴿ ليس البر أن تولوا وجوهكم قبل المشرق و المغرب ولكن البر من آمن بالله و اليوم الآخر و الملائكة و الكتاب و النبيين و أتى المال على حبه ذوي القربى و اليتامى و المساكين و ابن السبيل و السائلين و في الرقاب * و أقام الصلاة و أتى الزكاة و الموفون بعهدهم إذا عاهدوا و الصابرين في البأساء * و الضراء و حين البأس *، أولئك الذين صدقوا و أولئك هم المتقون ﴾
- * الرقاب (ج رقية): العنق؛ القصد: إطلاق العيب
- * البأساء و الضراء: الشدائد و المصاعب
- * البأس: الحرب
- ۸۹- عین الخطأ:

- (۱) الإيمان بالله وحده هو رمز السعادة و مفتاح النجاح و سفينة النجاة.
- (۲) ليست التقوى منفصلة عن العمل فإنها تنادي بالعمل الصالح.
- (۳) من يؤدي الصلاة و لا يساعد الآخرين فإنه لم يقم بعمل بر.
- (۴) من لم يتحمل المصائب و الشدائد فإنه لم يشم رائحة التقوى.
- ۹۰- عین المناسب في تكميل العبارة: إذا أردت أن تقوم بالبر.....
- (۱) خص و قاءك بالعهد على المؤمنين و المؤمنات.
- (۲) أنفق من أموالك لأقربائك إذا كانوا مؤمنين بالله.
- (۳) فإنك تحتاج إلى الإيمان و العمل الصالح.
- (۴) أعط الزائد من أموالك المحتاجين.
- ۹۱- أي موضوع لم يذكر في النص:

- (۱) شرط البر
- (۲) علامة الصدق
- (۳) مصاديق الإيمان
- (۴) فائدة الوفاء بالعهد