



مشاوره تحصیلی هیوا

تخصصی ترین سایت مشاوره کشور

مشاوره تخصصی ثبت نام مدارس ، برنامه ریزی درسی و آمادگی
برای امتحانات مدارس

برای ورود به صفحه مشاوره مدارس کلیک کنید

برای ورود به صفحه نمونه سوالات امتحانی کلیک کنید




تماس با مشاور تحصیلی مدارس

۹۰۹۹۰۷۱۷۸۹



تماس از تلفن ثابت

همکار محترم شما می توانید برای نوبت دوم گلچینی از این سوالات را برداشت کنید و از دانش آموزان خود آزمون بگیرید

<p>۱- عدد مربوط به هر دسته کدام است دور آن خط بکشید .</p> <p>۱۳-۱۲-۱۴</p> 	<p>۸-۱۰-۱۵</p> 
<p>۲- ابتدا دسته ی ده تایی درست کنید سپس جای خالی را پر کنید .</p>  <p>یکی ده تایی</p>	<p>به حروف به عدد</p>
<p>۳- عدد ۷۵ چند رقم دارد؟ با رقم هایش عدد دیگری بنویسید</p>	
<p>۴- کدام یک از اعداد دو رقمی زیریکی آن ۲ تا بیشتر از ده تایی آن است دورش خط بکش و آن را با حروف بنویس ۴۷- ۵۷- ۳۶- ۲۹ با حروف</p>	
<p>۵- چهار عدد دو رقمی بنویسید که ده تایی آن ۵ باشد</p>	
<p>۶- با رقم های ۲ و ۳ تا می توانی اعداد دو رقمی بسازید</p>	
<p>۷- دو عدد دو رقمی بنویسید که رقم هایش مثل هم باشد</p>	
<p>۸- با رقم ۱ و ۹ بزرگ ترین و کوچک ترین عدد دو رقمی را بنویسید و سپس با حروف بنویسید . بزرگ ترین کوچک ترین با حروف با حروف</p>	
<p>۹- ادامه اعداد را بنویسید نود و یک - - نود و سه - - ۷۹ - - ۸۱ - ۸۲ - - -</p>	
<p>۱۰- دو عدد دو رقمی بنویسید که مجموع رقم هایش عدد ۶ بشود</p>	

۲۹ - ۳۷ - ۲۰ - ۲۴ - ۸۵ - ۹۳

۱۱ - دور اعداد بیشتر از ۲۵ خط بکشید .

۱۲ - حاصل جمع اعداد را با رسم چوب خط انجام دهید .

$$7 + 6 =$$

$$9 + 8 =$$

$$4 + 2 + 5 + 3 =$$

۱۳ - حاصل جمع زیر را با رنگ کردن مربع ها انجام دهید .



۱۴ - در جای خالی عدد مناسب قرار دهید .

$$\dots + \dots = 9$$

$$\dots + \dots = 8$$

$$\dots + \dots = 7$$

$$\dots + \dots = 6$$

۱۵ - حاصل عبارت را روی محور نشان دهید .

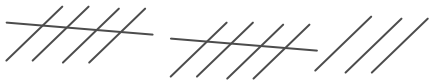
$$13 - 6 + 4 =$$



$$7 + 5 - 3 =$$



۱۶ - برای شکل زیر جمع بنویسید .



$$\dots + \dots + \dots = \dots$$

$$\dots + \dots + \dots = \dots$$

۱۷ - مریم ۹ گل سرخ زهرا ۷ گل میخک داشتند هر یک ۲ گل به خانم معلم هدیه دادند حالا روی هم چند گل دارند ؟

۱۸ - احمد ۸ کتاب قصه داشت و پدرش برای روز تولدش ۹ کتاب دیگر برایش خرید حالا او چند کتاب دارد ؟

اگر ۶ کتاب را به مدرسه هدیه بدهد چند کتاب برایش می ماند ؟

۱۹- نرگس ۱۵ شمع قرمز و آبی برای مادرش خرید اگر ۸ شمع او قرمز باشد چند شمع او آبی است؟

۲۰- الگوی عددی را با رنگی کردن مربع ها با چند مداد رنگی مختلف ادامه دهید.

--	--	--	--	--	--	--	--	--	--

--	--	--	--	--	--	--	--	--	--

..... - - - ۸ - ۴

۲۱- خانه ها را ۵ تا ۵ تا رنگ کنید و الگوی مناسب را بنویسید.

..... - - - ۱۰ - ۵

۱	۲	۳	۴	۵	۶	۷	۸	۹	۱۰
۱۱	۱۲	۱۳	۱۴	۱۵	۱۶	۱۷	۱۸	۱۹	۲۰
۲۱	۲۲	۲۳	۲۴	۲۵	۲۶	۲۷	۲۸	۲۹	۳۰

۲۲- دو عدد شصت و ده را با هم جمع کنید.

۲۳- جای خالی را پر کنید.

..... - ۲۴ - - ۱۲ - ۶

..... - ۴۸ - - ۲۸ - ۱۸

..... - ۴۰ - ۳۰ - - ۱۰

..... - ۱۲ - ۱۵ - - ۲۱

۲۴- علی ۷ بسته ده تایی مداد خرید و در پایان سال ۳ بسته ده تایی آن تمام شد حالا او چند مداد دارد؟


۲۵- جدول را کامل کنید.

۸۰	
۳۰	- ۱۰
۷۰	

۲۶- حاصل کدام عبارت با عدد نوشته شده یکی است دور آن خط بکشید.

۷+۹ ۹+۵ ۱۰+۶

۱۷-۸ ۱۶-۱۰ ۱۸-۸



۲۷- حاصل عبارت های زیر را به دست آورید .

$۱۳ - ۶ =$ $۱۸ - ۹ =$ $۱۴ - ۸ =$ $۹ + ۶ =$ $۷ + ۷ =$ $۵ + ۸ =$

۲۸- به صورت تقریبی اعداد (۱۷ - ۲۹ - ۸۷ - ۹۴) را پیدا کنید و علامت بزنید .





۲۹- جمع و تفریق از راه طولانی یا فرآیندی حل کنید .



$\begin{array}{r} ۲۸ \\ + ۳۹ \\ \hline \end{array}$		$\begin{array}{r} ۸۵ \\ - ۲۶ \\ \hline \end{array}$	
+		-	
.....		
.....		
.....		

۳۰- علی ۷۵ ستاره کاغذی داشت او ۲۵ ستاره را به خواهرش و ۱۷ ستاره را به برادرش داد حالا چند ستاره دارد ؟

۳۱- ساعت چند است ؟



۳۲- خط های زیر را به شکل های هندسی تبدیل کنید و نام آن ها را نیز بنویسید .



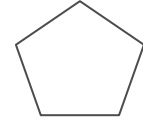
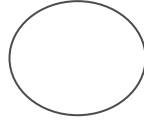
۳۳- ۴ ضلع و ۴ گوشه دارم و ضلع هایم با هم برابر است اگر گفتی من چه شکلی هستم ؟ شکل مرا بکش .

۳۴- هر شکل را به نامش وصل کنید .

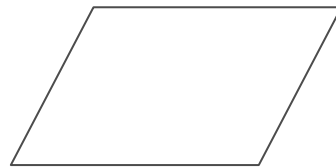
پنج ضلعی

مستطیل

دایره



۳۵- گوشه های شکل را رنگ کنید و بنویسید هر شکل چند گوشه دارد ؟



۳۶- چهار چیز بنویس که شبیه دایره باشد .

۳۷- کدام شکل شبیه مثلث است دورش خط بکشید .

کوه - کتاب - النگو - کلاه تولد

۳۸- حاصل عبارت های زیر را از راه تقریب به دست آورید .

$$\begin{array}{r} 68 \\ + 23 \\ \hline \end{array}$$

$$\begin{array}{r} 89 \\ - 34 \\ \hline \end{array}$$

۳۹- شکل های زیر چه شباهت و چه تفاوتی با هم دارند ؟



شباهت
تفاوت

۴۰- برای هر نام شکل ، شکل بکشید .

دایره

پنج ضلعی

مربع

مثلث

شش ضلعی

۴۱- الگوی عددی را ادامه دهید .

..... - - - ۹ - ۶ - ۴ - ۳

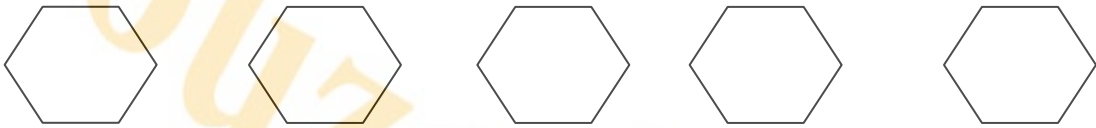
..... - - - ۱۴ - ۱۰ - ۶ - ۲

۴۲- ساعت چند است با رنگ کردن عدد ها نشان دهید .

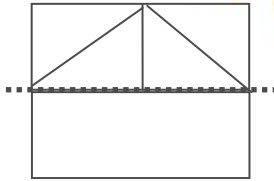


۱۰:۱۰

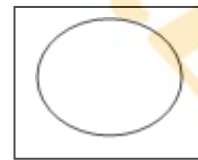
۴۳- شش ضلعی های زیر را به چند صورت به نیمه های مثل هم تقسیم کنید و خط تقارن بکشید .



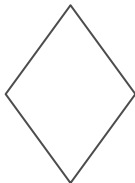
۴۴- نیمه ی دیگر شکل را کامل کنید .



۴۵- کدام شکل خط تقارن ندارد آن را رنگ کنید .



۴۶- با خط تقارن شکل ها را به چهار قسمت مساوی تقسیم کنید .



۴۷- رضا ساعت ۴ به ورزشگاه رفت و ۳ ساعت و نیم بعد به آن جا رسید . او چه ساعتی به ورزشگاه رسیده است ؟

۴۸- ساعت ۵ و ربع بود و مریم یک ساعت قبل به خانه رسیده بود. او چه ساعتی به خانه آمده بود؟ قرار بود ۲ ساعت ونیم دیگر به خانه ی مادر بزرگش برود او چه ساعتی به خانه مادر بزرگش می رود؟

۴۹- یک ساعت چند دقیقه است؟
 یک ساعت چند تا نیم ساعت است؟
 یک ساعت چند تا یک ربع است؟
 یک ساعت چند تا ده دقیقه است؟

۵۰- علامت <=> قرار دهید.
 ده دقیقه بیست دقیقه نیم ساعت یک ربع چهار تا یک ربع یک ساعت

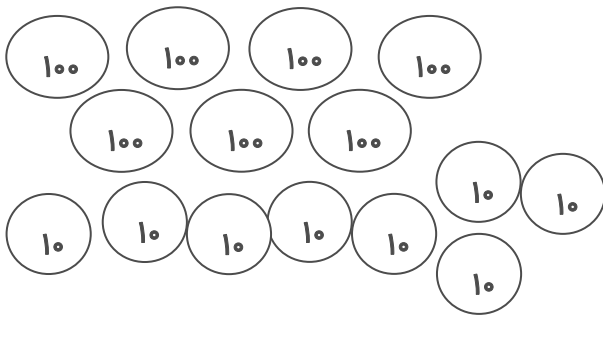
۵۱- یک سکه ی ۱۰۰ ریالی از سکه ی ۱۰ ریالی درست شده است.

۵۲- به اندازه ۱۰۰ ریال دو سکه بکشید.

۵۳- برای عدد زیر شکل و سکه بکشید و آن ها را در جدول قرار دهید.

شکل سکه	صد تایی	ده تایی	یکی
			۳۸۵

۵۴- به اندازه ی عدد داده شده شکل ها را رنگ کنید و در جدول قرار دهید.

شکل سکه	صد تایی	ده تایی	یکی
			۴۵۳

۵۵- دور عدد درست خط بکشید.

۳ صدتایی و ۷ ده تایی و ۹ یکی می شود = ۹۷۳ - ۷۹۳ - ۳۹۷ - ۳۷۹
 ۶ صدتایی و ۷ یکی و ۵ ده تایی می شود = ۶۵۷ - ۶۷۵ - ۵۷۶

۵۶- اعداد را با حروف و رقم بنویسید.

پانصد و شصت و سه =
 هشتصد و شش =
 ۹۰۱ =
 ۷۲۰ =

۵۷- چهار عدد سه رقمی بنویسید که مجموع رقم هایش ۸ باشد .

۵۸- بزرگ ترین عدد سه رقمی را بنویسید .

۵۹- قبل و بعد اعداد را بنویسید .
..... - ۳۰۰ - - ۸۳۰ -

۶۰- عددی سه رقمی بنویسید که یکان آن ۶ و صدگانش سه تا بیشتر از یکانش باشد .

۶۱- عددی سه رقمی بنویسید که صدگانش ۸ دهگانش دوتا کم تر و یکانش چهار تا کم تر از صدگان باشد .

.....

۶۲- از سکه داده شده به اندازه ی ۷۰ ریال جدا کن و رنگ بزن .



۶۳- از عدد ۳۴۰ تا ۴۴۰ را ۵ تا ۵ بنویسید .

.....

۶۴- اعداد را با حذف رقم یکان و دهگان به صورت تقریب بنویسید .

۲۸۵ ۱۲۴

۶۵- علی ۲۳۷ ریال و حسین ۴۸۵ ریال پول دارند آن ها روی هم تقریباً "چند ریال دارند به صورت تقریبی حل کنید

۶۶- شیرین ۴۸۰ ریال پول داشت از برادرش دو سکه ۱۰ ریالی و از مادرش سه سکه ۵۰ ریالی گرفت حالا چند ریال دارد .

۶۷- جمع و تفریق ها را از هر راهی که می توانی حل کنید . (جدول - محور)

۱۰۸	۹۸	۱۰۳	۸۵
+ ۲	- ۵	- ۶	+ ۷
_____	_____	_____	_____

۶۸- جای خالی را پر کنید .

$7 - 3 =$	$5 + 2 =$
$70 - 30 =$	$50 + 20 =$
$700 - 300 =$	$500 + 200 =$

۶۹- عدد وسطی به کدام عدد نزدیک تر است آن را رنگ بزنید . ۳۶۰ - ۳۵۲ - - ۴۹۰ - ۴۸۵ - ۴۸۰
۷۰- جای خالی را کامل کنید . ۹۳ - = ۶۱ + ۲۷ = ۴۷
۷۱- با کمک خط کش یک خط ۳ سانتی متری و یک خط ۴ سانتی متری بکشید .
۷۲- مربعی بکشید که هر ضلعش ۴ سانتی متر باشد .
۷۳- اگر مثلثی که همه ی ضلع هایش با هم برابر باشد داشته باشیم و اندازه ی همه ی ضلع هایش ۱۲ سانتی متر باشد هر ضلعش چند سانتی متر بوده است ؟
۷۴- علامت <=> قرار دهید . ۲ سانتی متر و ۷ میلی متر ۲۷ میلی متر ۳ سانتی متر ۳۸ میلی متر
۷۵- ۴۰ میلی متر سانتی متر . ۲ سانتی متر و ۵ میلی متر یعنی میلی متر ۷ سانتی متر میلی متر ۶۴ میلی متر سانتی متر و میلی متر
۷۶- مداد زهرا ۶ سانتی متر بود ولی از وسط شکست اگر گفتی هر تکه آن چند سانتی متر است ؟
۷۷- دو تا ۷ میلی متر چه قدر می شود ؟ ۱۴ میلی متر ۲ سانتی متر و ۴ میلی متر ۱۴ سانتی متر
۷۸- علامت مناسب <=> در جای خالی قرار دهید . ۷۰۰-۲۰۰ ○ ۷۰۰-۳۰۰ ۲۰۰+۲۰۰ ○ ۱۰۰+۳۰۰ ۲۸۵ ○ ۲۵۸ ۵۰۶ ○ ۵۶۰
۷۹- جای خالی را با عدد مناسب پر کنید . ۲۵۰ < > ۳۸۸

۸۰- دور اعداد کم تر از ۴۰۰ خط بکشید .

۱۹۱ - ۲۸۵ - ۳۴۹ - ۵۲۸ - ۴۰۳ - ۷۰۰

۸۱- جمع و تفریق کنید از راه فرآیندی .

$$\begin{array}{r}
 ۵۴۸ \\
 + ۱۷۹ \rightarrow ۱۰۰ + ۷۰ + ۹ \\
 \hline
 ۶۴۸ \\
 + ۷۰ \\
 \hline
 \dots\dots\dots \\
 + \dots\dots\dots \\
 \hline
 \dots\dots\dots
 \end{array}$$

$$\begin{array}{r}
 ۸۹۶ \\
 - ۴۵۹ \rightarrow ۴۰۰ + ۵۰ + ۹ \\
 \hline
 ۴۹۶ \\
 - ۵۰ \\
 \hline
 \dots\dots\dots \\
 - \dots\dots\dots \\
 \hline
 \dots\dots\dots
 \end{array}$$

۸۲- هر دو عدد را با استفاده از علامت $>= <$ با هم مقایسه کنید .

۱۸۵ و ۳۹۱

۴۰۸ و ۷۰۶

۸۳- عدد صد و هفتاد و نه و ششصد و هفده را یک بار با هم جمع و یک بار از هم تفریق کنید از راه طولانی یا فرآیندی .

۸۴- در مدرسه شهید مطهری ۲۸۶ نفر کلاس اول و ۳۰۵ نفر کلاس دوم هستند در این مدرسه چند نفر کلاس اول و دوم هستند؟ برای مسابقات ورزشی ۱۱۰ نفر را انتخاب کردند و به مسابقه بردند حالا چند نفر در مدرسه باقی ماندند؟

۸۵- جمع زیر را با کمک شکل انجام دهید و دسته ده تایی درست کنید .

۱۰۰
۱۰۰
۱۰۰
۱۰
۱۰
۱۰
۱۰

۱۰۰
۱۰۰



صد تایی	ده تایی	یکی
۳	۴	۷
+ ۲	۰	۵
<hr/>		

۸۶- تفریق زیر را با رسم شکل انجام دهید .

$$\begin{array}{r} 725 \\ - 239 \\ \hline \end{array}$$

۸۷- جمع و تفریق را انجام دهید از راه دسته بندی ده تایی یا با انتقال .

$$\begin{array}{r} 500 \\ - 281 \\ \hline \end{array} \qquad \begin{array}{r} 391 \\ + 285 \\ \hline \end{array}$$


۸۸- زهرا ۳۵۰ ریال پول داشت و ۴۰۰ ریال هم از مادرش گرفت و با ۵۱۰ ریال آن یک کتاب خرید چند ریال پول برایش مانده است؟

۸۹- چند تا از قسمت های شکل رنگ شده است جمله ها را کامل کنید .

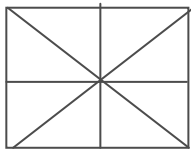


..... قسمت از قسمت

۹۰- با توجه به عبارت نوشته شده از هر شکل رنگ بزن .




۲ قسمت از ۹ قسمت مساوی



۴ قسمت از ۸ قسمت مساوی

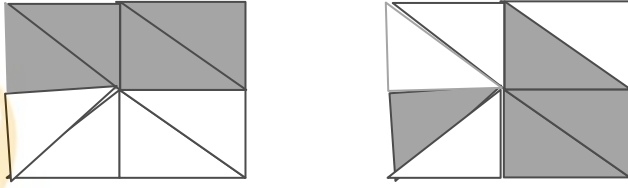
۹۱- در کدام شکل ۲ قسمت از ۴ قسمت مساوی را می توان رنگ زد آن را رنگ کنید .



۹۲- ۹ قسمت از ۱۵ قسمت را رنگ کنید .



۹۳- در کدام شکل احتمال برخورد نشانه به قسمت رنگی بیشتر است .



۹۴- کامل کنید .



..... دسته ی تایی



..... دسته ی تایی

۹۵- برای عبارت ها شکل بکشید .

۴ دسته ی ۲ تایی

۲ دسته ی پنج تایی

۹۶- در یک بسته ۹ دایره - ۳ مربع - ۲ مستطیل است .

احتمال برداشتن شکل از همه شکل ها بیش تر است .
احتمال برداشتن شکل از همه کم تر است .

۹۷- اعداد زوج و فرد را طبقه بندی کنید .

۴۳ - ۱۷ - ۷۵ - ۹۸ - ۲۰


زوج	فرد

۹۸- الگوی عددی را ادامه دهید .

..... - - - ۴۸۵ - ۴۸۰ - ۴۷۵

..... - - - ۳۶۰ - ۳۵۰ - ۳۴۰

۹۹- کامل کنید .



..... تا تا می شود =

..... تا تا می شود =

۱۰۰- برای تعداد دانش آموزان غایب نمودار بکشید .

تعداد	چوب خط	روزهای هفته

شنبه

یکشنبه

دوشنبه

سه شنبه

چهارشنبه

امیدوارم این نمونه سوالات کمکی برای شما همکار محترم باشد

به امید موفقیت روز افزون برای شما