

به نام خدا

نام و نام خانوادگی:

نام آموزگار :

آزمون فصل ۸

تاریخ: ۹۷/۲/۱۷

موضوع: آمار و نمودار

\*پاسخ های مناسب را مشخص کن.

۱- عدد ۳۵ زوج است.  صحیح  غلط

۲- سه دسته ی ۵ تایی برابر می شود با ۱۵  صحیح  غلط

\*گزینه ی مناسب را انتخاب کنید.

۱- ملورین سه گلدان دارد که در هر گلدان ۴ گل کاشته است. ملورین در گلدان ها روی هم چند گل کاشته است؟

۷  ۱۲  ۱  ۱۳

۲- آوینا تصمیم گرفت تعداد کل دانش آموزان مدرسه را شمارش کند او برای راحت بودن برای هر ۱۰ دانش آموز یک مربع رنگ می کرد حالا با توجه به شکل زیر تعداد کل دانش آموزان چند نفر است؟

۹۰  ۴۵  ۸۵  ۱۰۰




\*به سوالات زیر پاسخ بده.

۱- اولین عدد فرد بعد از ۲۱ چه عددی است؟

## هیوا تخصصی ترین سایت مشاوره کشور

۲- اولین عدد زوج بعد از عدد ۵۶۲ چه عددی است؟

۳- با رقم های ۲، ۳، ۴ کوچکترین عدد زوج سه رقمی را بساز.

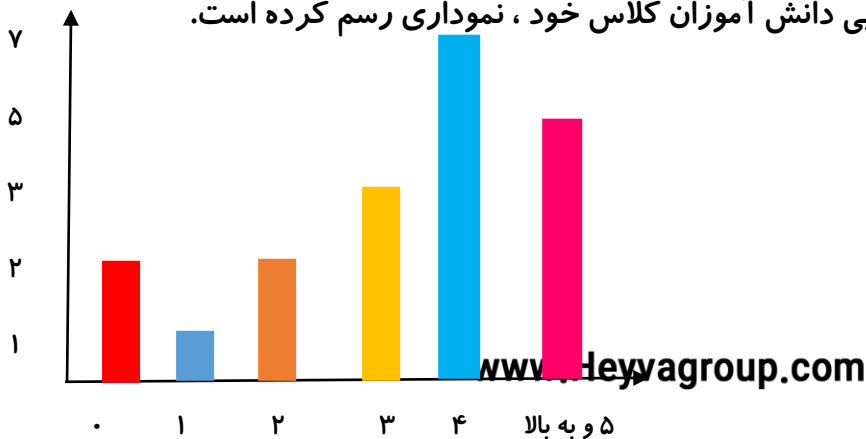
۱- این اطلاعات درباره ی تعداد گل های فروخته شده در یک گل فروشی است. هر  نشان دهنده ی ۲ گل است. برای آن نمودار مناسب رسم کن.

نام گل	تعداد
رز	۱۱
مریم	۴
نرگس	۸
میخک	۱۲
آفتابگردان	۳
کوکب	۷

\*کدام گل ها خریدار کمتری داشت؟

\*فروشنده برای این که گل بیشتری بفروشد باید چه گلی تهیه کند؟ چرا؟

\*معلمی از تعداد اشتباهات املايي دانش آموزان کلاس خود ، نموداری رسم کرده است.



## هیوا تخصصی ترین سایت مشاوره کشور

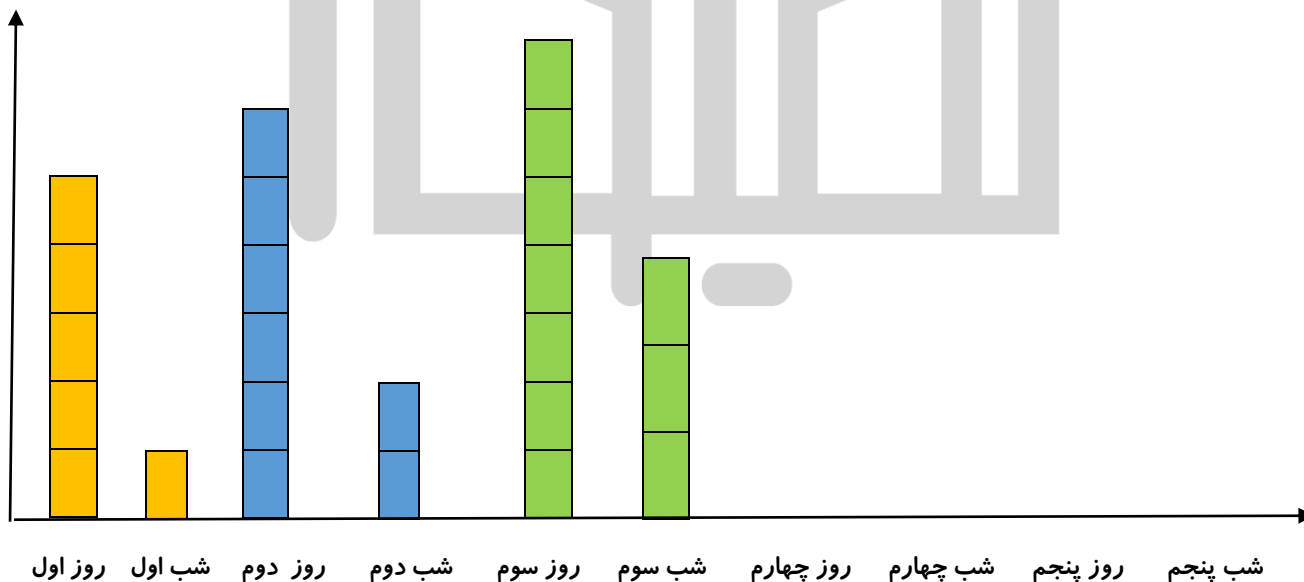
اگر او بخواهد به ۳ نفری که املاهای بهتری نوشته اند جایزه بدهد ، سه نفر اول تعداد اشتباهاتشان چند تا ست؟

اگر بخواهد به کسانی که کمتر از ۳ اشتباه املا دارند جایزه بدهد ، باید به چند نفر جایزه بدهد؟

اگر او بخواهد به کسانی که ۴ اشتباه املا یا بیش تر دارند ، تمرین اضافی بدهد ، باید به چند نفر تمرین دهد؟

\*یک کرم کوچک تلاش می کند خود را به بالای یک دیوار برساند . این کرم هر روز مقداری بالا می رود ولی در شب که به خواب می رود مقداری به پایین سر می خورد. نمودار بالا رفتن کرم را رسم کرده ایم .

اگر این الگو همین طور ادامه پیدا کند ، نمودار روز چهارم و پنجم را رسم کن.



« دختر زیبایم موفق باشی »

[www.Heyvagroup.com](http://www.Heyvagroup.com)