



مشاوره تحصیلی هیوا

تخصصی ترین سایت مشاوره کشور

مشاوره تخصصی ثبت نام مدارس ، برنامه ریزی درسی و آمادگی
برای امتحانات مدارس


برای ورود به صفحه مشاوره مدارس کلیک کنید

برای ورود به صفحه نمونه سوالات امتحانی کلیک کنید

تماس با مشاور تحصیلی مدارس

۹۰۹۹۰۷۱۷۸۹

تماس از تلفن ثابت



نام خانوادگی:

تاریخ: ۹۷/۲/۳

الف) گل نازم پاسخ مناسب را مشخص کن.

صحیح غلط

۱- ۴۷ میلی متر یعنی ۷ سانتی متر و ۴ قسمت از ۱۰ قسمت مساوی

صحیح غلط

۲- ۳ ده ریالی و ۲ قسمت از ده قسمت مساوی می شود ۲۳

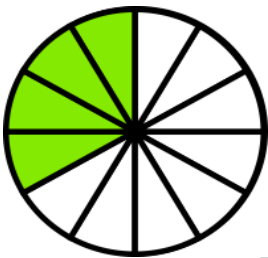
صحیح غلط

۳- یک ربع ساعت یعنی ۱ قسمت از ۴ قسمت مساوی

۴- به شکل ها نگاه کن و جاهای خالی را کامل کن .

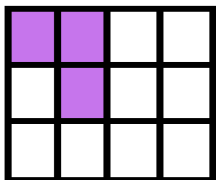
.....قسمت از قسمت مساوی رنگ شده است.

.....قسمت از قسمت مساوی رنگ نشده است.



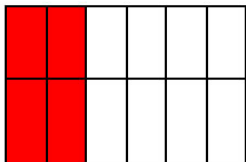
.....قسمت از قسمت مساوی رنگ شده است.

.....قسمت از قسمت مساوی رنگ نشده است.

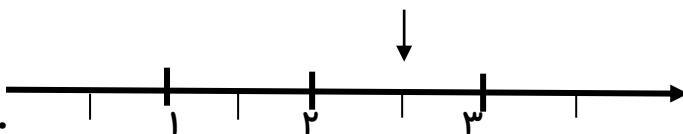


.....قسمت از قسمت مساوی رنگ شده است.

.....قسمت از قسمت مساوی رنگ نشده است.

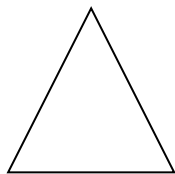


۵- با توجه به نقطه ی مشخص شده محور را کامل کن.

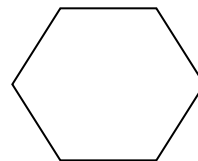


نقطه ی مشخص شده واحد و قسمت از قسمت مساوی است.

۶- با توجه به جمله های نوشته شده هر شکل را کاملاً ترینی بسایت مشاوره کشور

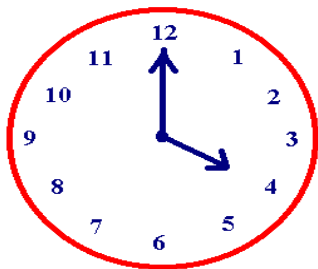


۲ قسمت از ۴ قسمت مساوی



۳ قسمت از ۶ قسمت مساوی

۷- ساعت چند است؟



الف: ۲۰ دقیقه ی بعد ساعت چند است؟ مقدار حرکت عقربه ی بزرگ را رنگ کن.

ب: مقدار رنگ شده قسمت از قسمت مساوی است.

۸- در داخل یک کیسه ۵ مهره ی قرمز ، ۳ مهره ی زرد و ۲ مهره ی سبز است . جمله های زیر را کامل کن.

الف:.....مهره ازمهره قرمز است.

ب:مهره ازمهره سبز است.

ج:مهره ازمهره زرد است.

اگر یک مهره از کیسه برداریم ، شانس کدام رنگ بیشتر است ؟ چرا ؟



.....دسته ی تایی می شود

۹- با توجه به شکل جمله ها را کامل کن.



.....دسته ی تایی می شود

۱۰- کتابخانه ی دبستان پیشگامان فردا ۱۵۷ کتاب علمی ، ۱۳۵ کتاب داستان و ۱۴۳ کتاب مذهبی دارد . در این

کتابخانه روی هم چند کتاب وجود دارد ؟