



مشاوره تحصیلی هیوا

تخصصی ترین سایت مشاوره کشور

مشاوره تخصصی ثبت نام مدارس ، برنامه ریزی درسی و آمادگی
برای امتحانات مدارس

برای ورود به صفحه مشاوره مدارس کلیک کنید

برای ورود به صفحه نمونه سوالات امتحانی کلیک کنید

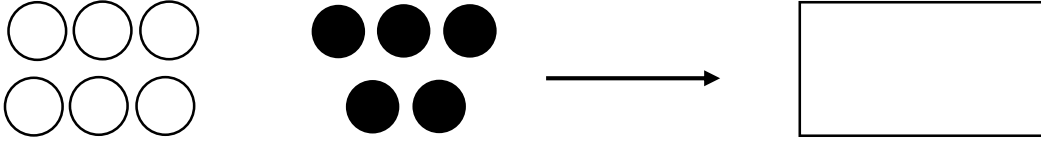
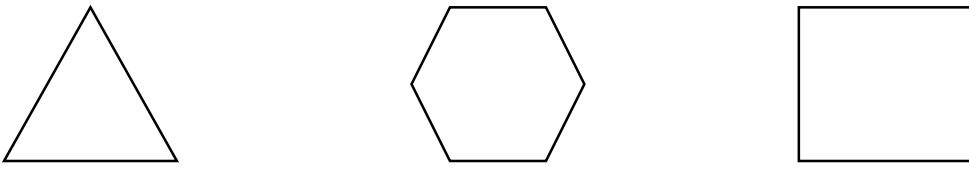
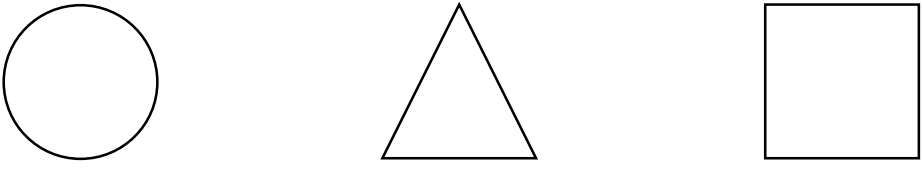

تماس با مشاور تحصیلی مدارس

۹۰۹۹۰۷۱۷۸۹



تماس از تلفن ثابت



| ردیف | سوالات | | | | |
|---------|--|---------|-----|--|--|
| ۱ | <p>شکل‌های هر دو دسته روی هم چندتا می‌شود با چوب خط نشان بده.</p>  | | | | |
| ۲ | <p>لبه‌ها را با قرمز و گوشه‌ها را با آبی رنگ بزن.</p>  | | | | |
| ۳ | <p>بین هر دو عدد علامت مناسب < = > بگذار.</p> <p>۷۰ ○ ۴۲ ۲۵ ○ ۴۶ ۵ + ۴ ○ ۱۰ - ۱</p> | | | | |
| ۴ | <p>در جای خالی عدد مناسب بنویس.</p> <p>۲۰ + ۱۰ + ۴ =</p> <p>۵ + ۳۰ + ۵ =</p> | | | | |
| ۵ | <p>نام هر شکل را بنویس.</p>  <p>.....</p> | | | | |
| ۶ | <p>دسته‌های ده تایی بساز و جدول را با توجه به آن کامل کن و در جای خالی عدد مناسب بنویس.</p>  <table border="1" style="margin-left: auto; margin-right: auto;"> <tr> <td>ده تایی</td> <td>یکی</td> </tr> <tr> <td style="border-right: 1px solid black; height: 80px;"></td> <td style="height: 80px;"></td> </tr> </table> <p>با عدد:</p> <p>با حروف:</p> | ده تایی | یکی | | |
| ده تایی | یکی | | | | |
| | | | | | |
| ۷ | <p>از عدد ۴۵ تا ۵۵ بنویس.</p> <p>۴۵ - - - - ۴۹ - - - - - ۵۴ -</p> | | | | |

جدول را کامل کن.

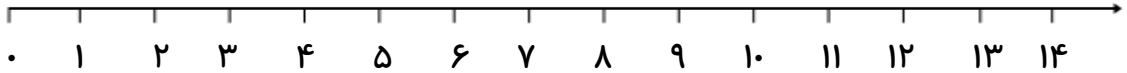
| | | |
|-------|-------|-------|
| ۱۳ | | ۳۵ |
| | هشتاد | |

۸


جمع روبه‌رو را روی محور نشان بده و جواب آن را بنویس.

$$۶ + ۴ = \dots\dots\dots$$

۹



تفریق روبه‌رو را به کمک شکل کامل کن.



۱۰

$$\dots\dots\dots - \dots\dots\dots = \dots\dots\dots$$

زمانی را که ساعت مقابل نشان می‌دهد روی نقطه چین زیر بنویس.



.....

۱۱

الگوی عددی زیر را با دقت ادامه بده.

$$۰ - ۵ - \dots\dots - \dots\dots - \dots\dots - \dots\dots - \dots\dots$$

۱۲

علی ۱۲ مداد آبی و ۵ مداد قرمز دارد. او روی هم چند مداد دارد؟ (با شکل یا چوب خط نشان بده.)

۱۳

دانش آموز:

خ خ ق ق ن ت

جمع و تفریق را به خوبی انجام می‌دهد.

اعداد را می‌شناسد و قادر به شمارش است.

مسئله را به خوبی درک و آن را حل می‌کند.

نظر والدین:

نظر معلم:

با آرزوی موفقیت برای شما

تعداد سوالات: ۱۳