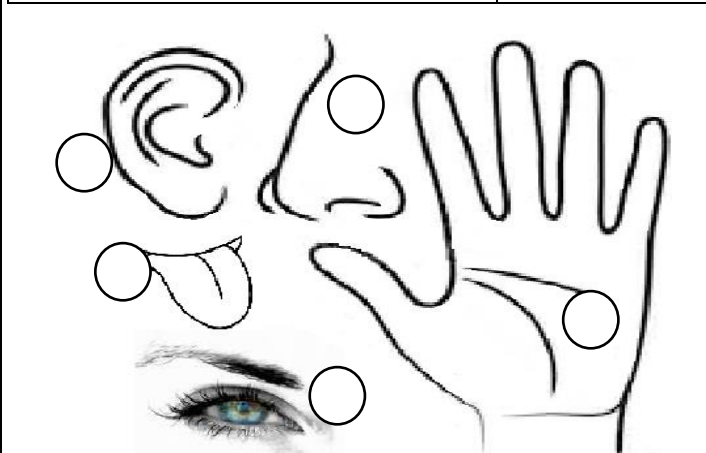




تاریخ : نوع آزمون : عملکردی طراح : شاه پوری	به نام خدا	نام : شماره : موضوع : علوم هدف : ارزشیابی پایانی ترم دو
---	------------	--

گردی حس بینایی را آبی ، حس شنوایی را زرد ، حس لامسه را قهوه ای ،
 حس بویایی را سبز و حس چشایی را قرمز کن .



برای استفاده از تلویزیون از کدام حواس استفاده می کنیم ؟

کدام جانور حس شنوایی قوی تری دارد ؟



چرا وقتی سرما خورده اید ، مزه ی غذا را متوجه نمی شوید ؟

لبنیات به چه چیزهایی می گویند ؟ (مثل ؟)

برای رشد بدن چه چیزهایی باید بخوریم ؟

ویتامین در چه چیزهایی است ؟

یک غذای گیاهی نام ببر .

یک غذای حیوانی نام ببر .

برای هر کدام از حرکت جانوران یک مثال بزن .

پرواز می کند	شنا می کند	می خزد	می جهد	راه می رود
-----------------------	---------------------	-----------------	-----------------	---------------------

چرا جانوران حرکت می کنند ؟

برای هر کدام از پوشش بدن جانوران يك مثال بزن .

پولک	پر	مو	پشم	صدف
.....

به چه جانورانی اهلی می گویند ؟

.....

چرم از چه چیز تهیه می شود ؟

جانوری نام ببر که برای خودش لانه می سازد ؟

گیاهان به چه چیزهایی نیاز دارند ؟

گیاه از چه می روید ؟

دانه کجا قرار دارد ؟

کدام قسمت گیاه تبدیل به میوه می شود ؟

يك ریشه ی خوراکی نام ببر

يك ساقه ی خوراکی نام ببر

يك برگ خوراکی نام ببر

کار ریشه چیست ؟

سه دانه ی روغنی نام ببر

آب به چه صورت هایی در طبیعت وجود دارد ؟

بزرگ ترین آب های روی زمین کجا قرار دارند ؟

چه آبی برای رشد گیاهان مناسب است ؟

چه آبی برای آشامیدن مناسب است ؟

وسیله ای نام ببر که برای کار کردن نیاز به آب دارد ؟

گیاهی را نام ببر که آب را در خود ذخیره می کند ؟

کدام جانور کم آبی را تحمل می کند ؟..... در کجا زندگی می کند ؟

کدام جانور مهاجرت می کند ؟

جانوری نام ببر که بچه به دنیا می آورد

سنگ های صاف بیشتر در دیده می شوند و سنگ های نوك تیز در دیده می شوند .

چه خاکی برای سفالگری مناسب است ؟

چه خاکی برای کشاورزی مناسب است ؟

چه جانوری در خاک زندگی می کند ؟

کدام جانور در خاک لانه می سازد ؟

چه چیز یخ را آب می کند ؟

گرما و نور زمین از چیست ؟

در زمستان چه رنگی برای لباسها مناسب است ؟

چه شغلی برای انجام کار به گرما نیاز دارد ؟

ابر به وسیله ی حرکت می کند .

چه چیزی حرکت را آسان می کند ؟

کدام وسیله هوا را آلوده نمی کند ؟ ماشین موتور دوچرخه

جسمی را نام ببر که جذب آهن ربا بشود

کدام قسمت آهن ربا بیشتر می رباید ؟

دو سر هم نام آهن ربا همدیگر را (می ربایند - دور می کنند) .

يك آهن ربای نعلی شکل بکش .

يك وسیله ی قدیمی برای پختن غذا نام ببر
يك وسیله ی قدیمی برای روشنایی خانه نام ببر



ارزشیابی عملکرد	موفق	تا حدودی موفق	ناموفق
۱ توانسته است به کلیه ی سوالات پاسخ درست بدهد.			
۲ تمیز ، خوانا و خوش خط نوشته است.			
۳ در وقت مشخص شده برگه را تحویل داده است.			