



مشاوره تحصیلی هیوا

تخصصی ترین سایت مشاوره کشور

مشاوره تخصصی ثبت نام مدارس ، برنامه ریزی درسی و آمادگی
برای امتحانات مدارس

برای ورود به صفحه مشاوره مدارس کلیک کنید

برای ورود به صفحه نمونه سوالات امتحانی کلیک کنید

تماس با مشاور تحصیلی مدارس

۹۰۹۹۰۷۱۷۸۹







تماس از تلفن ثابت

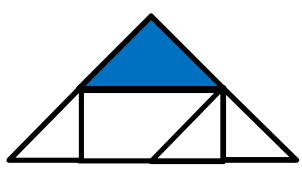


آزمون مدادکاغذی ریاضی چهارم

نام و نام خانوادگی :

شماره کلاسی :

تاریخ آزمون :

سوالات	ردیف									
<p>با توجه به مبلغی که در جشن نیکوکاری به نیازمندان کمک شده است به سوالات پاسخ دهید .</p> <div style="border: 1px solid black; border-radius: 50%; padding: 10px; width: fit-content; margin: 10px auto;">۸۹۷۶۵۳۲۴۰</div> <p>(الف) عدد چند رقمی است ؟ (ب) آن را به حروف بنویسید . (ج) رقم های طبقه هزار را بنویسید . (د) بزرگترین رقم در چه مرتبه ای قرار دارد ؟</p>	۱									
<p>الگو را ادامه دهید .</p> <p>۲۱۷۰ - ۲۲۰۰ - ۲۹۹۰ - -</p> <div style="display: flex; justify-content: space-around; align-items: center; margin-top: 20px;"> <div style="text-align: center;">  <p>شکل (۱)</p> </div> <div style="text-align: center;">  <p>شکل (۲)</p> </div> <div style="text-align: center;">  <p>شکل (۳)</p> </div> <div style="text-align: center;"> <p>.....</p> <p>شکل (۸)</p> </div> </div>	۲									
<p>در جای خالی عدد مناسب بنویسید .</p> <div style="display: flex; align-items: center; margin-top: 10px;"> <div style="border: 1px solid black; padding: 5px; margin-right: 10px;"> <table border="1" style="width: 100%; height: 100%; text-align: center;"> <tr><td style="height: 20px;"> </td></tr> <tr><td style="height: 20px;">۱۰۰</td></tr> <tr><td style="height: 20px;"> </td></tr> </table> </div> <div style="font-size: 2em; margin: 0 10px;">→</div> <div style="border: 1px solid black; padding: 5px; margin-right: 10px;"> <table border="1" style="width: 100%; height: 100%; text-align: center;"> <tr><td style="height: 20px;"> </td></tr> <tr><td style="height: 20px;"> </td></tr> <tr><td style="height: 20px;">۱۰۰</td></tr> </table> </div> <div style="font-size: 2em; margin: 0 10px;">→</div> <div style="border: 1px solid black; padding: 5px;"> <table border="1" style="width: 100%; height: 100%; text-align: center;"> <tr><td style="height: 20px;">۶۵۰</td></tr> <tr><td style="height: 20px;"> </td></tr> <tr><td style="height: 20px;"> </td></tr> </table> </div> </div> <p style="margin-top: 10px;">$48970 = \dots + 8000 + \dots + \dots$</p> <p>۱۰ تا صد هزرتایی می شود</p>		۱۰۰				۱۰۰	۶۵۰			۳
۱۰۰										
۱۰۰										
۶۵۰										
<p>عددها را با هم مقایسه کنید و علامت $< = >$ بگذارید .</p> <div style="display: flex; justify-content: space-around; align-items: center; margin-top: 10px;"> <div style="text-align: center;"> 300×30 <input type="radio"/> 40×300 </div> <div style="text-align: center;"> $\frac{1}{4}$ <input type="radio"/> $\frac{2}{12}$ </div> <div style="text-align: center;"> $\frac{3}{12}$ <input type="radio"/> $\frac{3}{19}$ </div> </div> <div style="display: flex; justify-content: space-around; align-items: center; margin-top: 10px;"> <div style="text-align: center;"> 6975340 <input type="radio"/> 4975340 </div> </div>	۴									
<p>برای شکل ، ۳ کسر مساوی بنویسید .</p> <div style="display: flex; align-items: center; margin-top: 10px;"> <div style="margin-right: 20px;">  </div> <div style="flex-grow: 1;"> <p style="text-align: center;">_____ = _____ = _____</p> </div> </div>	۵									
<p>بزرگترین عدد ۷ رقمی غیر تکراری را بنویسید که فرد باشد و یکان و دهگان هزار آن صفر باشد .</p>	۶									

۷	<p>در جای خالی عدد مناسب بنویسید .</p> $\frac{5}{7} = \frac{\bigcirc}{49}$ $\frac{9}{15} = \frac{3}{\bigcirc}$ $\frac{\bigcirc}{10} = \bigcirc$
۸	<p>کسر رنگی مربوط به شکل روبرو کدام است ؟</p>  <p>(الف) $\frac{1}{5}$ (ب) $\frac{2}{8}$ (ج) $\frac{1}{6}$</p>
۹	<p>جمع یا تفریق مربوط به هر شکل را بنویسید .</p>  
۱۰	<p>کشاورزی $\frac{3}{6}$ مزرعه ی خود را گل آفتابگردان و $\frac{3}{18}$ آن را گل رز کاشته است . الف) چه کسری از زمین را گل کاشته است ؟ ب) چه کسری از زمین بدون کشت مانده است ؟</p>
۱۱	<p>مریم روزی $\frac{3}{20}$ کتاب داستانش را مطالعه می کند . او پس از ۵ روز چه کسری از کتاب را مطالعه کرده است ؟</p>

ارزشیابی معلم

ن	ق	خ	خ	داند	۱
				عدهای نه رقمی را با رقم می نویسد و ارزش عددها را در جدول می داند	۱
				الگوهای عددی و شکل را کشف می کند و ادامه می دهد .	۲
				می تواند کسرها و عدد ها را با هم مقایسه کند .	۳
				می تواند گسترده ی عدد پنج رقمی را بنویسد .	۴
				برای شکل ، کسرهای مساوی می نویسد .	۵
				مسئله های مربوط به جمع و تفریق کسرها را انجام می دهد .	۶
				مسئله مربوط به ضرب کسرها را حل می کند .	۷