




نام زیباییت: ..... کلاس اول ارزشیابی ریاضی

۱- گل پسر. دور سومین توپ از سمت راست یک خط بسته بکش.












۲- پسر باهوش. شکل ها را بشمار و برای هر شکل هم چوب خط بکش و هم عدد آن را بنویس.



۲- پسر جدول ها را کامل کن.

	 سبز	
 آبی		
 زرد		



۳- پسر دانلکدام یک از شکل های زیر الگوی مشخصی دارد؟ آن را ادامه بده.

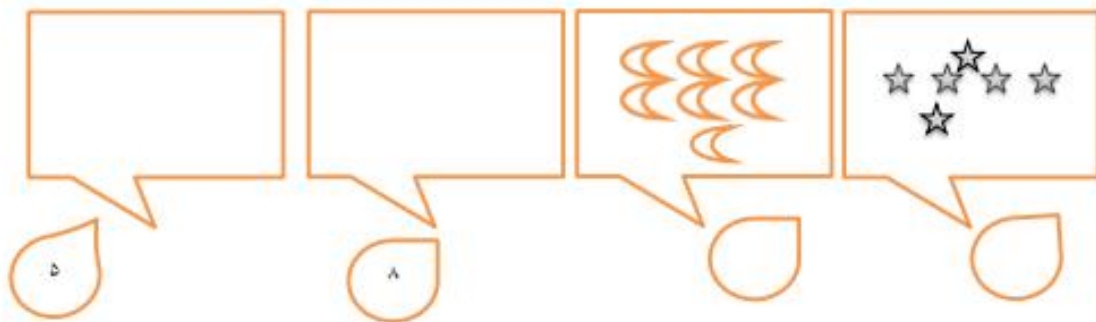


۴- پسر با ادب به تعداد انگشتان یک دستت شکل بکش سپس چوب خط بکش.

۵- پسر مهربانم هر شکل چند گوشه دارد؟ میله ها را رنگ کن. داخل آن چوب خط بکش سپس با شابلون طرف دیگر خط اشکال را به گونه ای بکش تا با تا کردن شکلها روی هم قرار بگیرد.




۶- عزیزم برای هر قسمت که شکل دارد عدد مناسب آن را بنویس و برای هر عدد شکل بکش.



۷- اندازه هر شکل چند قطش است عدد آن را بنویس




۸- شکل های سمت چپ و راست باهم چند تا است هم عدد آن را بنویس هم چوب خط بکش.



۹- ز رنگ کلاس جدول را کامل کن که دو نیمه مثل هم رنگ شود.


۱۰- ریاضی دان کوچک با خط کش خطی بکش تا شکل زیر به دو نیمه مثل هم تبدیل شود.



۱۱- گل همیشه بهارم با توجه به فلش قبل و بعد عدد های زیر را بنویس.



	۸	
--	---	--



	۱	
--	---	--

۱۲- دانشمند آینده جدول شگفت انگیز را کامل کن.

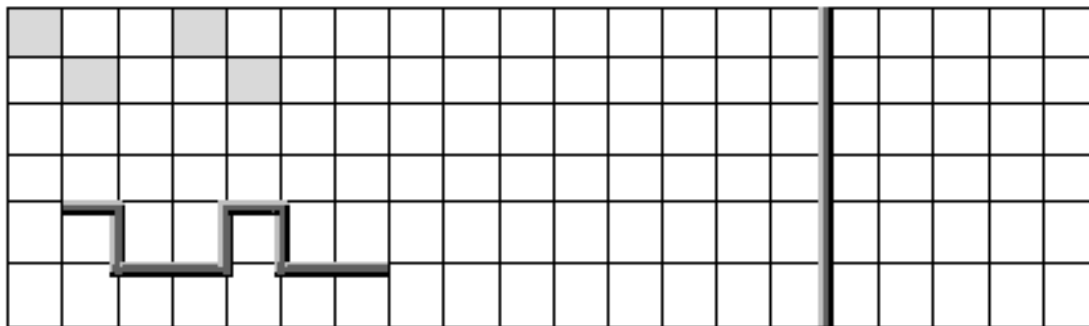


۴		۵	۲	۶	۷	۹	۸	۳
۲	۹	۶	۵	۸	۳	۷	۴	۱
۷	۳			۹	۴		۵	۶
۱	۲			۴	۶	۵	۳	۷
۵	۸	۳	۷	۲	۹		۶	۴
۶	۷	۴	۳	۱			۹	۲
	۵	۷	۲	۳		۴	۲	۹
۳	۶	۱	۹	۵	۲		۷	۸
۹	۴	۲	۶		۸	۳	۱	۵

۱۳- پریم بین اعداد علامت کمتری بیشتری یا مساوی  $< = >$  را بگذار. و بین  $< = >$  عدد مناسب بگذار.

۲ ..... ۴      ۲ ..... ۶      ۷ ..... ۸      ۵ ..... ۳      ۳ ..... ۲

۱۴- فرزندم. الگو را ادامه بده و الگوی تکرار شونده را بکش.



۱۵- آینده سازم اعداد زیر را از کوچک به بزرگ مرتب کن.

..... ۳-۷-۲-۰-۱-۴-۶-۹-۸-۵

اهداف	بلی	خیر	عملکرد دانش آموز
۱- سمت چپ و راست را می شناسد.			
۲- می تواند شمارش را انجام دهد و چوب خط بکشد.			
۳- می تواند جدول ترکیب شکل ها را کامل کند .			
۴- الگوی مشخص را از نا مشخص تشخیص می دهد و الگوی مشخص را ادامه می دهد.			
۵- می داند تعداد انگشتان یک دست پنج تاست.			
۶- گوشه و میله ی اشکال هندسی را می شناسد.			
۷- می تواند تقارن شکل های هندسی را بکشد.			
۸- مفهوم عدد را درک می کند و به تعداد آن شکل می کشد و بالعکس.			
۹- اندازه گیری را بلد است.			
۱۰- جمع اعداد بیشتر از ۵ را یاد گرفته است.			
۱۱- می تواند با یک شکل را به دو نیمه تبدیل کند.			
۱۲- مفهوم قبل و بعد اعداد را درک می کند.			
۱۳- می تواند جدول شگفت انگیز ۹ تایی را کامل کند.			
۱۴- مفهوم کمتر و بیشتری و مساوی را می فهمد.			
۱۵- می تواند الگوی شطرنجی را ادامه دهد و الگوی تکرار شونده را رسم کند.			
۱۶- می تواند اعداد ۰-۹ را از کوچک به بزرگ مرتب کند.			