

نام و نام خانوادگی : ..... به نام خدا

دبستان : ..... آزمون ریاضی اول نوبت دوم

۱۴	۱۷	۲۰	....	....	....
۷۸	۸۰	۸۲	....	....	....



۱



....	....	....	۱۷	۱۸	۱۹
....	....	....	۲۱	۲۳	۲۵

جمع ها را با استفاده از چوب خط حل کن .

۲

$$۵ + ۳ + ۷ = \dots\dots$$

$$۴ + ۹ + ۲ = \dots\dots$$

علامت < = > بگذار .

۳

$۵-۱۱$ ○ $۹+۷$	$۱۵$ ○ $۱۰+۱۰$	$۲۰+۲۲$ ○ $۴۲$	$۵$ ○ $۱+۲$
----------------	----------------	----------------	-------------

حسین ۱۳ عدد تخم مرغ خرید . ۲ تایی آن را نیمرو کرد .

۴

حسین اکنون چند تخم مرغ دارد ؟

جمع و تفریق های زیر را انجام بده .

۵

$$۳۴ + ۷ = \dots\dots$$

$$۱۵ + ۵ + ۵ + ۱۰ = \dots\dots$$

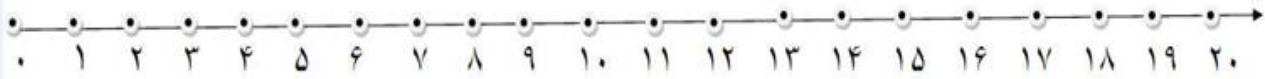
$$۱۸ + ۹ = \dots\dots$$

$$۲۰ + ۱۰ + ۱۰ + ۲۰ = \dots\dots$$

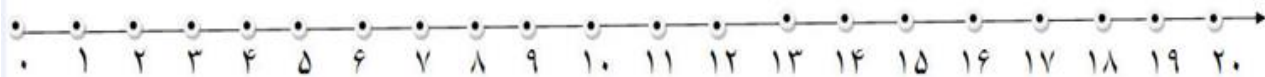
$20 - 15 = \dots$        $18 - 6 = \dots$        $32 - 5 = \dots$        $15 - 7 = \dots$

جمع و تفریق های زیر را روی محور نشان بده .

۶





$9 + 6 = \dots$



$17 - 5 = \dots$

جاهای خالی را با عدد مناسب پر کن .

۷



به عدد ..... به حروف : .....

جدول شگفت انگیز را کامل کن .

۸

۶	۲	۹	۸	۳	۷	۱	۴	۵
۷	۸	۱	۴	۹	۵	۳	۲	۶
۴	۳			۶			۹	۷
۵	۷			۴			۸	۱
۹	۴	۶	۳	۱	۸	۷	۵	۲
۸	۱			۵		۶	۳	۴
۲	۹			۸			۶	۳
۱	۶	۸	۵	۲	۳	۴	۷	۹
۳	۵	۴	۹	۷	۶	۲	۱	۸



باز خورد آموزگار :

-----