



مشاوره تحصیلی هیوا

تخصصی ترین سایت مشاوره کشور

مشاوره تخصصی ثبت نام مدارس ، برنامه ریزی درسی و آمادگی
برای امتحانات مدارس

برای ورود به صفحه مشاوره مدارس کلیک کنید

برای ورود به صفحه نمونه سوالات امتحانی کلیک کنید

تماس با مشاور تحصیلی مدارس

۹۰۹۹۰۷۱۷۸۹



تماس از تلفن ثابت

به نام ایزد یکتا

آزمون ریاضی

کلاس چهارم

تاریخ:

نام و نام خانوادگی:

نام آموزگار:

۱- با رقم های ۹ و ۴ و ۰ و ۳ و ۱ و ۷ بزرگترین و کوچک ترین عدد ۶ رقمی را بنویسید. اختلاف آنها را به دست آورید.

بزرگترین: کوچکترین:
اختلاف:

۲- با توجه به عدد داده شده پاسخ دهید. ((دویست و نه میلیون و پنج هزار و هیجده))

الف) عدد را با رقم بنویسد.

ب) بیشترین رقم چه ارزش مکانی دارد؟

ج) بیشترین ارزش مکانی مربوط به کدام رقم است؟

د) رقم ۵ در مرتبه و طبقه قرار دارد.

ه) دهگان میلیون رقم و دهگان هزار است.

و) گسترده این عدد را بنویسید.

۳- الگوها را ادامه دهید.

۴۱۷۰ - ۴۲۰۰ - ۴۱۹۵ - ۴۲۲۵ - - - -

$\Delta \nabla \bigcirc - \Delta \nabla \Delta \bigcirc - \nabla \Delta \nabla \Delta \bigcirc - \quad - \quad -$

در شکل دهم چند دایره و چند مثلث وجود دارد؟

۴- در جاهای خالی عدد مناسب بنویسید.

$975840 = \dots + \dots + 5000 + \dots + 40$

$148950024 = \dots + \dots + 800000 + \dots + \dots + 20 + 4$

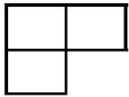
$300 \times \dots = 240000$ تا صد هزار تایی می شود

$\dots \times 9000 = 6300000$ تا ده هزار تایی می شود

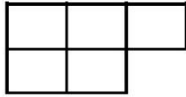
۵- یک دونه روز اول ۴۰۰۵۹ متر و روز دوم ۴۰۸۵۹ متر و روز سوم ۳۰۷۴۳ متر دوید. در این ۳ روز چه مسافتی را طی کرده است؟
 اعداد را از کمتر به بیشتر مرتب کن.

..... < <

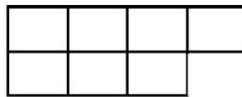
۶- با توجه به الگو شکل ششم از چند مربع تشکیل شده است؟ رابطه را توضیح دهید.



(۱)

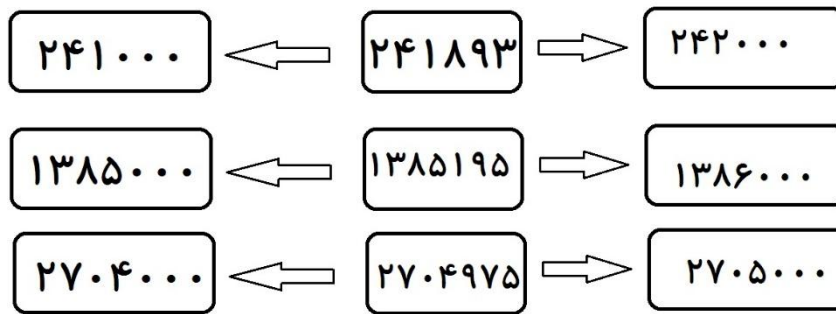


(۲)



(۳)

۷- عددهای داده شده به کدام عدد نزدیک تر است؟ رنگ بزن.



۸- عددی که هر عبارت نشان می دهد را بنویسید.

الف) ۱۷ تا ده هزار تایی + ۴ تا هزار تایی + ۳ ده تایی می شود

ب) ۶ تا صد هزار تایی + ۱۳ تا ده هزار تایی + ۸ تا صد تایی می شود

ج) ۴ تا یک میلیون + ۱۲ تا صد هزار تایی + ۵ تا هزار تایی می شود

ه) $۷۰۰۰۰۰۰ + ۳۰۰۰۰۰۰ + ۹۰۰۰۰۰ + ۸۰۰۰۰ + ۵۰۰ + ۷ =$

و) $۴۰۰۰۰۰۰۰ + ۹۰۰۰۰۰۰۰ + ۶۰۰۰۰۰۰ + ۷۰۰۰۰۰ + ۳۰۰۰ + ۹ =$