



مشاوره تحصیلی هیوا

تخصصی ترین سایت مشاوره کشور

مشاوره تخصصی ثبت نام مدارس ، برنامه ریزی درسی و آمادگی
برای امتحانات مدارس

برای ورود به صفحه مشاوره مدارس کلیک کنید

برای ورود به صفحه نمونه سوالات امتحانی کلیک کنید

تماس با مشاور تحصیلی مدارس

۹۰۹۹۰۷۱۷۸۹



تماس از تلفن ثابت

بِسْمِ اللَّهِ الرَّحْمَنِ الرَّحِيمِ


نام و نام خانوادگی:.....
نام معلم:.....
تاریخ:.....
آزمون ریاضی

۱- نازنینم با کارت های ۳، ۷، ۴، ۹ عدد های دو رقمی بنویس.

حالا بین عدد هایی که نوشتی بیشترین و کمترین عدد را پیدا کن و بنویس.



کمترین عدد



بیشترین عدد



۲- ساعت چند است؟

- ۳۰ دقیقه ی بعد ساعت چند می شود؟

- نیم ساعت بعد از ۷:۱۵ ساعت چند می شود؟

۳- جمع و تفریق کن.

$$۳۰ + ۱۰ + ۵ + ۵ + ۹ + ۲۰ =$$

$$۸۰ - ۳۰ =$$

$$۲۰ + ۴۰ =$$


$$\begin{array}{r} ۵۱ \\ + ۳۴ \\ \hline \end{array}$$

$$\begin{array}{r} ۴۹ \\ - ۲۸ \\ \hline \end{array}$$

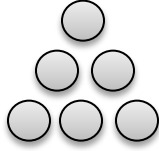
..... - - - ۲۴ - ۲۱ - ۱۹ - ۱۸



شکل ۱



شکل ۲



شکل ۳

شکل ۴

در شمارش شش تا شش تا ، قبل از عدد ۳۶ چه عددی است؟

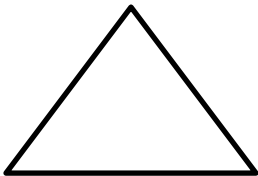
۵- همه عدد های دو رقمی را بنویس که یکان آن ۸ و ۶ و دهگان آن ۲ و ۴ باشند.

۶- محمد در کارگاه نجاری به پدرش کمک می کند . امروز محمد ۱۸ میز و پدرش ۲۸ میز ساختند.

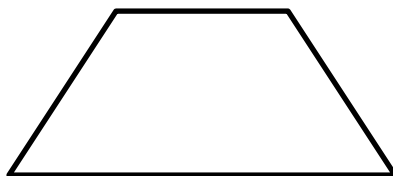
آن ها چند میز ساخته اند؟

اگر ۱۵ میز را بفروشند چند میز باقی می ماند؟

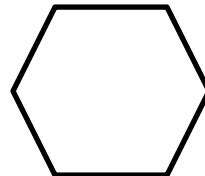
۷- شکل های زیر را به قسمت های خواسته شده تقسیم کن. (قسمت ها با هم مساوی باشند)



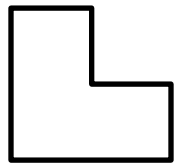
۲ قسمت



۲ قسمت



۶ قسمت



۳ قسمت

۸- مینا عددی را تقریب زد و گفت ۵۰ ، عددی که مینا تقریب زده می تواند چه عدد هایی باشد؟

موفق باشی عزیزم

نظر آموزگار:.....