


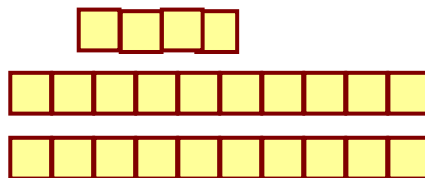


۱- برای جمع روبرو چوب خط بکش و جواب را بنویس . برای کشیدن چوب خط از دو مداد رنگی استفاده کن

$$6 + 7 = \dots\dots\dots$$

۲- کدام شکل خط تقارن زیادی دارد ؟ علامت بزن .



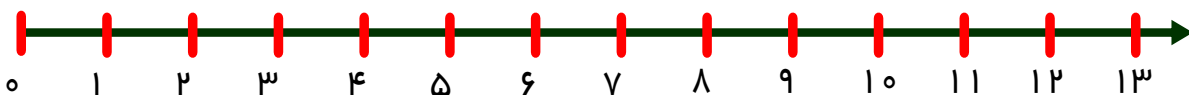
۳- گل ها چند تا هستند با چوب خط و عدد نمایش بده .



۴ - هر شکل را به عددش وصل کن .



۵- سه تا سه تا شمردن را روی محور اعداد نمایش بده .



۶ - عددی بنویس که یکی و ده تایی آن مثل هم باشد

۷ - حاصل جمع و تفریق هارا پیدا کن



$$۵ + ۵ + ۱۰ = \dots\dots$$



$$۴۰ + ۳۰ = \dots\dots$$



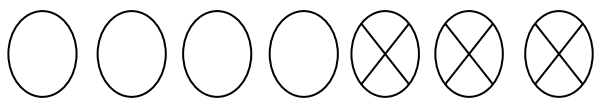
$$۲۰ - ۵ = \dots\dots$$

$$۳ + ۷ = \dots\dots$$

۸ - جمع و تفریق را روی محور نشان بده .



$$۱۲ - ۷ = \dots\dots$$



۹ - برای شکل روبه رو تفریق بنویس

$$\dots\dots - \dots\dots = \dots\dots$$



خسته نباشید گل های زیبا