



مشاوره تحصیلی هیوا

تخصصی ترین سایت مشاوره کشور

مشاوره تخصصی ثبت نام مدارس ، برنامه ریزی درسی و آمادگی
برای امتحانات مدارس

برای ورود به صفحه مشاوره مدارس کلیک کنید

برای ورود به صفحه نمونه سوالات امتحانی کلیک کنید

تماس با مشاور تحصیلی مدارس

۹۰۹۹۰۷۱۷۸۹



تماس از تلفن ثابت

به نام خدا

دبستان شاهد شهید بهشتی

فصل چهارم


آزمون مداد کاغذی ریاضی

سال تحصیلی ۹۳-۹۲

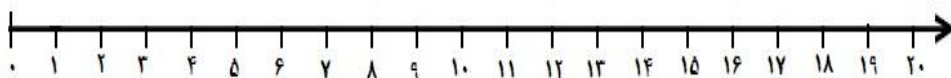
کلاس سوم ابتدایی

نام و نام خانوادگی:

۱. جدول زیر را کامل کنید .

شکل	جمع	ضرب
	$۴+۴+۴+۴+۴=$	
		$۲ \times ۷ =$

۲. ضرب را روی محور نشان داده و پاسخ ضرب را بنویسید.



$$۶ \times ۳ = \dots\dots\dots$$

۳. به سوالات زیر پاسخ دهید.

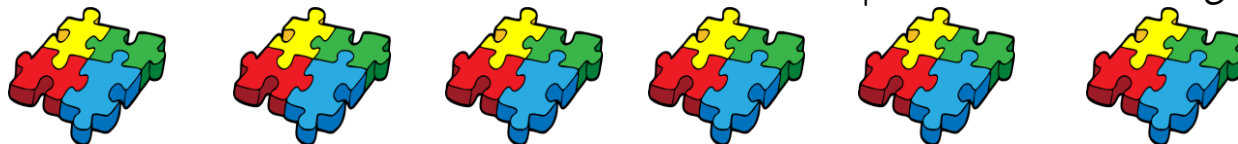
الف) ۸ هفته چند روز است؟

ب) هر دست قاشق ۶ قاشق دارد. ۹ دست قاشق چند قاشق دارد؟

ج) یک سکه ۳۰ ریالی چند برابر یک سکه ۵ ریالی است؟

د) ۶۳ مداد داریم. اگر آن ها را بین ۹ نفر تقسیم کنیم، به هر نفر چند مداد می رسد؟

۴. برای این شکل، یک ضرب و یک تقسیم بنویسید.



$$\dots\dots \times \dots\dots = \dots\dots$$

$$\dots\dots \div \dots\dots = \dots\dots$$

۵. حاصل ضرب های زیر را بدست آورید.

$$9 \times 8 = \dots\dots\dots$$

$$۶ \times ۶ = \dots\dots\dots$$

$$۷ \times ۳ = \dots\dots\dots$$

۶. جاهای خالی را کامل کنید.

هیوا تخصصی ترین سایت مشاوره کشور



$$6 \times 3 = \dots \times 6$$

$$(6 \times 5) - (2 \times 7) = \dots - \dots = \dots$$

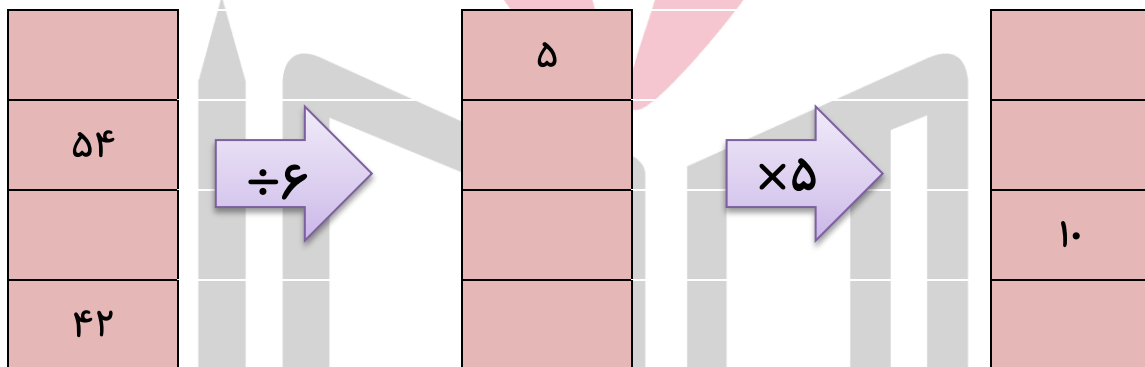
$$(5 \times 3) + (1 \times 1) = \dots + \dots = \dots$$



۷. فاطمه ۲۸ سال دارد. برادرش ۷ ساله است. سن فاطمه چند برابر سن برادرش است.



۹. جاهای خالی را پر کن.



۱۰. ۸ بشقاب داریم. در هر بشقاب ۲ سیب و ۴ پرتقال است. در این بشقاب ها چند میوه است؟

۱۱. در الگوی شمارش ۷ تا ۷ تا، از ۰ تا ۴۲ چند عدد است؟

$$-۴۲ - \dots - \dots - \dots - ۷ - \dots$$

