



مشاوره تحصیلی هیوا

تخصصی ترین سایت مشاوره کشور

مشاوره تخصصی ثبت نام مدارس ، برنامه ریزی درسی و آمادگی
برای امتحانات مدارس

برای ورود به صفحه مشاوره مدارس کلیک کنید

برای ورود به صفحه نمونه سوالات امتحانی کلیک کنید

تماس با مشاور تحصیلی مدارس

۹۰۹۹۰۷۱۷۸۹



تماس از تلفن ثابت

نام به نام خدا

نام و نام خانوادگی:

پایه چهارم

۹۶، ۱۰، ۳

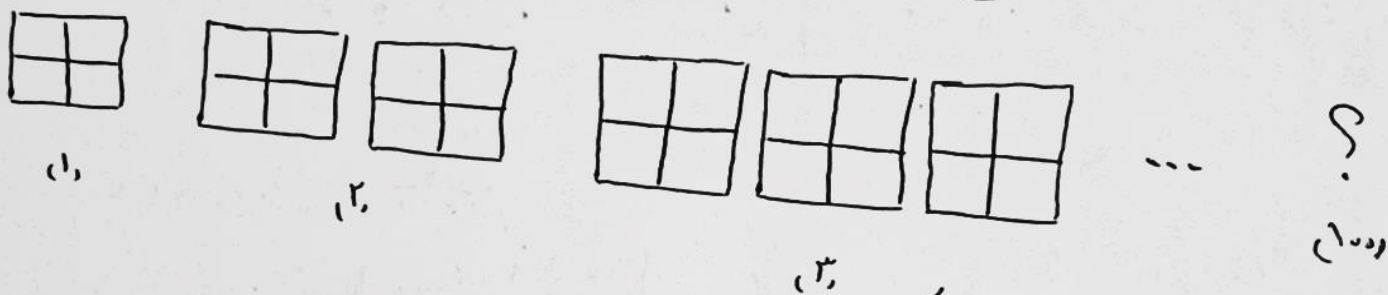
آزمون ریاضی

۱۱۰، ۲۲۰، ۳۳۰ و — و — و —

۱ و ۴ و ۹ و ۱۶ و — و —

۱- الگوهای زیر را ادامه دهید.

۲- در شکل زیر، شکل هفتم از چند مربع تشکیل شده است؟



۳

۲- با توجه به جدول، جاهای خالی را پر کنید.

هزار					
یکان	دهگان	صدها	یکان	دهگان	صدها
۵	۸	۶	۹	۳	۴
		↓	↓		↓
		۶۰۰			

بزرگترین رقم، رقم — است که در مرتبه ی —

قرار دارد.

رقم — بیشترین ارزش مکانی را دارد.

کوچکترین رقم، رقم — است که در مرتبه ی — قرار دارد.

رقم — کمترین ارزش مکانی را دارد.

۴- با رقم های داده شده بزرگترین و کوچکترین اعداد شش رقمی را بسازید.

الف) ۴، ۵، ۳، ۹، ۶، ۷

ب) ۶، ۸، ۹، ۰، ۲، ۱

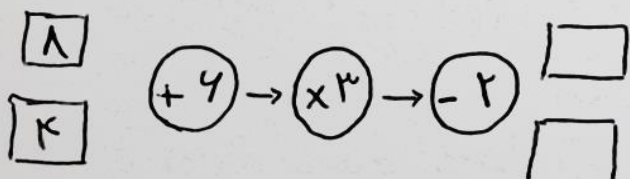
بزرگترین:

کوچکترین:


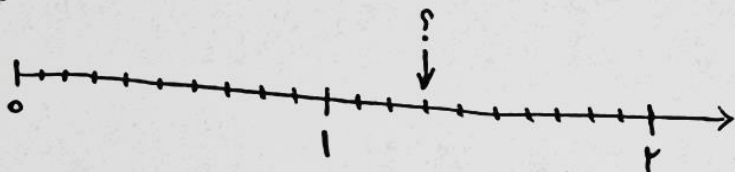
بزرگترین:

کوچکترین:

۵- ماسین ورودی - خروجی زیر را کامل کنید.



۶- عدد مخلوط مربوطه را به هر شکل را بنویسید.



۷- مقایسه کنید.

$$\frac{4}{5} \square \frac{3}{10}$$

$$\frac{3}{4} \square \frac{4}{7}$$

$$\frac{4}{30} \square \frac{4}{10}$$

۸- عبارت های زیر را حساب کنید.

$$\left(4 \times \frac{2}{10}\right) + \frac{1}{5}$$

$$\left(9 \times \frac{1}{18}\right) + \left(5 \times \frac{1}{18}\right) =$$

$$\left(\frac{9}{48} \times 5\right) - \left(3 \times \frac{1}{48}\right) =$$

$$5 \times \frac{4}{10} =$$

۹- می خواهیم $\frac{23}{48}$ شکلات را بین ۳ بزرگسال و ۴ کودک تقسیم کنیم، به طوری که به کودکان ۲ شکلات و به بزرگترها ۱ شکلات می دهیم. بعد از تقسیم شکلات ها چه کسری از کل شکلات ها میان باقی مانده است؟

۱۰- در جاهای خالی عدد مناسب قرار دهید.

- ربع $\frac{24}{100}$ می شود —

- نصف ۱۸ می شود —

- ثلث ۱۲ تا می شود —

- خمس ۱۵ تا می شود —