



مشاوره تحصیلی هیوا

تخصصی ترین سایت مشاوره کشور

مشاوره تخصصی ثبت نام مدارس ، برنامه ریزی درسی و آمادگی
برای امتحانات مدارس

برای ورود به صفحه مشاوره مدارس کلیک کنید


برای ورود به صفحه نمونه سوالات امتحانی کلیک کنید

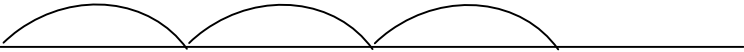
تماس با مشاور تحصیلی مدارس


۹۰۹۹۰۷۱۷۸۹



تماس از تلفن ثابت

نام و نام خانوادگی:		آزمون ریاضی پایه سوم	
کلاس:		شماره:	
۱	اعداد زیر را به رقم و حروف بنویسد. الف - ۲۰۹۰ عدد ۹ در چه مرتبه ای قرار دارد؟	ب- هفت هزار و چهارصد و شش کدام رقم، در بالاترین ارزش مکانی قرار دارد؟	
۲	جمع تفریق زیر را انجام دهید و درستی آن را امتحان کنید.	$\begin{array}{r} ۴۶۵۲ \\ + ۱۶۷۲ \\ + ۳۸ \\ \hline \end{array}$	$\begin{array}{r} ۸۷۲۴ \\ - ۲۲۵۱ \\ \hline \end{array}$
۳	در جای خالی علامت مناسب (<، >، =) بگذارید.	$۱۳۱۷ \square ۱۳۷$ $۳ \times ۱۰ \square ۶ \times ۴$	$۸ \text{ کیلومتر} \square ۷۹۰۰ \text{ متر}$ $۳ \text{ کیلو گرم و } ۵۰ \text{ گرم} \square ۳۰۵۰ \text{ گرم}$
۴	تعداد پاره خط های این شکل را مشخص کنید. نام هر پاره خط را بنویسید.		
۵	هر مسلمان در یک شبانه روز ۵ نوبت نماز می خواند. در ۴ شبانه روز چند نوبت نماز می خواند؟		
۶	فاصله ی خانه ی زهرا تا مدرسه اش ۵ کیلو متر است. فاصله ی خانه ی مریم تا مدرسه ۳۹۱۰ متر است. فاصله ی خانه ی کدام یک تا مدرسه نزدیک تر است؟ چه قدر؟		

۷	برای محور زیر، یک ضرب بنویسید. 
۸	در جای خالی، عدد مناسب بنویسید. $\square \times 3 = 21$ $7 \times 2 = \square$ $\square = 32 \div 8$ $6 \times 5 = \square$
۹	جرم یک هندوانه، نیم کیلو گرم از جرم یک خربزه ی ۲۵۷۶ گرمی بیش تر است. جرم هندوانه چند گرم است؟
۱۰	یک چهار ضلعی رسم کنید که ضلع های آن، با هم برابر باشد سپس <u>قطرهای</u> آن را رسم کنید.



رهنمود
