



مشاوره تحصیلی هیوا

تخصصی ترین سایت مشاوره کشور

مشاوره تخصصی ثبت نام مدارس ، برنامه ریزی درسی و آمادگی
برای امتحانات مدارس

برای ورود به صفحه مشاوره مدارس کلیک کنید




برای ورود به صفحه نمونه سوالات امتحانی کلیک کنید

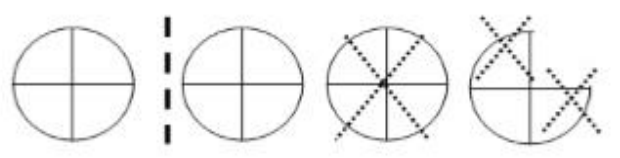

تماس با مشاور تحصیلی مدارس

۹۰۹۹۰۷۱۷۸۹



تماس از تلفن ثابت

<p>۱</p> <p>عدد بیست و سه میلیارد و چهارده میلیون و هفتصد و بیست و پنج هزار را با رقم بنویس الف) این عدد چند رقمی است؟ ب) دهگان میلیون این عدد چند است؟ ج) این عدد را با تقریب صد هزار بنویس</p> 	
<p>۲</p> <p>الگوی های زیر را ادامه دهید. $۷:۰۰' - \dots - ۷: ۲۰' - \dots - \dots$ $۳۲۰۰۰۰۰ - ۳۳۰۰۰۰۰ - \dots - \dots - \dots$</p>	
<p>۳</p> <p>کسرهای زیر را به عدد مخلوط تبدیل کنید. $\frac{۲۷}{۸} =$ $\frac{۱۲۵}{۶} =$</p>	
<p>۴</p> <p>یک نسبت مساوی $\frac{۱۵}{۴۵}$ بنویسید که مخرج آن ۹ باشد.</p>	
<p>۵</p> <p>جمع و تفریق زیر را انجام دهید. $۲\frac{۳}{۵} + ۱\frac{۱}{۱۵} =$ $۷\frac{۳}{۶} - ۴\frac{۲}{۷} =$</p>	
<p>۶</p> <p>زینب ۷۳۰۰ تومان پول داشت با $\frac{۳}{۵}$ آن یک کتاب کار ریاضی خرید. الف) پول کتاب چقدر شده؟ ب) چند تومان برایش باقی مانده است؟</p> 	
<p>۷</p> <p>اعداد مخلوط را به صورت کسر بزرگ تراز واحد بنویس . $۱۰\frac{۲}{۵} =$ $۵\frac{۳}{۷} =$</p>	
<p>۸</p> <p>$۲\frac{۴}{۵}$ را روی محور نشان بده .</p> 	

۹	جمع و تفریق های زیر را انجام دهید.
$\begin{array}{r} 35 \\ 37 \\ 6 \\ - 4 \\ \hline \end{array}$	$\begin{array}{r} 12 \\ 25 \\ 4 \\ + 3 \\ \hline \end{array}$
۱۰	سارا هر روز ساعت ۷:۲۵ از منزل خارج می شود و ساعت ۲:۴۵ بعد از ظهر به خانه برمی گردد. او هر روز چند ساعت بیرون از خانه است؟
۱۱	حاصل ضرب های زیر را به دست آورید.
$5 \times \frac{2}{3} =$	$2 \frac{2}{8} \times 1 \frac{4}{5} =$
۱۲	۱۵ متر پارچه داریم. اگر برای دوختن هرمانتو $2\frac{1}{4}$ متر پارچه لازم باشد، چندمانتو می توان دوخت؟
۱۳	برای شکل زیر یک تفریق کسری بنویس.
	
۱۴	کسرهای زیر را به روش دلخواه ساده کنید.
$\frac{60}{80} =$	$\frac{3}{8} \times \frac{2}{5} =$
۱۵	نادر ۱۸ کیلوگرم و امیر $5\frac{2}{3}$ کیلوگرم وزن دارند. اختلاف وزن آن دو چند کیلوگرم است؟
	
۱۶	تقسیم های زیر را انجام دهید.
$\frac{1}{3} \div 4 =$	$13 \div \frac{1}{2} =$

نیاز به تلاش بیشتر
 قابل قبول
 خوب
 خیلی خوب
 نظر آموزگار از امتحان دانش آموز: