



مشاوره تحصیلی هیوا

تخصصی ترین سایت مشاوره کشور

مشاوره تخصصی ثبت نام مدارس ، برنامه ریزی درسی و آمادگی
برای امتحانات مدارس

برای ورود به صفحه مشاوره مدارس کلیک کنید

برای ورود به صفحه نمونه سوالات امتحانی کلیک کنید

تماس با مشاور تحصیلی مدارس

۹۰۹۹۰۷۱۷۸۹



تماس از تلفن ثابت



مرکز ملی پرورش استعدادهای درخشان
و دانش پژوهان جوان

باسمه تعالی
جمهوری اسلامی ایران
وزارت آموزش و پرورش
مرکز ملی پرورش استعدادهای درخشان و دانش پژوهان جوان
معاونت دانش پژوهان جوان

مبارزه علمی برای جوانان، زنده کردن روح جست و جو و کشف واقعیت هاست. «ام خمینی (ره)»

دفترچه سؤالات مرحله اول سال ۱۳۹۶

سی و ششمین دوره المپیاد ریاضی

ساعت: ۰۹:۰۰ صبح

کد دفترچه: ۱

بانک مقالات ایران

مرکز دانش و مقالات
علمی و پژوهشی و
سؤالات آزمونها

www.edub.ir

مدت آزمون (دقیقه)	تعداد سؤالات	
	پاسخ کوتاه	پنج گزینه ای
۲۱۰	۱۶	۹

نام :

نام خانوادگی :

شماره صندلی :

توضیحات مهم

استفاده از ماشین حساب ممنوع است.

- ۱ - کد دفترچه سؤالات شما ۱ است. این کد را در محل مربوط روی پاسخ نامه با مداد پر کنید. در غیر این صورت پاسخ نامه شما تصحیح نخواهد شد. توجه داشته باشید کد دفترچه سؤالات شما که در زیر هر یک از صفحه های این دفترچه نوشته شده است، با کد اصلی که در همین صفحه است، یکی باشد.
- ۲ - بلافاصله پس از آغاز آزمون، تعداد سؤالات داخل دفترچه و وجود همه برگه های دفترچه سؤالات را بررسی نمایید. در صورت وجود هر گونه نقصی در دفترچه، در اسرع وقت مسئول جلسه را مطلع کنید.
- ۳ - یک برگ پاسخ نامه در اختیار شما قرار گرفته که مشخصات شما بر روی آن نوشته شده است. در صورت نادرست بودن آن، در اسرع وقت مسئول جلسه را مطلع کنید. ضمناً مشخصات خواسته شده در پایین پاسخ نامه را با مداد مشکی بنویسید.
- ۴ - برگه پاسخ نامه را دستگاه تصحیح می کند، پس آن را تا نکنید و تمیز نگه دارید و به علاوه، پاسخ هر پرسش را با مداد مشکی نرم در محل مربوط علامت بزنید. لطفاً خانه مورد نظر را کاملاً سیاه کنید.
- ۵ - سؤالات به دو شکل پاسخ کوتاه و پنج گزینه ای هستند؛ پاسخ درست به هر سؤال ۴ نمره مثبت و پاسخ نادرست به هر سؤال پنج گزینه ای ۱ نمره منفی دارد. پاسخ نادرست به سؤالات پاسخ کوتاه نمره منفی ندارد.
- ۶ - همراه داشتن هر گونه کتاب، جزوه، یادداشت و لوازم الکترونیکی نظیر تلفن همراه، ماشین حساب و لپ تاپ ممنوع است. همراه داشتن این قبیل وسایل حتی اگر از آن استفاده نکنید یا خاموش باشد، تقلب محسوب خواهد شد.
- ۷ - شرکت کنندگان در دوره تابستانی از بین دانش آموزان دهم و یازدهم انتخاب می شوند. به علاوه تعدادی از دانش آموزان دهمی، برای شرکت آزمایشی و کسب تجربه، برای شرکت در آزمون مرحله دوم پذیرفته خواهند شد.
- ۸ - داوطلبان نمی توانند دفترچه سؤالات را با خود ببرند. (دفترچه باید همراه پاسخ نامه تحویل داده شود).
- ۹ - آدرس وب گاه کمیته علمی المپیاد ریاضی ایران www.mathysc.ir و آدرس کانال تلگرام کمیته [@Iran_IMO](https://t.me/Iran_IMO) است.



دانش آموز عزیز، سؤال های این آزمون به دو شکل پنج گزینه ای و پاسخ کوتاه است. پاسخ درست به هر دو نوع سؤال ۴ نمره مثبت دارد. پاسخ غلط به هر سؤال پنج گزینه ای ۱ نمره منفی دارد ولی پاسخ غلط به سؤال های پاسخ کوتاه نمره منفی ندارد. پاسخ نامه در مورد هر دو نوع سؤال مشابه و شامل پنج ستون است که در هر کدام می توانید یک رقم از ارقام صفر تا نه را با سیاه کردن مشخص کنید.



جواب سؤال های پاسخ کوتاه، عددی نامنفی و کم تر از ۱۰۰۰۰۰ است. شما باید ارقام قسمت صحیح آن را جداگانه در پاسخ نامه سیاه کنید. به عنوان مثال اگر پاسخی ۶۹۵۰۷۳ بود شما باید از قسمت اعشاری صرف نظر کرده و در پاسخ نامه، مانند شکل روبه رو، رقم های مربوطه را سیاه کنید. در مورد سؤال های پنج گزینه ای، شماره گزینه درست را در ستون سمت راست، مربوط به رقم یکان، سیاه کنید.

۰. (سؤال شماره صفر!) کد سؤالات شما چند است؟ آن را در صفحه اول پاسخ نامه خود مشخص کنید. مشخص نکردن این کد، عواقب ناگواری دارد که روی جلد پاسخ نامه توضیح داده شده است.

۱. در روستایی با هزار نفر جمعیت، دویست نفر مبتلا به نوعی بیماری شده اند. با انجام یک آزمایش می توان بیماری را تشخیص داد ولی نتیجه خطا دارد، به این معنی که فرد بیمار را به احتمال ۵ درصد سالم و فرد سالم را به احتمال ۵ درصد بیمار اعلام می کند. فردی را به تصادف از مردم این روستا انتخاب کرده و از او آزمایش می گیریم. چند درصد احتمال دارد آن فرد بیمار اعلام شود؟

۲. کارخانه ای محصولاتش را در بسته هایی مکعبی بسته بندی می کند و در انبار هر ۵۱۲ بسته را به شکل مکعبی $۸ \times ۸ \times ۸$ به هم متصل می کنند. در شرایطی که دمای هوا از حدی بیش تر شود لازم است با جدا کردن این مجموعه ۵۱۲ تایی با صفحات افقی و عمودی، هر بسته دست کم یک وجه داشته باشد که با وجوه بسته های دیگر در تماس نباشد. کم ترین تعداد صفحه برای رسیدن به چنین وضعیتی چند تا است؟

۳. چند عدد هشت رقمی در مبنای چهار با ارقام ۱، ۲ و ۳ وجود دارد که بر ۳ بخش پذیر باشد؟

۴. پنج نقطه در صفحه داریم که هیچ سه تایی هم خط نیستند. همه پاره خط هایی که رئوسشان این نقاط است را رسم کرده ایم. حداقل چند نقطه جدید در محل تقاطع پاره خط ها به وجود می آید؟

۵ (۵)

۳ (۴) www.Heyvagroup.com

۱ (۲)

۱ (۱) صفر




۵. دور گود یک زورخانه ۱۲۸ صندلی، دایره‌وار، چیده شده است. تماشایی اولی که وارد زورخانه می‌شود روی صندلی شماره یک می‌نشیند. از آن‌جا که سرماخوردگی در شهر شایع شده، هر فردی که وارد می‌شود روی صندلی‌ای می‌نشیند که فاصله‌اش با نزدیک‌ترین صندلی اشغال‌شده بیش‌ترین مقدار ممکن باشد و اگر چند صندلی با این خاصیت وجود داشت آن‌که شماره‌اش کم‌تر است را انتخاب می‌کند. نفر ۳۹ روی کدام صندلی می‌نشیند؟

۶. عددی طبیعی n ، کوچک‌ترین عددی است که باقی‌مانده $۳n + ۴۵$ بر ۱۰۶۰ برابر ۱۶ است. باقی‌مانده $۱۸n + ۱۷$ بر ۱۹۲۰ چند است؟

۷. مساحت محصور بین نمودار تابع $y = [۱۰x] + \sqrt{1-x^2}$ در بازه $[۰, ۱]$ و محور طول‌ها چه قدر است؟ (منظور از $[t]$ ، جزء صحیح عدد t است.)

۸. شماره اصلی پلاک یک خودرو متشکل از یک عدد دو رقمی در سمت چپ، یکی از حروف الفبا در وسط و یک عدد سه رقمی در سمت راست است و از رقم صفر در این دو عدد استفاده نمی‌شود. به هر پلاک، ضرب دو عدد مورد اشاره را نسبت می‌دهیم. مثلاً به پلاک زیر عدد $۴۳۸۰ = ۱۲ \times ۳۶۵$ را نسبت می‌دهیم.



میانگین اعداد نسبت‌داده‌شده به تمام پلاک‌های ممکن، چند است؟


۹. قسمتی از پارک جنگلی لتیان که بین دو جاده واقع شده، آتش گرفته است. آتش با سرعت ۱۰ کیلومتر بر ساعت گسترش می‌یابد. اگر فاصله نقطه شروع آتش‌سوزی تا هر دو جاده ۱۰ کیلومتر باشد، پس از ۲ ساعت مساحت ناحیه سوخته‌شده چند کیلومتر مربع است؟ (جاده‌ها را خط‌های طولانی، راست و موازی با هم بگیرید و فرض کنید آتش از جاده عبور نمی‌کند.)

$$(۱) \quad ۲۰۰\sqrt{۳} \quad (۲) \quad ۱۰۰\sqrt{۳} \quad (۳) \quad ۴۰۰\sqrt{۳} + ۴۰۰\frac{\pi}{۳} \quad (۴) \quad ۲۰۰\sqrt{۳} + ۴۰۰\frac{\pi}{۳} \quad (۵) \quad ۴۰۰\sqrt{۳}$$

۱۰. مثلث ABC را در نظر بگیرید که $AB = AC = ۱۵$ و $BC = ۱۸$. نقاط D و E را به ترتیب روی CA و CB طوری بگیرید که $CD = ۵$ و $CE = ۳$. نقطه F را روی نیم‌خط \overrightarrow{DE} طوری در نظر بگیرید که $EF = ۸$. نقطه M را وسط AB و N را نقطه برخورد FM با BC بگیرید. طول CN چه قدر است؟



۱۱. طبق ضوابط، ساختمان‌های یک کوچه نباید بیش از ۹ طبقه داشته باشند. به علاوه اگر تعداد طبقات دو ساختمان، با هر چه قدر فاصله، برابر باشد، حتماً باید ساختمانی با تعداد طبقات بیش‌تر از آن دو بین‌شان وجود داشته باشد. حداکثر چند ساختمان در یک سمت کوچه می‌توان ساخت؟



۱۲. چند سه تایی (a, b, c) از اعداد طبیعی اکیداً کم‌تر از ۵۱ داریم که $a + b + c$ بر a ، b و c بخش پذیر باشد؟

۱۳. فردی می‌خواهد کنار دیوار باغش، ناحیه‌ای را برای نگهداری از مرغ و خروس‌هایش بسازد. او سه نرده به طول ده متر دارد. با استفاده از دیوار باغ، که مستقیم و طولانی است و این سه نرده، حداکثر مساحتی را که می‌تواند محصور کند چند مترمربع است؟

- ۱۰۰ (۱) $50 + 25\sqrt{3}$ (۲) $50 + 50\sqrt{2}$ (۳) $75\sqrt{3}$ (۴) ۳۰۰ (۵)

۱۴. برای چند مقدار صحیح k ، دستگاه معادلات زیر جوابی غیر از $a = b = c = 0$ در اعداد حقیقی دارد؟

$$\begin{cases} a^2 + b^2 = kc(a + b) \\ b^2 + c^2 = ka(b + c) \\ c^2 + a^2 = kb(c + a) \end{cases}$$

- ۰ (۱) ۱ (۲) ۲ (۳) ۳ (۴) بی‌نهایت (۵)

۱۵. فرض کنید a_1, a_2, \dots, a_n همان اعداد ۱ تا ۲۰ باشند که به ترتیبی دل‌خواه نوشته شده‌اند. عبارت $a_1 - a_2 + a_3 - \dots + a_n$ چند مقدار مختلف می‌تواند باشد؟

۱۶. زیرمجموعه‌ای از اعداد حقیقی دارای این خاصیت است که برای هر دو عضو متمایز آن مثل x و y ، داریم $(x + y - 1)^2 = xy + 1$. این مجموعه حداکثر چند عضو دارد؟

- ۱ (۱) ۲ (۲) www.Heyvagroup.com (۳) ۴ (۴) بی‌نهایت (۵)



۱۷. دو عدد طبیعی m و n کم‌تر از ۵۰۰ هستند و $[m, n] = (m - n)^2$. حداکثر مقدار $m + n$ چه قدر است؟ ($[m, n]$ کوچک‌ترین مضرب مشترک m و n است).

۱۸. سه میله با طول‌های ۱۳۹۶، ۱۴۳۹ و ۲۰۱۸ میلی‌متر روی زمین از یک سر به هم لولا شده‌اند. کم‌ترین مقدار ممکن برای شعاع دایره‌ای که از سه سر دیگر میله‌ها می‌گذرد چند میلی‌متر است؟

۱۹. فرض کنید $x \geq y \geq z$ اعدادی حقیقی و مثبت باشند که

$$x^2 + y^2 + z^2 \geq 2xy + 2yz + 2zx$$

حداقل مقدار $\frac{x}{z}$ کدام است؟

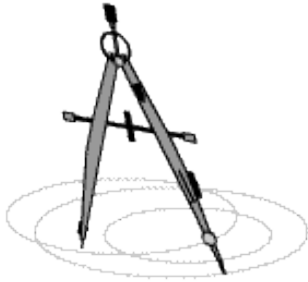
- ۱ (۱) ۲ (۲) $\sqrt{3}$ (۳) ۲ (۴) ۴ (۵)

۲۰. در چهارضلعی محدب و محاطی $ABCD$ داریم $\angle B = 110^\circ$. محل برخورد AD و BC را E و محل برخورد AB و CD را F می‌نامیم. اگر عمودهای E بر AB و F بر BC یک‌دیگر را روی دایره‌ی محیطی چهارضلعی در نقطه P قطع کنند. اندازه زاویه $\angle PDF$ چند درجه است؟

۲۱. نقطه P درون یا روی مثلث متساوی‌الاضلاع ABC به ضلع یک قرار دارد. قرینه P نسبت به AB را K ، قرینه K نسبت به BC را M و قرینه M نسبت به AC را N می‌نامیم. حداکثر طول NP کدام گزینه است؟

- ۱ (۱) $2\sqrt{3}$ (۲) $\sqrt{3}$ (۳) $\frac{\sqrt{3}}{2}$ (۴) ۱ (۵)

۲۲. هشت عدد کاشی مشابه 1×2 داریم که هر کدام از یک مربع قرمز و یک مربع آبی تشکیل شده است. به چند حالت می‌توان یک ناحیه 4×4 را با این کاشی‌ها پوشاند طوری که هر سطر و هر ستون آن دو مربع قرمز و دو مربع آبی داشته باشد؟



۲۳. پروانه پرگاری خرید و پس از باز کردن بسته آن متوجه شد طول میله سوزن دار ۱۰ سانتی متر و طول میله مدادی ۱۶ سانتی متر است! فرض کنید برای این که بتوان با آن پرگار دایره کشید، باید زاویه مداد با کاغذ دست کم ۳۰ درجه باشد ولی سوزن می تواند هر زاویه ای با صفحه کاغذ داشته باشد. تفاضل شعاع بزرگترین دایره و شعاع کوچکترین دایره ای که می توان با این پرگار کشید بر حسب سانتی متر به کدام گزینه نزدیک تر است؟

۲۰ (۵)

۱۲ (۴)

۱۰ (۳)

۷ (۲)

۶ (۱)

۲۴. دنباله $\{a_n\}$ با فرمول زیر تعریف می شود:

$$a_n = \sqrt{1 + \left(1 + \frac{1}{n}\right)^2} + \sqrt{1 + \left(1 - \frac{1}{n}\right)^2}$$

حاصل عبارت زیر چه قدر است؟

$$\frac{4}{a_1} + \frac{4}{a_2} + \dots + \frac{4}{a_{96}}$$

$\sqrt{19013}$ (۵)

$\sqrt{19013} - 1$ (۴)

$\sqrt{18625}$ (۳)

$\sqrt{18625} - 1$ (۲)

$\sqrt{18241}$ (۱)

۲۵. دانشمندان سیاره ای کوچک به شعاع ۳۰ کیلومتر کشف کرده اند که تمام سطح آن را آب فرا گرفته است. شهابی کروی شکل به این سیاره برخورد می کند و کاملاً در آب فرو می رود و ارتفاع آب روی سطح سیاره یک سانتی متر افزایش پیدا می کند. شعاع شهاب چند متر بوده است؟