



# مشاوره تحصیلی هیوا

تخصصی ترین سایت مشاوره کشور

مشاوره تخصصی ثبت نام مدارس ، برنامه ریزی درسی و آمادگی  
برای امتحانات مدارس

برای ورود به صفحه مشاوره مدارس کلیک کنید

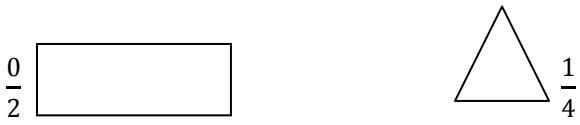
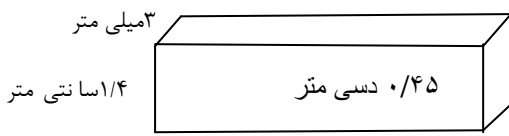
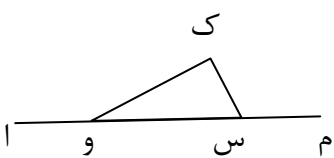
برای ورود به صفحه نمونه سوالات امتحانی کلیک کنید

تماس با مشاور تحصیلی مدارس

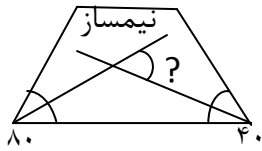
۹۰۹۹۰۷۱۷۸۹



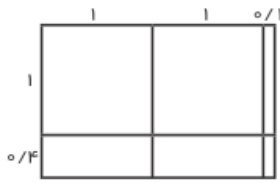
تماس از تلفن ثابت

نام خانوادگی: نام پدر: شماره: دبستان:		به نام خدا مدیریت آموزش و پرورش آزمون پیش نوبت دوم درس ریاضی پایه ششم سال تحصیلی		تاریخ امتحان: / / مدت امتحان: ۷۵ دقیقه نمره ی امتحان به عدد: نمره ی امتحان به حروف:	
ردیف	سؤالات	بارم			
۱	کسرهای داده شده را روی شکل نشان دهید. 	۱			
۲	پاسخ صحیح را با علامت (x) مشخص کنید. الف- حاصل ضرب $(\frac{1}{11} \times \frac{1}{11})$ کدام است؟ <input type="radio"/> $\frac{1}{21}$ <input type="radio"/> $\frac{1}{234321}$ <input type="radio"/> $\frac{1}{2321}$ ب- حاصل عبارت $2\frac{1}{2} - 1\frac{1}{6}$ کدام است؟ <input type="radio"/> $1\frac{3}{6}$ <input type="radio"/> $2\frac{1}{6}$ <input type="radio"/> $1\frac{2}{6}$	۱			
۳	جاهای خالی را کامل کنید. الف- تمامی عددهای صحیح منفی از صفر..... هستند. ب- قرینه ی مرکزی رامی توان با دوران دادن شکل حول مرکز..... پیدا کرد.	۱			
۴	حجم شکل روبه روبراه دست آورید. 	۱/۵			
۵	باتوجه به کسر $\frac{23}{8}$ به سؤال های زیر پاسخ دهید. الف- حاصل کسر را تا سه رقم اعشار به دست آورید. ب- حاصل کسر را با تقریب کمتر از ۰/۱ گرد کنید. ج- کسر را روی محور اعداد نشان دهید.	۱/۵			
۶	در شکل مقابل: چند پاره خط، نیم خط و خط وجود دارد. پاره خط:      نیم خط:      خط:	۱/۵			
۷	بارعایت انجام عملیات یعنی (۱) درون پرانتز (۲) ضرب و تقسیم (۳) جمع و تفریق، حاصل عبارت زیر را به دست آورید. $7/2 - 0/3 \times (0/85 + 6) =$	۱			

۸ اندازه ی زاویه های موردنظر را پیدا کنید.



۹ حاصل ضرب  $(\frac{2}{1} \times \frac{1}{4})$  را با استفاده از شکل زیر و به روش مساحتی محاسبه کنید .



$$\frac{2}{1} \times \frac{1}{4} =$$

۱۰ با استفاده از محور عددها، حاصل تفریق زیر را به دست آورید .

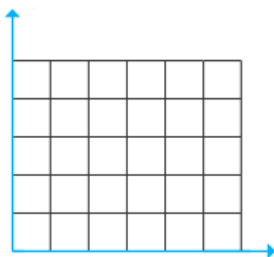
$$3\frac{1}{3} - 2\frac{1}{6} =$$



۱۱ نمره های ریاضی یک دانش آموز کلاس ششم در نوبت اول به صورت زیر است . معدل (میانگین) نمره های وی را تا دو رقم اعشار حساب کنید .

دی	آذر	آبان	مهر
۱۶/۷۵	۱۹	۱۷	۱۸/۵

۱۲ مثلثی با مختصات زیر را رسم کرده و مساحت آن را به دست آورید .



$$A = \begin{bmatrix} 1 \\ 3 \end{bmatrix} \quad M = \begin{bmatrix} 5 \\ 3 \end{bmatrix} \quad J = \begin{bmatrix} 1 \\ 1 \end{bmatrix}$$

۱۳ دمای شهر دزفول در ماه های روبه رو بدین ترتیب است :

شهریور	مرداد	تیر	خرداد
۲۲	۳۵	۲۷	۲۰

نمودار خط شکسته ی آن را رسم کنید .

۱	مجموع دو عدد ۴۶ می باشد. اگر یکی از عددها ۱۰ تا بیشتر از دیگری باشد، هریک از عددها را پیدا کنید .	۱۴
۱	<p>حاصل کسر روبه روبراه دست آورید.</p> $\frac{3 - \frac{2}{5}}{\frac{1}{5} \times 1\frac{1}{11}} =$	۱۵
۱/۵	<p>نسبت عرض به طول مستطیلی ۲ به ۴ می باشد. اگر محیط ۱۲۰ سانتی متر باشد :</p> <p>الف- عرض مستطیل چقدر است؟</p> <p>ب- مساحت مستطیل را حساب کنید .</p>	۱۶
۱	<p>کشاورزی ۳ هکتار از زمین خود را گندم و یک هکتار از آن را برنج کاشته است . اگر کل زمین او ۵۰۰۰۰ متر مربع باشد، چند متر مربع از زمین زیر کشت نرفته است؟ (بارسم شکل)</p>	۱۷
	موفقیت ثمار آرزوی ماست.	