



مشاوره تحصیلی هیوا

تخصصی ترین سایت مشاوره کشور

مشاوره تخصصی ثبت نام مدارس ، برنامه ریزی درسی و آمادگی
برای امتحانات مدارس

برای ورود به صفحه مشاوره مدارس کلیک کنید

برای ورود به صفحه نمونه سوالات امتحانی کلیک کنید

تماس با مشاور تحصیلی مدارس

۹۰۹۹۰۷۱۷۸۹

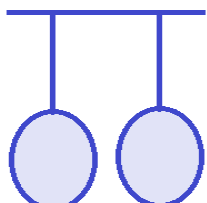




تماس از تلفن ثابت

نمره مستمر	نمره برگه	نمره نهایی	نام خانوادگی معلم :
			امضا :

نمره	ن	ق	خ	خ خ	سوالات
۲					<p>(الف) درست یا نادرست بودن هر عبارت را مشخص کنید :</p> <p>۱- ضربه ی یک فوتبالیست به توپ ، کشیدن جسم محسوب می شود . <input type="checkbox"/> درست <input type="checkbox"/> نادرست</p> <p>۲- هر نوع کاغذ قابل دریافت است . <input type="checkbox"/> درست <input type="checkbox"/> نادرست</p> <p>۳- با اضافه کردن پلاستیک به خمیر کاغذ می توان کاغذ ضد آب تهیه کرد . <input type="checkbox"/> درست <input type="checkbox"/> نادرست</p> <p>۴- در پایین و بالا رفتن از کوه نیروی اصطکاک مضر است . <input type="checkbox"/> درست <input type="checkbox"/> نادرست</p>
۲					<p>(ب) پاسخ صحیح را با علامت (×) مشخص کنید :</p> <p>۱- کدام ماده طبیعی است ؟ الف) کاغذ ب) مداد ج) پلاستیک د) نی حصیر <input type="checkbox"/></p> <p>۲- کدام یک از بیماری های غیر واگیر است ؟ الف) طاعون ب) پوکی استخوان ج) وبا د) آنفولانزا <input type="checkbox"/></p> <p>۳- در باتری ها چه نوع انرژی ذخیره می شود ؟ الف) الکتریکی ب) مغناطیسی ج) شیمیایی د) نورانی <input type="checkbox"/></p> <p>۴- خاک های پر ارزش و حاصل خیز ، محصول کدام پدیده است ؟ الف) زمین لرزه ب) سیل ج) طوفان د) آتش فشان <input type="checkbox"/></p>
۲					<p>(ج) در جاهای خالی کلمات مناسب بنویسید :</p> <p>۱- قطع بی رویه درختان باعث آسیب رسانی به چرخه و کربن دی اکسید می شود .</p> <p>۲- گوشته زیرین از زیر خمیر کره تا ابتدای ادامه دارد .</p> <p>۳- آب اکسیژنه در مجاورت و نور تجزیه می شود .</p> <p>۴- سلول های خون جزو سلول های هستند .</p>
۲					<p>(د) هر جمله را به پاسخ مناسب وصل کنید . (یک گزینه اضافی است .)</p> <p>۱- نیرویی که یک آهنربا به آهنربای دیگر وارد می کند . الکتریکی</p> <p>۲- نیرویی که زمین به همه ی اجسام وارد می کند . مقاومت هوا</p> <p>۳- نیرویی که سبب کند شدن حرکت جسم می شود . مغناطیسی</p> <p>۴- نیرویی که باعث جذب خرده های کاغذ به وسیله ی شانه می شود . گرانشی</p> <p>اصطکاک</p>

(ه) به سوالات زیر با دقت پاسخ دهید. (بارم هر سوال ۱ نمره است)

نمره	ن	ق	خ	خ خ										
					۱- جدول زیر را کامل کنید :									
۱					<table border="1"> <thead> <tr> <th>وسيله</th> <th>نام فلز</th> <th>علت استفاده</th> </tr> </thead> <tbody> <tr> <td>رشته های سیم برق</td> <td></td> <td></td> </tr> <tr> <td>روکش نازک دارو</td> <td></td> <td></td> </tr> </tbody> </table>	وسيله	نام فلز	علت استفاده	رشته های سیم برق			روکش نازک دارو		
وسيله	نام فلز	علت استفاده												
رشته های سیم برق														
روکش نازک دارو														
۱					۲- در هر مورد تبدیل انرژی را بنویسید : رها کردن تیر از کمان : به رادیو : به									
۱					۳- اگر در شکل هر دو بادکنک با موی سر مالش داده شوند، چه اتفاقی خواهد افتاد؟ چرا؟ 									
۱					۴- کامل کنید : <div style="display: flex; justify-content: space-around; align-items: center;"> <div style="text-align: center;"> <p>میوه روغن دار</p>  </div> <div style="text-align: center;"> <p>دانه نشاسته دار</p>  </div> </div>									
۱					۵- چه زمانی یک جسم سنگین را می توان جابه جا کرد؟									
۱					۶- فواید و مضرات آتش فشان را نام ببرید : (از هر کدام دو مورد) فواید : مضرات :									
۱					۷- مراحل بازیافت را به ترتیب نام ببرید :									
۱					۸- نقش قارچ ها را در زنجیره غذایی بنویسید :									
۱					۹- راه های پیشگیری از بیماری را نام ببرید : ۱- ۲-									
۱					۱۰- علت جامد بودن هسته درونی زمین چیست ؟									
۱					۱۱- گلبول های سفید چگونه با میکروب هایی که به بدن وارد شده اند ، مبارزه می کنند ؟									
۱					۱۲- گیاهان چگونه به کم کردن آلودگی هوا کمک می کنند ؟									