

* داوطلب گرامی، عدم درج مشخصات و امضاء در مندرجات جدول ذیل، به منزله عدم حضور شما در جلسه آزمون است.

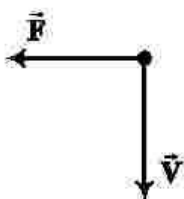
اینجانب..... با شماره داوطلبی..... با آگاهی کامل، یکسان بودن شماره صندلی خود را با شماره داوطلبی مندرج در بالای کارت ورود به جلسه، بالای پاسخنامه و دفترچه سوالات، نوع و کد کنترل درج شده بر روی دفترچه سوالات و پائین پاسخنامه ام را تأیید می نمایم.

امضاء:

۱۸۱- کدام موج‌ها، برای انتشار نیاز به محیط مادی دارند؟

- الف - امواج صوتی ب - پرتوهای X پ - امواج رادیویی ت - پرتوهای فرسرخ
 (۱) «الف» (۲) «ب» (۳) «الف» و «ب» (۴) «ب» و «پ»

۱۸۲- الکترونی عمود بر میدان مغناطیسی یکنواختی مطابق شکل زیر، در حرکت است و نیروی مغناطیسی \vec{F} به آن وارد می‌شود. جهت میدان \vec{B} کدام است؟



- (۱) بالا (۲) راست
 (۳) درون سو (۴) برون سو

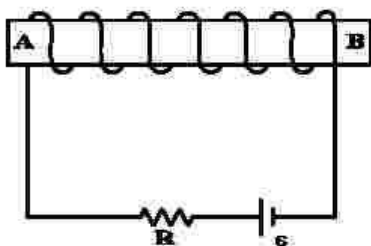
۱۸۳- یکای فرعی کدام کمیت، $\frac{kg}{A \cdot s^2}$ است؟

- (۱) میدان مغناطیسی (۲) شار مغناطیسی (۳) میدان الکتریکی (۴) نیروی محرکه القایی

۱۸۴- در اتم هیدروژن، انرژی الکترون در دومین حالت برانگیخته، چند برابر انرژی الکترون در حالت پایه است؟

- (۱) $\frac{1}{2}$ (۲) $\frac{1}{3}$ (۳) $\frac{1}{4}$ (۴) $\frac{1}{9}$

۱۸۵- در آهنربای الکتریکی شکل زیر، قطب N و جهت میدان مغناطیسی درون سیم‌پوله، کدام است؟



- (۱) A و →
 (۲) B و →
 (۳) A و ←
 (۴) B و ←

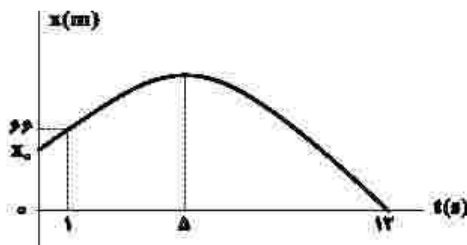
۱۸۶- معادله سرعت - زمان متحرکی در SI به صورت $v = -9t + 18$ است. تندی متوسط متحرک در بازه زمانی $t_1 = 0$ s تا $t_2 = 4$ s چند متر بر ثانیه است؟

- (۱) ۶ (۲) $7/5$ (۳) ۸ (۴) $11/5$

۱۸۷- متحرکی با شتاب ثابت روی محور X حرکت می‌کند. جابه‌جایی متحرک در بازه زمانی t_1 تا $t_2 = t_1 + 16(s)$ برابر ۲۰۰ متر است. اگر نیمی از این جابه‌جایی در ۲ ثانیه اول و نیم دیگر آن در ۱۲ ثانیه بعد از آن انجام شود، بزرگی شتاب حرکت در SI کدام است؟

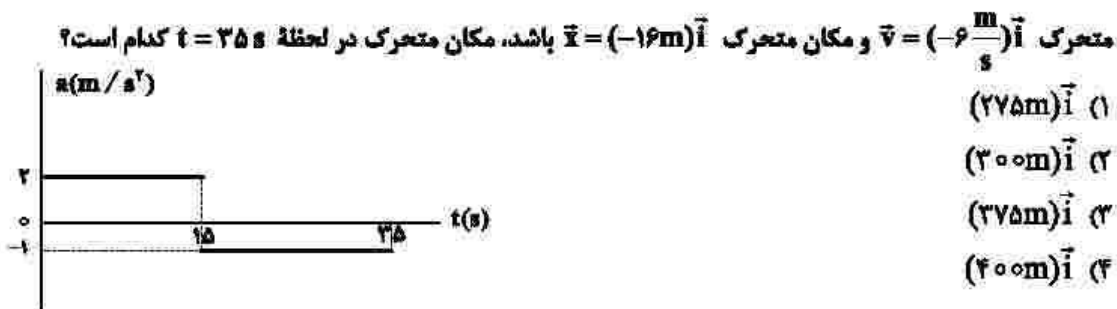
(۱) $\frac{5}{3}$ (۲) $\frac{5}{6}$ (۳) $\frac{25}{3}$ (۴) $\frac{25}{6}$

۱۸۸- نمودار مکان - زمان متحرکی که با شتاب ثابت روی محور X حرکت می‌کند، مطابق شکل زیر است. مکان اولیه متحرک (x_0) چند متر است؟



- (۱) ۵۸
(۲) ۵۲
(۳) ۴۸
(۴) ۴۲

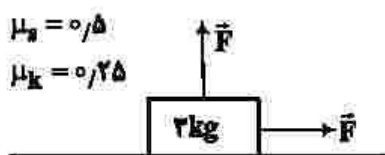
۱۸۹- نمودار شتاب - زمان متحرکی که روی محور X حرکت می‌کند، مطابق شکل زیر است. اگر در لحظه $t = 2s$ سرعت



۱۹۰- در کدام فاصله از سطح زمین، شتاب گرانش در مقایسه با سطح زمین، ۹۹ درصد کاهش می‌یابد؟ (R_e شعاع زمین است.)

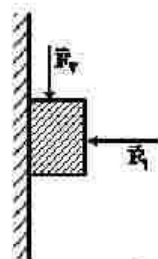
- (۱) $100R_e$ (۲) $99R_e$ (۳) $10R_e$ (۴) $9R_e$

۱۹۱- در شکل زیر، جسمی روی سطح افقی در آستانه حرکت قرار دارد و دو نیروی افقی و عمودی هم‌اندازه \vec{F} به آن وارد می‌شود. اگر اندازه نیروهای \vec{F} هر کدام ۲ نیوتون کاهش یابند، نیروی اصطکاک چند نیوتون می‌شود؟ ($g = 10 \frac{m}{s^2}$)



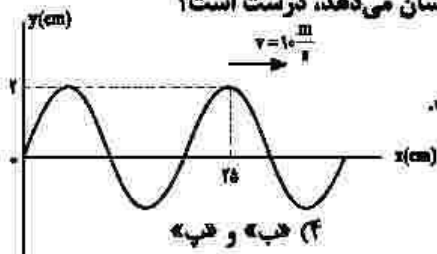
- (۱) ۴
(۲) ۶
(۳) ۶/۵
(۴) ۱۳

۱۹۲- قطعه چوبی به جرم ۲۵۰ گرم، با نیروی افقی F_1 مطابق شکل زیر، به دیوار قائم فشرده شده است. اگر با وارد کردن نیروی $F_2 = ۲/۵ N$ ، چوب در آستانه لغزش قرار گیرد و در این حالت نیرویی که دیوار به چوب وارد می‌کند، $۱۰ N$ باشد، ضریب اصطکاک ایستایی بین دیوار و چوب، چقدر است؟ ($g = ۱۰ \frac{m}{s^2}$)



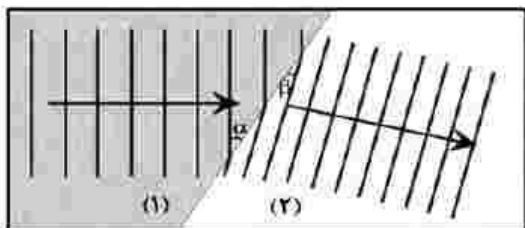
- (۱) ۰/۷۵
- (۲) ۰/۶
- (۳) ۰/۵
- (۴) ۰/۲۵

۱۹۳- کدام موارد با توجه به شکل زیر که تصویر لحظه‌ای از یک موج عرضی را نشان می‌دهد، درست است؟



- الف- مسافتی که موج در هر ثانیه طی می‌کند، برابر ۲۰ cm است.
 - ب- مسافتی که هر ذره از محیط در مدت ۰/۰۱ s طی می‌کند، ۴ cm است.
 - پ- جابه‌جایی هر یک از ذرات محیط در مدت ۰/۰۱ s برابر ۴ cm است.
 - ت- جابه‌جایی هر یک از ذرات محیط در مدت ۰/۰۲ s برابر صفر است.
- (۱) «الف» و «ت» (۲) «الف» و «ب» (۳) «ب» و «ت» (۴) «ب» و «ب»

۱۹۴- شکل زیر، ورود موج از محیط (۱) به (۲) را نشان می‌دهد. اگر $\alpha = ۳۷^\circ$ و $\beta = ۳۰^\circ$ باشد، نسبت سرعت انتشار موج در محیط (۱) به سرعت انتشار موج در محیط (۲) چقدر است؟ ($\cos ۳۷^\circ = ۰/۸$)



- (۱) $\frac{16\sqrt{2}}{3}$
- (۲) $\frac{5}{6}$
- (۳) $\frac{5\sqrt{2}}{8}$
- (۴) $\frac{6}{5}$

۱۹۵- معادله حرکت هماهنگ ساده یک نوسانگر در SI به صورت $x = ۰/۰۲ \cos ۴\pi t$ است. در بازه زمانی $t_1 = \frac{1}{12} s$ تا $t_2 = \frac{1}{9} s$ ، حرکت نوسانگر، چند ثانیه تندشونده است؟

- (۱) $\frac{5}{6}$
- (۲) $\frac{7}{6}$
- (۳) $\frac{7}{12}$
- (۴) $\frac{13}{24}$

۱۹۶- در اتم هیدروژن، کدام گذار منجر به گسیل فوتونی با بسامد $۲/۲۵ \times 10^{15} Hz$ می‌شود؟

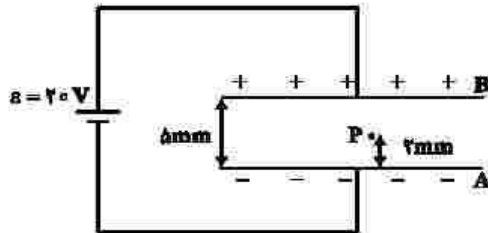
($c = ۳ \times 10^8 \frac{m}{s}$ و $R = \frac{1}{100} (nm)^{-1}$)

- (۱) $n = 2$ به $n' = 1$
- (۲) $n = 3$ به $n' = 1$
- (۳) $n = 4$ به $n' = 2$
- (۴) $n = 5$ به $n' = 2$

۱۹۷- طول موج دومین خط طیف رشته برآکت ($n' = 2$) چند برابر طول موج چهارمین خط طیف رشته بالمر ($n' = 2$) است؟

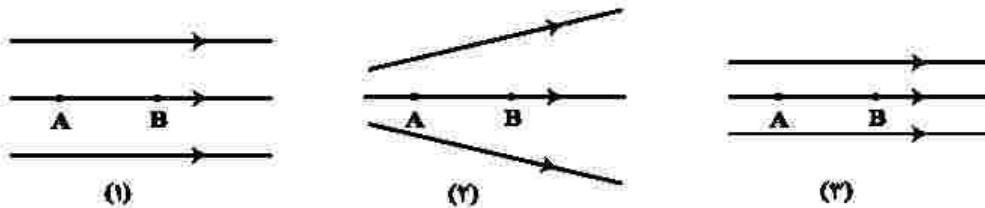
- (۱) $\frac{72}{5}$ (۲) ۸ (۳) $\frac{22}{5}$ (۴) ۴

۱۹۸- در شکل زیر، بین دو صفحه موازی هوا است و نقطه P در ۲ میلی‌متری صفحه A قرار دارد. اگر با ثابت ماندن صفحه A، صفحه B را دور کنیم تا فاصله بین دو صفحه ۱۰ mm شود، پتانسیل الکتریکی نقطه P، چگونه تغییر می‌کند؟



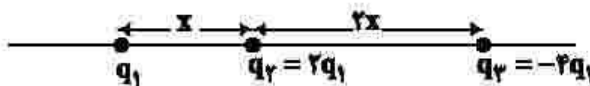
- (۱) ۲ ولت افزایش می‌یابد.
 (۲) ۴ ولت کاهش می‌یابد.
 (۳) ۲ ولت کاهش می‌یابد.
 (۴) ۴ ولت افزایش می‌یابد.

۱۹۹- شکل زیر، سه آرایش خطوط میدان الکتریکی را نشان می‌دهد. یک الکترون از حالت سکون از نقطه B رها می‌شود و سپس توسط میدان الکتریکی تا نقطه A شتاب می‌گیرد. نقطه‌های A و B در هر سه آرایش در فاصله یکسان قرار دارند. اگر اختلاف پتانسیل بین دو نقطه $(V_A - V_B)$ را ΔV بنامیم، کدام رابطه درست است؟



- (۱) $\Delta V_{(2)} > \Delta V_{(1)} > \Delta V_{(3)}$
 (۲) $\Delta V_{(1)} = \Delta V_{(2)} = \Delta V_{(3)}$
 (۳) $\Delta V_{(1)} > \Delta V_{(2)} > \Delta V_{(3)}$

۲۰۰- سه ذره باردار مطابق شکل زیر، روی محوری قرار دارند. بزرگی نیروی الکتریکی خالص وارد بر بار q_3 چند برابر بزرگی نیروی الکتریکی خالص وارد بر بار q_1 است؟



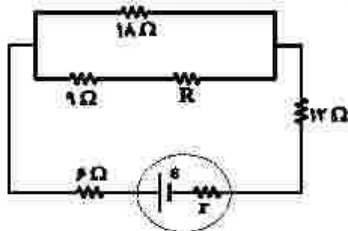
- (۱) ۴ (۲) ۱
 (۳) $\frac{7}{11}$ (۴) $\frac{5}{8}$

۲۰۱- مطابق شکل زیر، دو ذره باردار روی محوری در فاصله x از هم قرار دارند. بار q_3 چه اندازه باشد و در کدام نقطه روی این محور قرار گیرد تا نیروی الکتریکی خالص وارد بر هر سه ذره صفر باشد؟



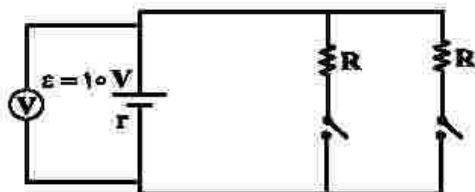
- (۱) $\frac{9}{4}q_1$ و در فاصله $2x$ سمت چپ بار q_1
 (۲) $\frac{9}{4}q_1$ و در فاصله $\frac{x}{2}$ سمت چپ بار q_1
 (۳) $-\frac{9}{4}q_1$ و در فاصله $2x$ سمت چپ بار q_1
 (۴) $-\frac{9}{4}q_1$ و در فاصله $\frac{x}{2}$ سمت چپ بار q_1

۲۰۲- در شکل زیر، اختلاف پتانسیل الکتریکی مقاومت‌های 18Ω و 12Ω با هم برابر است. R چند اهم است؟



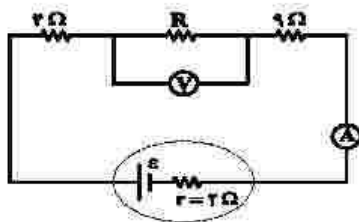
- (۱) ۳۶
- (۲) ۲۷
- (۳) ۱۸
- (۴) ۱۲

۲۰۳- در مدار زیر، هنگامی که فقط یکی از کلیدها بسته باشد، ولت‌سنج آرمانی عدد ۶ ولت را نشان می‌دهد. اگر هر دو کلید بسته باشند، ولت‌سنج چند ولت را نشان می‌دهد؟



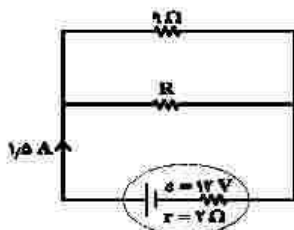
- (۱) $\frac{15}{7}$
- (۲) ۳
- (۳) $\frac{25}{7}$
- (۴) ۸

۲۰۴- در شکل زیر، ولت‌سنج و آمپرسنج آرمانی به ترتیب ۱۲ ولت و 0.8 آمپر را نشان می‌دهند. نیروی محرکه موله، چند ولت است؟



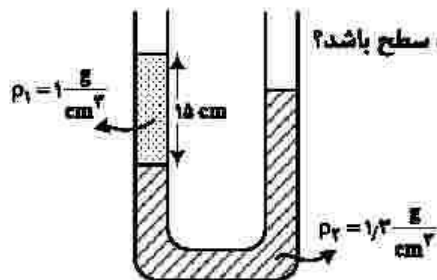
- (۱) ۳۶
- (۲) ۲۴
- (۳) ۱۸
- (۴) ۱۶

۲۰۵- در شکل زیر، توان مصرفی مقاومت R چند وات است؟



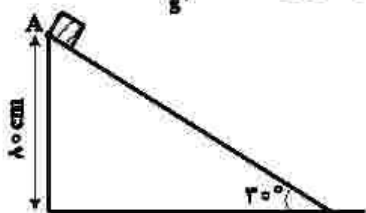
- (۱) $4/5$
- (۲) ۹
- (۳) $12/5$
- (۴) ۱۸

۲۰۶- در شکل زیر، سطح مقطع لوله 1cm^2 است. در سمت راست لوله، چند سانتی‌متر مکعب مایع مخلوط‌شده به چگالی $\rho_2 = 0.8 \frac{\text{g}}{\text{cm}^3}$ بریزیم تا سطح آزاد مایع‌ها در دو طرف لوله در یک سطح باشد؟



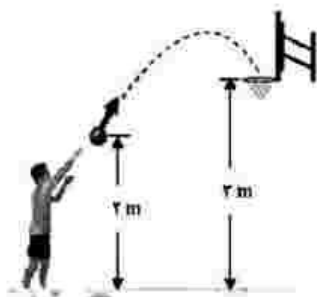
- (۱) $2/5$
- (۲) $7/2$
- (۳) ۹
- (۴) ۱۲

۲۰۷- در شکل زیر، جسمی به جرم ۵۰۰ گرم را از نقطه A رها می‌کنیم. جسم می‌لغزد و با تندی $3 \frac{m}{s}$ به سطح افقی می‌رسد. کار نیروی وزن و کار نیروی اصطکاک، در این جابه‌جایی، به ترتیب چند ژول است؟ ($g = 10 \frac{m}{s^2}$)



- (۱) ۴ و -۱٫۷۵
- (۲) ۴ و -۲٫۲۵
- (۳) ۸ و -۵٫۷۵
- (۴) ۸ و -۶٫۲۵

۲۰۸- در شکل زیر، توپ با تندی اولیه $8 \frac{m}{s}$ پرتاب می‌شود. اگر کار نیروی مقاومت هوا تا رسیدن توپ به سبد، $\frac{1}{8} K_0$ باشد، تندی توپ در لحظه ورود به سبد، چند متر بر ثانیه است؟



(K_0 انرژی جنبشی اولیه و $g = 10 \frac{m}{s^2}$ است.)

- (۱) $2\sqrt{2}$
- (۲) $4\sqrt{2}$
- (۳) ۵
- (۴) ۶

۲۰۹- طول دو میله مسی و آهنی در دمای صفر درجه سلسیوس، هر یک برابر ۰٫۵ متر است. دمای میله‌ها را تا چند درجه سلسیوس افزایش دهیم تا اختلاف طول آنها به ۰٫۳ میلی‌متر برسد؟ (ضریب انبساط طولی مس و آهن در SI به ترتیب $1/2 \times 10^{-5}$ و $1/8 \times 10^{-5}$ است.)

- (۱) ۵۰
- (۲) ۱۰۰
- (۳) ۱۵۰
- (۴) ۲۰۰

۲۱۰- یک کیلوگرم یخ $-10^\circ C$ را در فشار یک اتمسفر درون مقداری آب $20^\circ C$ می‌اندازیم. اگر پس از برقراری تعادل گرمایی، دمای آب به $5^\circ C$ برسد، جرم آب چند کیلوگرم است؟

$$\left(L_f = 336000 \frac{J}{kg} \text{ و } c_{\text{آب}} = 2c_{\text{یخ}} = 4200 \frac{J}{kg \cdot ^\circ C} \right)$$

- (۱) ۲
- (۲) ۳
- (۳) ۴
- (۴) ۶