

به نام خدای یکتا

آزمون علوم اول دبستان تا پایان فصل ۶

نام : تاریخ :


کدام یک از این خوراکی ها یا غذاها برای ما مفید نیستند؟




کدام یک موجود زنده نیستند؟




حرکت کردن کدام حیوان با بقیه فرق می کند؟



کدام جانوران برای ما مشکلاتی به وجود می آورند؟



قسمت خوراکی کدام یک از گیاهان زیر ریشه نیست؟



کدام جاندار نمی تواند در آب زندگی کند؟



انتظارات	خیلی خوب	خوب	قابل قبول
خوراکی های مفید و نامفید را می شناسد.			
موجود زنده را از غیرزنده تشخیص می دهد.			
با انواع حرکات جانوران آشناست.			
جانوران مفید و غیرمفید را می شناسد.			
با گیاهان دارای ریشه خوراکی آشناست.			
جانداران آبی را می شناسد.			