



مشاوره تحصیلی هیوا

تخصصی ترین سایت مشاوره کشور

مشاوره تخصصی ثبت نام مدارس ، برنامه ریزی درسی و آمادگی
برای امتحانات مدارس

برای ورود به صفحه مشاوره مدارس کلیک کنید

برای ورود به صفحه نمونه سوالات امتحانی کلیک کنید


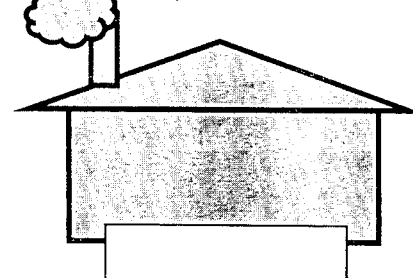
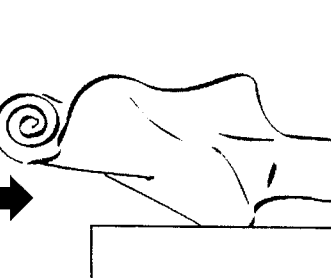
تماس با مشاور تحصیلی مدارس

۹۰۹۹۰۷۱۷۸۹



تماس از تلفن ثابت


نام و نام خانوادگی: آزمون مطالعات اجتماعی پنجم

۱	<p>اولین کسانی که با کندن قنات از آب های زیر زمینی استفاده کردند چه کسانی بودند؟ الف) ایرانیان <input type="checkbox"/> ب) مصریان <input type="checkbox"/> ج) عرب های صحرا نشین <input type="checkbox"/> د) چینی ها <input type="checkbox"/></p>
۲	<p>کوچک ترین کشور همسایه ی ایران کدام است؟ الف) افغانستان <input type="checkbox"/> ب) ارمنستان <input type="checkbox"/> ج) عراق <input type="checkbox"/> د) پاکستان <input type="checkbox"/></p>
۳	<p>نمایندگان مجلس شورای اسلامی هر چند سال یک بار انتخاب می شوند؟ الف) هر چهار سال یک بار <input type="checkbox"/> ب) هر پنج سال یک بار <input type="checkbox"/> ج) دائمی هستند <input type="checkbox"/> د) هر دو سال یک بار <input type="checkbox"/></p>
۴	<p>کدام مورد از وظایف دولت نیست؟ الف) اجرای قوانین <input type="checkbox"/> ب) تأمین وسایل رفاه و آسایش مردم <input type="checkbox"/> ج) دفاع از کشور در برابر حمله ی دشمن <input type="checkbox"/> د) رسیدگی به شکایت ها و اختلافات مردم <input type="checkbox"/></p>
۵	<p>عبارت های زیر را کامل کنید. مهم ترین راه ارتباط انسان ها با یکدیگر است . محدوده ای که هیچ کس نباید بدون اجازه و رضایت شما وارد آن شود..... نام دارد. یکی از دلایل افزایش جمعیت در یک ناحیه ، مردم از نواحی دیگر به آن جاست. به وسایلی که مردم و کالا ها را جابه جا می کنند می گویند.</p>
۶	<p>هر پاسخ را به عبارت مربوط به آن وصل کن . خرید و فروش در داخل کشور یا با کشورهای دیگر را می گویند. راه هایی که مسیر رفت و برگشت با مانع هایی از هم جدا شده اند. تغییراتی که کارگران در کارخانه ها روی مواد اولیه می دهند. مواد و کالاهایی که ما به کشور های دیگر می فروشیم .</p>
۷	<p>کلمه های مقابل را در محل مناسب بنویس . (کارخانه - کالا - ماده ی اولیه)</p> <div style="display: flex; align-items: center; justify-content: center;"> <div style="text-align: center; margin-right: 20px;">  </div> <div style="font-size: 2em; margin-right: 20px;">→</div> <div style="text-align: center; margin-right: 20px;">  </div> <div style="font-size: 2em; margin-right: 20px;">→</div> <div style="text-align: center;">  </div> </div>

- آزاد راه
- صنعت
- واردات
- صادرات
- بازرگانی


جاهای خالی را پر کن .

۸





انواع ترس

ترس از آمپول و دکتر



نام سازمان های زیر و وظیفه ی آن را بنویس .

۹





نام سازمان :

نام سازمان :

وظیفه:

دو وسیله ی نقلیه ی زیر را باهم مقایسه کن و در باره ی خوبی ها و عیب های هر یک بنویس .

۱۰



تفاوت صنایع مادر و صنایع مصرفی را بنویس با ذکر مثال .

۱۱

موفق باشید .