



مشاوره تحصیلی هیوا

تخصصی ترین سایت مشاوره کشور

مشاوره تخصصی ثبت نام مدارس ، برنامه ریزی درسی و آمادگی
برای امتحانات مدارس

برای ورود به صفحه مشاوره مدارس کلیک کنید

برای ورود به صفحه نمونه سوالات امتحانی کلیک کنید

تماس با مشاور تحصیلی مدارس

۹۰۹۹۰۷۱۷۸۹



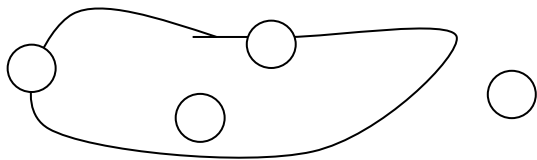
تماس از تلفن ثابت

نام و نام خانوادگی :

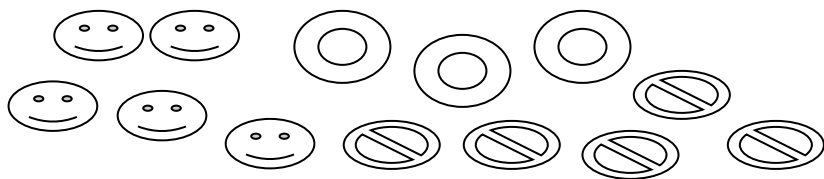
۱- خرگوش سمت راست را رنگ بزن .



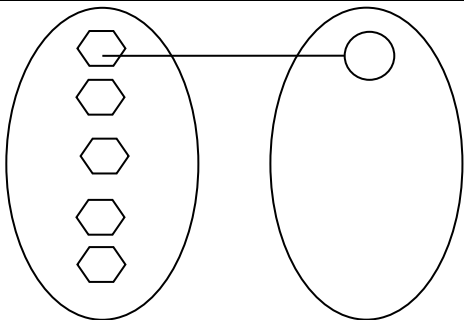
۲- گردی های روی خط بسته را رنگ بزن



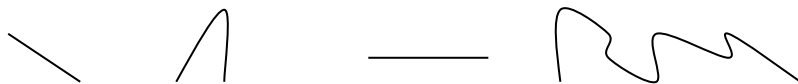
۳- شکل های مثل هم را داخل خط بسته بگذار




۴- شکل زیر را کامل کن



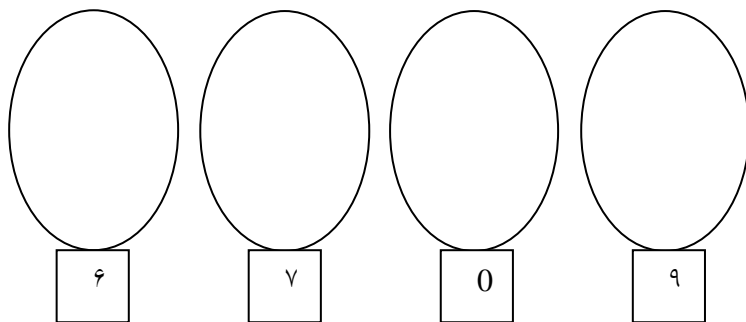
۵- خط های راست را رنگ بزن.



۶- روی شکلی که مثل بقیه نیست خط بزن



۷- به اندازه عدد داده شده شکل بکش



۸- در جای خالی علامت < = > بگذار.

۴ □ ۶

۹ □ ۸

۸ □ ۷

۷ □ ۷

۹- عدد های قبل و بعد عدد نوشته شده را بنویس.

		۷		
--	--	---	--	--

$۳ + ۴ = \dots\dots$

$۲ + ۶ = \dots\dots$

۷

$$\underline{+ ۲}$$

۵

$$\underline{+ ۴}$$

۱۰- جمع کنید.

۱۱- جاهای خالی را با حروف یا رقم بنویس.

	چهارده		سیزده
۱۹		۱۷	

$۸ - ۵ = \dots\dots$

$۸ - ۷ = \dots\dots$

۹


$$\underline{- ۶}$$

۷

$$\underline{- ۴}$$

۱۲- تفریق کنید.

۱۳- با توجه به شکل جدول را کامل کن و در جای خالی عدد مناسب بنویس.



ده تایی	یکی
---------	-----

..... ده تایی و تا یکی

۱۴- کامل کن.

۱۸ می شود ده تایی و یکی

۱۲ می شود ده تایی و یکی

۱ ده تایی و ۴ یکی می شود

۱ ده تایی و ۳ یکی می شود

ارزیابی معلم: