



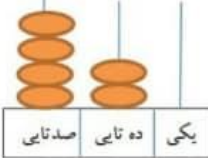



۶	حاصل جمع و تفریق ها را با نوشتن راه حل به دست آورید. $\begin{array}{r} 78 \\ - 45 \\ \hline \end{array}$ $\begin{array}{r} 53 \\ + 36 \\ \hline \end{array}$ $\begin{array}{r} 94 \\ - 71 \\ \hline \end{array}$ $\begin{array}{r} 67 \\ + 22 \\ \hline \end{array}$
۷	عقربه های ساعت ها را بکشید و ساعت های خواسته شده را بنویسید.  <p>ساعت ..... و ..... دقیقه      ساعت ..... و ..... دقیقه      ساعت ..... و ..... دقیقه</p>
۸	مریم ۴ سکه ی ۱۰۰ ریالی و ۳ سکه ی ۱۰ ریالی و ۵ سکه ی ۱ ریالی دارد. اگر پدرش به او دو سکه ی ۵۰ ریالی و یک سکه ی ۵ ریالی بدهد، مریم چند ریال خواهد داشت؟ (شکل بکشید)
۹	عدد ۶۲ به ۶۰ نزدیک تر است یا به ۷۰؟ ۵ دسته ی صدتایی و ۲ دسته ی ده تایی و ۷ یکی می شود ..... ۸ دسته ی صدتایی می شود ..... تا.
۱۰	برای هر کدام از این شکل ها که می شود دو خط تقارن رسم کنید. (بقیه شکل ها یک خط تقارن) 

به نام خدا		نام:
ریاضی دوم دبستان		نام خانوادگی:
نویس: اول		مدرسه:
۱	من عددی هتم که : یکانم از یکان عدد ۴۲، سه تا بیش تر است و دهگانم ۴ تا بیش تر از یکانم است. من چه عددی هستم؟	
۲	الگوهای زیر را ادامه دهید. ..... و ..... و ..... و ..... و ..... و ..... و ..... ۲۵ و ۳۰ و ..... و ..... و ..... و ..... و ..... و ..... ۳۴۸ و ۳۴۹ و ..... و ..... و ..... و ..... و ..... و ..... ۲۵۰ و ۲۶۰ و ..... و ..... و ..... و ..... و ..... و ..... ۱۰:۵ و ۵:۲۰ و ..... و ..... و ..... و ..... و ..... و .....	
۳	علامت $<=>$ بگذار. $۸۰۵ \square ۸۱۵$ $۵۹۵ \square ۵۹۰+۵$ $۶۶۳ \square ۶۳۶$ $۲۰۰ \square ۲۰۱$ $۲۰۰+۴۰+۲ \square ۱۰۰+۱۰+۹$	
۴	حاصل جمع و تفریق را با حذف یکان و دهگان به صورت تقریبی بنویس. $۳۵۲ \rightarrow \text{-----}$ $۵۶۲ \rightarrow \text{-----}$ $+ ۴۶۸ \rightarrow + \text{-----}$ $- ۱۴۸ \rightarrow - \text{-----}$ ----- -----	
۵	عدد هر شکل را در جدول بگذار و به عدد و حروف بنویس.  صدتایی   ده تایی   یکی   الف) عدد: .....  .....   .....   .....   حروف: .....  صدتایی   ده تایی   یکی   ب) عدد: ..... حروف: .....	

	<p>۱۱ پاسخ سوالات زیر را بنویس.</p> <p>الف) عدد ۳۲۵ به ۳۲۰ نزدیک تر است یا به ۳۳۰؟</p> <p>ب) عدد ۴۷۲ به ۴۷۰ نزدیک تر است یا به ۴۸۰؟</p>	
	<p>۱۲ تمامی عددهای سه رقمی را که می توان با کارت های ۲ و ۵ و ۴ نوشت، بنویس.</p> <p>الف) از بین عددهایی که نوشته ای، بزرگ ترین عدد کدام است؟</p> <p>ب) عددهایی که یکان و صدگان آن زوج باشند، کدام است؟</p>	
	<p>۱۳ تفاوت و شباهت دو شکل روبرو را بنویسید.</p> <p>شباهت:</p> <p>تفاوت:</p>	
	<p>۱۴ سینا از یک کتاب ۲۰ صفحه ای ۱۴ صفحه را خواند او چند صفحه از کتاب را نخوانده؟ با رسم محور</p>	
	<p>۱۵ امید تکالیف خود را ساعت ۴ و ۱۰ دقیقه شروع کرد، تکالیفش بعد از یک ساعت و ۵ دقیقه تمام شد، چه ساعتی تکالیفش به پایان رسید؟</p>	