



مشاوره تحصیلی هیوا

تخصصی ترین سایت مشاوره کشور

مشاوره تخصصی ثبت نام مدارس ، برنامه ریزی درسی و آمادگی
برای امتحانات مدارس

برای ورود به صفحه مشاوره مدارس کلیک کنید

برای ورود به صفحه نمونه سوالات امتحانی کلیک کنید

تماس با مشاور تحصیلی مدارس


۹۰۹۹۰۷۱۷۸۹



تماس از تلفن ثابت

۵- با کمک محور مساله را حل کن .

ثریا ۳ حلزون داشت . صبح زود ۴ حلزون دیگر گرفت .
علی هم ۲ حلزون به او داد حالا ثریا حلزون
دارد.

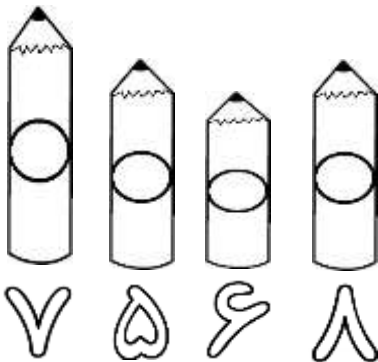


۶- پاسخ جمع و منهای زیر را به شکل ذهنی بنویس.




$$۳۵ - ۵ = \dots\dots\dots \quad ۱۰ + ۲۰ + ۵ + ۴ = \dots\dots\dots$$


۷- در جای خالی عدد مناسب بنویس .



مداد شماره با مداد شماره هم اندازه است .
مداد شماره بلندترین مداد است .
مداد شماره کوتاه ترین مداد است .



۸- ساعت بین و است .
کمی از ساعت گذشته .
به ساعت مانده .



باز خورد آموزگار: