



مشاوره تحصیلی هیوا

تخصصی ترین سایت مشاوره کشور

مشاوره تخصصی ثبت نام مدارس ، برنامه ریزی درسی و آمادگی
برای امتحانات مدارس

برای ورود به صفحه مشاوره مدارس کلیک کنید

برای ورود به صفحه نمونه سوالات امتحانی کلیک کنید

تماس با مشاور تحصیلی مدارس


۹۰۹۹۰۷۱۷۸۹



تماس از تلفن ثابت



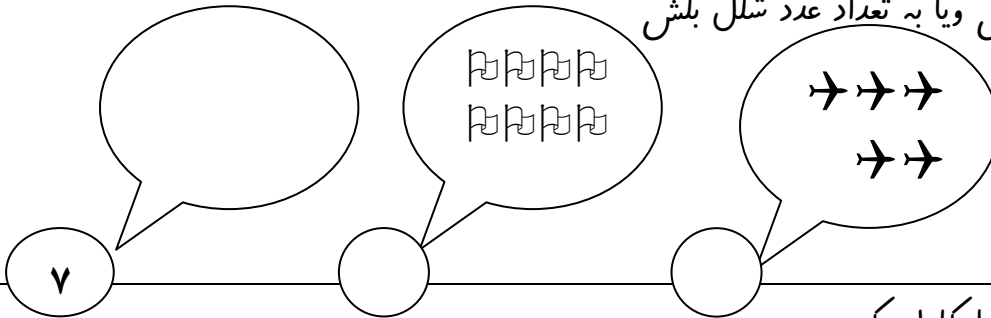
الف - دومین شکل از سمت راست را رنگ بزن



ب- در دست چپ پسر یک بادکنک بکش

۱

۲ عدد هر دسته را بنویس و یا به تعداد عدد شکل بکش



۲

۳ جدول شگفت انگیز را کامل کن

۳	۲			۴	۱
۵	۴			۶	۳
۴	۶	۲	۳	۱	۵
۱	۵	۳	۶	۲	
		۵	۴	۳	۲
۲	۳	۴	۱	۵	

۳

۴ برای شکل زیر یک تفریق بنویس و برای تفریق شکل بکش و حاصل را پیدا کن

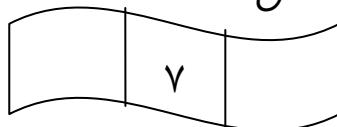
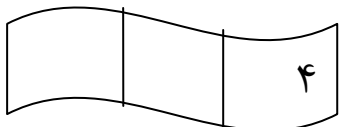


$$9 - 5 = \dots\dots\dots$$

$$\dots\dots\dots - \dots\dots\dots = \dots\dots\dots$$

۴

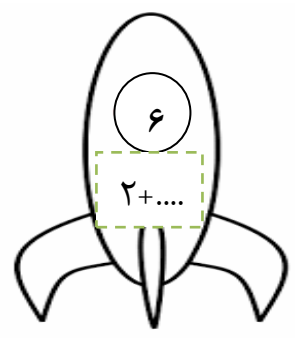
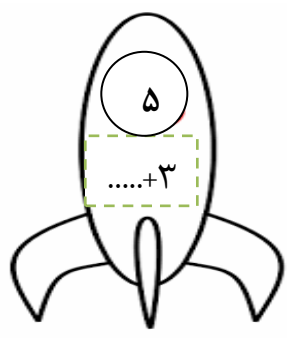
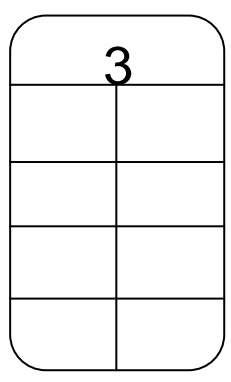
۵ اعداد قبل و بعد عدد نوشته شده را بنویس



۵

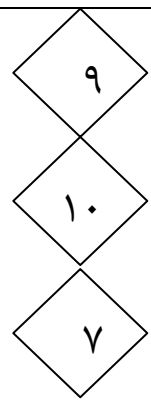
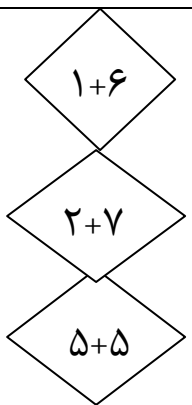
در جاهای خالی عدد مناسب بنویس

۶



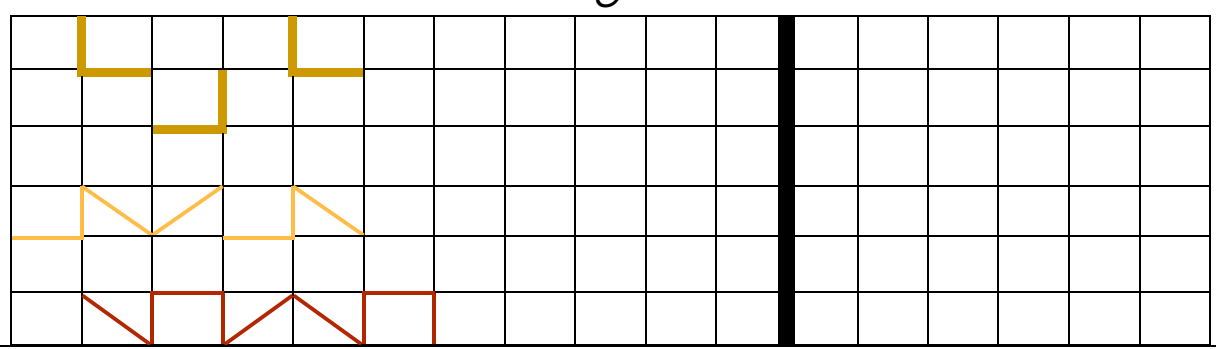
۷

هر جمع را با خط کش به حاصلش وصل کن



۸

الگوها را ادامه بده و شکل تکرار شده را سمت راست بکش



۹

بین دو عدد علامت < = > قرار بده یا در طرف دیگر علامت ، عدد قرار بده

۷ ۸ ۹ ۵ = ۳ ۶ >

۱۰

باتوجه به خط وسط نیمه ی دیگر شکل را کامل کن

