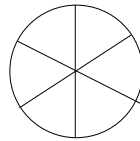


۱۰- برای شکل روبرو ۲ کسر مساوی بنویسید .



..... =

۱۴- در جاهای خالی عدد مناسب بنویسید .

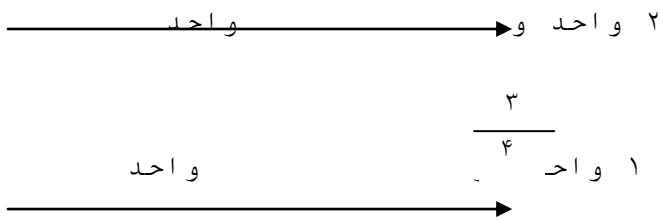
$$+ (\dots \times \dots)$$

$$5 \times (3 + 6) = (5 \times \dots)$$

$$\dots = 3 \times (\dots + 8)$$

$$(3 \times 9) + (3 \times \dots)$$

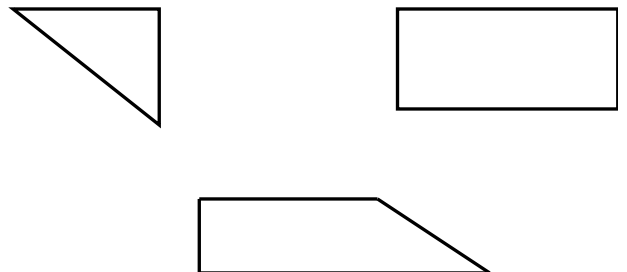
۱۵- د ۱ قسمت عدد خواسته شده را محور $\frac{\quad}{2}$ دهید .



۱۱- جاهای خالی را به طور مناسب پر کنید .

۶۰ تومان ول است .
 تومان ۷۰۰۰ ول است .
 ۷ کیلوگرم و ۵۵۰ گرم یعنی گرم
 ۳۸۲۰ گرم یعنی کیلوگرم و گرم
 ۱۴۳ سانتی متر یعنی متر و سانتی متر
 کیلومتر یعنی ۳۰۰۰ متر

۱۲- با استفاده از گونیا ، زاویه های راست را در شکل های زیر مشخص کنید .



ن	ق	خ	خ	انتظارات
				۱- مفهوم شمارش چندتاچندتا را درک کرده است .
				۲- مفهوم ساعت قبل از ظهر و بعدازظهر را درک کرده است .
				۳- مفهوم واحدهای اندازه گیری طول و جرم و تبدیل آنها به یکدیگر را درک کرده است .
				۴- مفهوم اعداد چهار رقمی را درک نموده است .
				۵- مفهوم کسر را به خوبی درک نموده است .
				۶- مفهوم توزیع پذیری ضرب را به خوبی درک نموده است .

۱۳- ۳ بنا ۳ بسته ۵ تایی و ۴ بسته ۵ تایی شکلات دارند . آنها روی هم رفته چند عدد شکلات دارند ؟