

۱۲۶- فرض کنید $a = \sqrt[4]{\sqrt{6}-2}$ و $b = \sqrt[4]{\sqrt{6}+2}$. مقدار $(a^2 + b^2 - 2ab)^2 (a^2 + b^2 + 2ab)^2$ کدام است؟

- (۱) $4(2 + \sqrt{3})$ (۲) $4(2 - \sqrt{3})$ (۳) $16(2 + \sqrt{3})$ (۴) $16(2 - \sqrt{3})$

۱۲۷- فرض کنید x_1 و x_2 جواب‌های معادله $(\sqrt[3]{x^2} + \frac{1}{\sqrt[3]{x^2}} + 1)(\sqrt[3]{x^2} - 1) = 2\sqrt[3]{x}$ باشند. مقدار $x_1 + x_2$ کدام است؟

- (۱) -1 (۲) صفر (۳) 1 (۴) 2

۱۲۸- فرض کنید x_1 و x_2 ریشه‌های معادله $x^2 - 5x = \Delta$ باشند. $\frac{1}{(x_1+1)^3}$ و $\frac{1}{(x_2+1)^3}$ ریشه‌های کدام معادله هستند؟

(۱) $125x^2 + 16x = 1$

(۲) $125x^2 = 16x + 1$

(۳) $125x^2 = 12x + 1$

(۴) $125x^2 + 12x = 1$

۱۲۹- اگر $f(x) = 16 \cos^2(3x) \cos^2(6x) \cos^2(12x) \cos^2(24x)$ باشد، مقدار $f(\frac{\pi}{36})$ کدام است؟

- (۱) $\frac{6 - 3\sqrt{3}}{16}$ (۲) $\frac{6 - \sqrt{3}}{16}$ (۳) $\frac{6 + \sqrt{3}}{16}$ (۴) $\frac{6 + 3\sqrt{3}}{16}$

۱۳۰- اگر زاویه α در ناحیه سوم مثلثاتی و $\tan(\alpha) = \frac{3}{4}$ باشد، مقدار $\frac{\cos(2\alpha - \frac{\pi}{2}) + \cos(\alpha + \pi)}{\cot(2\alpha)}$ کدام است؟

- (۱) $-\frac{96}{175}$ (۲) $\frac{1056}{175}$ (۳) $\frac{96}{175}$ (۴) $-\frac{1056}{175}$

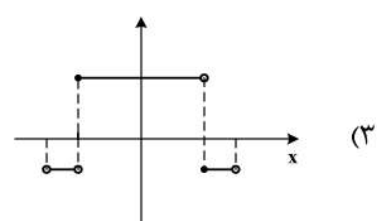
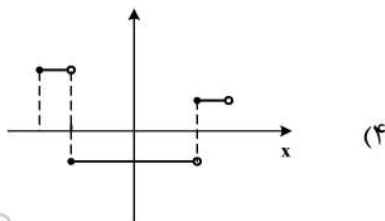
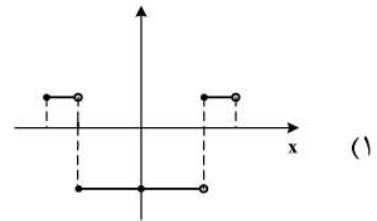
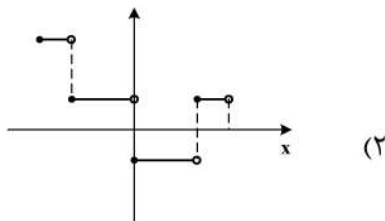
۱۳۱- تعداد جواب‌های معادله مثلثاتی $\cos^2(x) - \sin^2(x) \cos(3x) = 1$ در فاصله $[0, 2\pi]$ کدام است؟

- (۱) 1 (۲) 3 (۳) 5 (۴) 6

۱۳۲- دامنه تابع با ضابطه $f(x) = \frac{\log_2(x^2 - x - 2)}{\sqrt{x^2 - 1} + 1}$ کدام است؟

- (۱) $(-\infty, -1) \cup (2, +\infty)$ (۲) $(-1, 2)$ (۳) $(-\infty, -2) \cup (1, +\infty)$ (۴) $(-2, 1)$

۱۳۳- نمودار تابع $y = 2||3x|| - 1$ به ازای $-\frac{1}{2} \leq x < \frac{1}{2}$ کدام است؟



۱۳۴- فاصله نقطه تلاقی منحنی‌های $2y = x^2$ و $x = \sqrt{y+3} - \sqrt{y-3}$ با مبدأ مختصات، کدام است؟
 (۱) $\sqrt{3}$ (۲) $\sqrt{6}$ (۳) $2\sqrt{3}$ (۴) $\sqrt{15}$

۱۳۵- اگر $52 = \frac{3^x + 3^{x+1} + 3^{x+2} + 3^{x+3} + 3^{x+4} + 3^{x+5}}{2^{x-2} + 2^{x-1} + 2^x + 2^{x+1} + 2^{x+2} + 2^{x+3}}$ باشد، مقدار x کدام است؟
 (۱) ۱ (۲) ۲ (۳) ۳ (۴) ۴

۱۳۶- نمودار تابع $y = 2^{|\sin x|}$ را ابتدا به اندازه $\frac{\pi}{4}$ در امتداد محور x ها در جهت مثبت و سپس $\frac{\pi}{4}$ در امتداد محور y ها در جهت منفی انتقال می‌دهیم. تعداد محل تقاطع نمودار حاصل با محور x ها در فاصله $[0, \pi]$ ، کدام است؟
 (۱) صفر (۲) ۱ (۳) ۲ (۴) ۴

۱۳۷- اگر تساوی $\log_x y - 2 \log_y x = 1$ به ازای $x, y > 1$ برقرار باشد، کدام تساوی درست است؟
 (۱) $y = x^2$ (۲) $y = x^3$ (۳) $y = \sqrt{x}$ (۴) $xy = 2$

۱۳۸- مقدار $\lim_{x \rightarrow +\infty} \sqrt{x} \left(\sqrt{\frac{1}{x+1} + \frac{1}{x}} - \sqrt{\frac{1}{x^2} - \frac{1}{x^2+1}} \right)$ ، کدام است؟
 (۱) صفر (۲) ۱ (۳) $\frac{\sqrt{2}}{2}$ (۴) $\sqrt{2}$

۱۳۹- مقدار $\lim_{x \rightarrow \frac{\pi}{6}^-} [2 \sin x - 1]$ ، کدام است؟ ([] نماد جزء صحیح است.)
 (۱) -۱ (۲) صفر (۳) ۱ (۴) وجود ندارد.

۱۴۰- قرینه نمودار تابع $y = 2 + \sqrt{x-1}$ را نسبت به خط $y = x$ رسم کرده و سپس نمودار حاصل را ۲ واحد در جهت مثبت محور x ها و ۳ واحد در جهت منفی محور y ها انتقال می‌دهیم و آن را $y = g(x)$ می‌نامیم. مقدار $g(4)$ کدام است؟
 (۱) ۳ (۲) -۳ (۳) -۲ (۴) -۴

۱۴۱- فرض کنید $g(x) = \begin{cases} 1 & x > 0 \\ 0 & x = 0 \\ -1 & x < 0 \end{cases}$ و $f(x) = 1 - x^2$. تعداد نقاط ناپیوستگی تابع $g \circ f$ ، کدام است؟
 (۱) صفر (۲) ۱ (۳) ۲ (۴) ۳

۱۴۲- تعداد نقاط اکسترمم نسبی تابع $f(x) = \frac{x^2}{x^2-1} |x^2 - 4|$ ، کدام است؟
 (۱) ۲ (۲) ۳ (۳) ۴ (۴) ۵

۱۴۳- قرینه نقطه A واقع بر سهمی $f(x) = x^2$ را نسبت به نیمساز ناحیه اول و سوم صفحه مختصات تعیین کرده و آن را A' می‌نامیم. اگر طول نقطه A بین دو طول متوالی از محل بر تقاطع تابع f با خط نیمساز موردنظر باشد، ماکزیمم طول پاره خط AA' ، کدام است؟

(۱) $\sqrt{2}$ (۲) $\frac{\sqrt{2}}{2}$ (۳) $\frac{\sqrt{2}}{4}$ (۴) $\frac{\sqrt{2}}{8}$

۱۴۴- فرض کنید $f(x) = (x[x^2 + \frac{1}{2}])^2 + 1$ و $g(x) = \frac{1}{\sqrt[3]{x^2-1}}$. مقدار مشتق تابع $f \circ g$ در $x = \frac{3}{\sqrt{8}}$ ، چند برابر $(-128\sqrt{2})$ است؟
 (۱) -۴ (۲) ۱ (۳) ۲ (۴) ۴

۱۴۵- فرض کنید $g(x) = ax^2 + bx + c$ ، $a \neq 0$ و $f(x) = \begin{cases} g(x) & x \geq k \\ g'(x) & x < k \end{cases}$ باشد. اگر f یک تابع مشتق پذیر باشد، حداکثر مقدار k به شرط $b + c = a$ ، کدام است؟

- (۱) $\frac{3}{4}$ (۲) ۱ (۳) ۳ (۴) ۴

۱۴۶- حداکثر مساحت جانبی استوانه‌ای که درون یک کره به شعاع $4\sqrt{2}$ محاط می‌شود، کدام است؟

- (۱) 32π (۲) 64π (۳) $\frac{256\pi}{3}$ (۴) $\frac{512\pi}{3}$

۱۴۷- احتمال این که یک دانش آموز در یک امتحان نمره قبولی بگیرد $\frac{5}{9}$ و در دو امتحان متوالی نمره قبولی بگیرد $\frac{5}{8}$ است. اگر دانش آموز در امتحان دوم موفق باشد، احتمال این که امتحان قبلی نیز موفق شده باشد، کدام است؟

- (۱) $\frac{8}{9}$ (۲) $\frac{85}{94}$ (۳) $\frac{17}{18}$ (۴) $\frac{45}{47}$

۱۴۸- فرض کنید $a, b, c \in \{1, 2, \dots, 9\}$. چند معادله درجه دوم به صورت $ax^2 + bx - c = 0$ می‌توان تشکیل داد، به طوری که مجموع ریشه‌های هر معادله از حاصل ضرب ریشه‌های همان معادله، دو واحد بیشتر باشد؟

- (۱) ۱۴ (۲) ۱۵ (۳) ۱۶ (۴) ۱۸

۱۴۹- در یک جلسه آموزشی میزگردی شامل ۴ دانش آموز کلاس پایه یازدهم و ۴ دانش آموز کلاس پایه دوازدهم تشکیل شده است. به چند حالت دانش آموزان در صندلی‌ها بنشینند، به طوری که در کنار هر دانش آموزی دانش آموز هم‌پایه قرار نگیرد؟

- (۱) ۱۴۴ (۲) ۲۸۸ (۳) ۲۷۶ (۴) ۱۱۵۲

۱۵۰- با ارقام ۱، ۲، ۳، ۴ و ۵ زیرمجموعه‌ای از اعداد طبیعی می‌سازیم، که در آن رقم تکراری به کار نرفته باشد. یک عضو از مجموعه فوق انتخاب می‌کنیم. احتمال این که عضو انتخاب شده بر ۴ بخش پذیر باشد، کدام است؟

- (۱) $\frac{13}{21}$ (۲) $\frac{4}{7}$ (۳) $\frac{3}{7}$ (۴) $\frac{1}{4}$

۱۵۱- شیب نیم‌خطی با نقطه شروع $A(2, 4)$ برابر ۳ است. مستطیل $ABCD$ را چنان می‌سازیم، که نقطه B روی نیم‌خط فوق و رأس سوم آن $C(-3, -1)$ باشد. محیط مستطیل، کدام است؟

- (۱) ۲۴ (۲) ۱۸ (۳) $6\sqrt{10}$ (۴) $3\sqrt{10}$

۱۵۲- نقطه $H(2, 1)$ را روی خط $3x - y = 5$ در نظر بگیرید. مثلث متساوی‌الاضلاع ABC را با ارتفاع AH می‌سازیم، به طوری که محیط مثلث $\sqrt{270}$ واحد باشد. مختصات یک رأس A ، کدام است؟

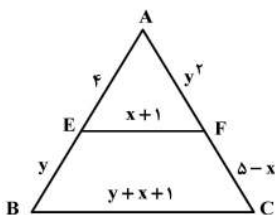
- (۱) $(\frac{7}{2}, \frac{1}{2})$ (۲) $(\frac{13}{2}, -\frac{1}{2})$ (۳) $(\frac{1}{2}, \frac{3}{2})$ (۴) $(-\frac{1}{2}, \frac{11}{6})$

۱۵۳- دایره‌های $x^2 + y^2 + 2y = 3$ و $x^2 + y^2 + 2x = 3$ متقاطع‌اند. معادله وتر مشترک این دو دایره، کدام است؟

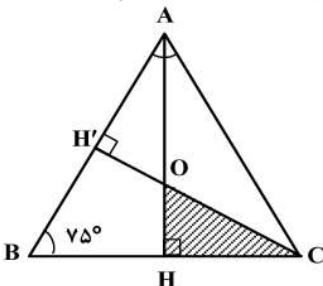
- (۱) $x = y$ (۲) $x = 1 + y$ (۳) $x = -y$ (۴) $x = 1 - y$

۱۵۴- در شکل زیر EF موازی BC است. مقدار $y - 2x$ ، کدام است؟

- (۱) $\frac{2}{3}$ (۲) -2 (۳) ۲ (۴) ۴



۱۵۵- در شکل زیر مثلث ABC متساوی‌الساقین و طول ساق AC برابر ۶ است. مساحت مثلث OHC ، کدام است؟



- (۱) $\frac{2}{3}$ (۲) $\frac{4}{3}$ (۳) $\frac{18}{7 + 4\sqrt{3}}$ (۴) $\frac{9}{7 + 4\sqrt{3}}$