



مشاوره تحصیلی هیوا

تخصصی ترین سایت مشاوره کشور

مشاوره تخصصی ثبت نام مدارس ، برنامه ریزی درسی و آمادگی
برای امتحانات مدارس

برای ورود به صفحه مشاوره مدارس کلیک کنید

برای ورود به صفحه نمونه سوالات امتحانی کلیک کنید

تماس با مشاور تحصیلی مدارس

۹۰۹۹۰۷۱۷۸۹



تماس از تلفن ثابت

هیوا تخصصی ترین سایت مشاوره کشور

نوبت امتحانی: اول

نام خانوادگی:

نام درس: ریاضی

پایه: دوم

۱- جاهای خالی را پر کنید.

۷ دسته ی ده تایی منهای ۴ دسته ی ده تایی می شود دسته ی ده تایی. $۷۰-۴۰=$

..... دسته ی ده تایی به اضافه دسته ی ده تایی می شود دسته ی ده تایی. $۵۰+۳۰=$

۲- حاصل جمع و تفریق هارا به دست آورید. (به سه روش)

$$\begin{array}{r} 49 \\ + 15 \\ \hline \end{array}$$

$$\begin{array}{r} 95 \\ + 84 \\ \hline \end{array}$$

۳- جواب جمع و تفریق هارا به صورت تقریبی به دست آورید.

$$\begin{array}{r} 53 \rightarrow \\ + 29 \rightarrow \\ \hline \end{array}$$

$$\begin{array}{r} 68 \rightarrow \\ 41 \rightarrow \\ \hline \end{array}$$

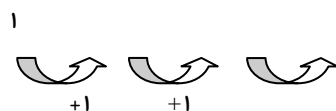
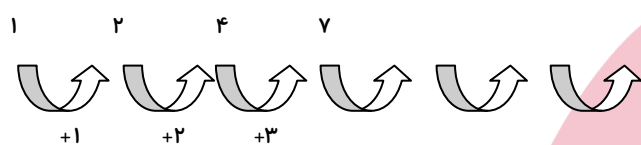
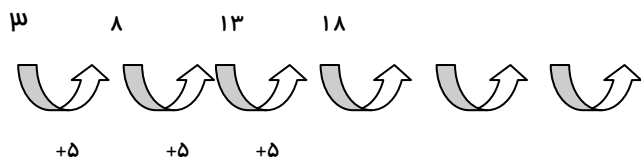
۴- جدول جمع و تفریق را کامل کن.

+	۵	۶	۷	۸	-	۶	۹
۵					۱۶		
۹					۱۹		

۵- مهدی ۲۶ دقیقه به نوار قرآن گوش داد و سپس ۱۲ دقیقه قرآن خواند. این کار را هر روز در یک ماه مهدی چند دقیقه برای

قرآن خواندن وقت گذاشته است؟

۶- سه عدد بعدی را بنویسید.

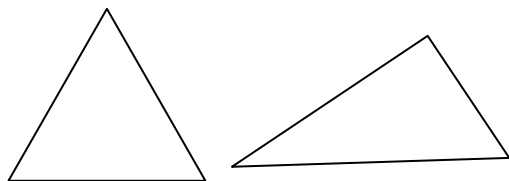


۷- بارقم های ۱۰۰۹۶ هر چند تا عدد دو رقمی می توانید بنویسید.

۹- تعداد ۹ دانش آموز در کلاس بودند ۷ دانش آموز دیگر به کلاس آمدند ولی ۵ نفر آنها از کلاس رفتند. حالا چند نفر در کلاس هستید؟

۹- ساعت ۲ است. ۲ ساعت و ربع دیگر چند است؟

۱۰- دو شکل زیر مثلث هستند چه تفاوت و شباهت هایی باهم دارند؟



تفاوت :

شباهت :

موفق باشید.