



مشاوره تحصیلی هیوا

تخصصی ترین سایت مشاوره کشور

مشاوره تخصصی ثبت نام مدارس ، برنامه ریزی درسی و آمادگی
برای امتحانات مدارس

برای ورود به صفحه مشاوره مدارس کلیک کنید

برای ورود به صفحه نمونه سوالات امتحانی کلیک کنید

تماس با مشاور تحصیلی مدارس

۹۰۹۹۰۷۱۷۸۹



تماس از تلفن ثابت

نام و نام خانوادگی:

هیوا تخصصی نهمین خدسایت مشاوره کشور

تاریخ:

شماره:

ارزشیابی پایانی فصل پنجم ریاضی ششم

مدت: ۴۵ دقیقه

نام معلم:

صفحه ی ۱

سطح آسان

۱- با توجه به اینکه هر ده سانتی متر یک دسی متر است، یک متر خیاطی چند دسی متر است؟

- الف (۱۰ دسی متر) ب (۲۰ دسی متر) ج (۳۰ دسی متر) د (۴۰ دسی متر)

۲- خطی است که از وسط یک پاره خط بگذرد و بر آن عمود باشد، چه نام دارد؟

- الف (پاره خط) ب (نیم ساز) ج (عمود منصف) د (خط راست)

۳- وقتی دو خط همدیگر را قطع می کنند چهار زاویه درست می شود که زاویه های رو به رو به دو، چه هستند.

- الف (متقابل به رأس) ب (هم جوار) ج (متقابل) د (متقابل به راس)

۴- معمولا مساحت زمین های کشاورزی را با چه واحدی بیان می کنند؟

- الف (متر) ب (هکتار) ج (کیلومتر) د (سانتی متر)

۵- هر سانتی متر مکعب یک است.

۶- یک متر مکعب معادل لیتر است.

۷- به هر دو زاویه که مجموع آنها ۹۰ درجه باشد دو زاویه ی گویند و به هر دو زاویه که مجموع آنها ۱۸۰ درجه باشد دو زاویه ی گویند.

۸- به کمک جدول تناسب، واحدها را به هم تبدیل کنید.

مترمربع	۱
سانتی مترمربع	۱۰۰۰۰	۶۰۰۰

شش هزار سانتی متر مربع ، برابر چند متر مربع است ؟ ←

۹- یک مترمربع صفحه ی خورشیدی با استفاده از تابش خورشید در هر ساعت حدود ۲۰۰ وات برق تولید می کند.

اگر روزانه ۹ ساعت آفتاب بتابد، هر متر مربع صفحه ی خورشیدی در یک ماه چند وات برق تولید می کند؟

۱۰- یک هرم و شکل زیر گسترده ی آن را رسم کنید .

نام و نام خانوادگی:

شماره:

نام معلم:

به نام خدا
هیوا تخصصی ترین سایت مشاوره کشور
ارزشیابی پایانی فصل پنجم ریاضی ششم

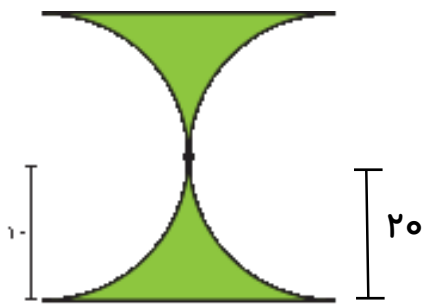
صفحه ی ۲

تاریخ:

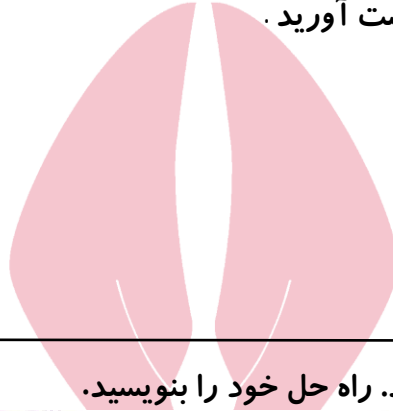
مدت: ۴۵ دقیقه



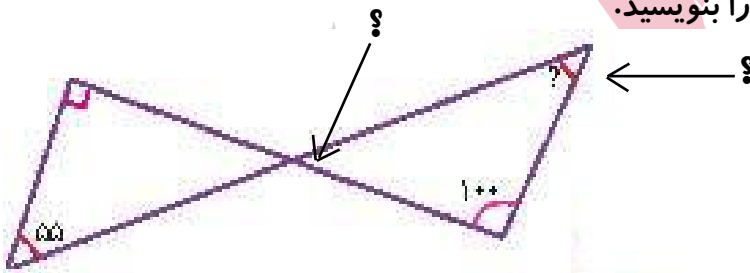
۱۱- می خواهیم داخل حوضچه ی روبه رو را رنگ کنیم. اگر برای رنگ آمیزی هر مترمربع $0/2$ کیلوگرم رنگ کافی باشد، برای کل حوضچه چند کیلوگرم رنگ باید تهیه شود؟
چند لیتر آب برای پر شدن حوضچه لازم است؟



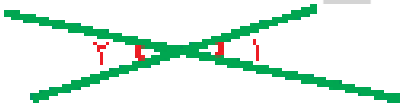
۱۲- مساحت قسمت رنگی را به دست آورید.



۱۳- زاویه های خواسته شده را بیابید. راه حل خود را بنویسید.



۱۴- مکمل زاویه ی ۱ (صد و بیست درجه است) زاویه ی ۲ چند درجه است؟



۱۵- نسبت دو زاویه ی متمم ۴ به ۵ است. هر کدام چند درجه است؟

۱۶- زاویه ی بین عقربه ی ساعت شمار و عقربه ی دقیقه شمار را در زمان های زیر پیدا کنید.

۶:۰۰

۳:۳۰

۳:۰۰

۱۷- ده درصد دایره ی روبه رو آبی است. زاویه ی خواسته شده چند درجه است؟



www.Heyvagroup.com