




آزمون علوم

زمین خانه ی سنگی ما




نام و نام خانوادگی :

۱- در کجا سنگ بیش تری دیده می شود؟



۲- سنگ های کنار رودخانه چه شکلی هستند؟



۳- کدام خانه مدت زمان بیش تری دوام دارد؟



۴- کدام از سنگ ها درست نشده است؟



۵- درست 😊 یا نادرست ☹️ علامت بزن

الف - سنگ ها در همه جا دیده می شوند 😊 ☹️

ب- سنگ های کوه صاف هستند 😊 ☹️

ج - آب باران ، سرماوگرما سنگ ها را تغییر شکل می دهند 😊 ☹️

۶- فیروزه یک است و رنگ آن است .

الف - خاک - آبی

ب - سنگ - سبز آبی

۷- چه سنگی در نمای ساختمان استفاده می شود ؟

سنگ جواهر

مرمر

ماسه

۸- یک استفاده ی سنگ را نقاشی کن

