



مشاوره تحصیلی هیوا

تخصصی ترین سایت مشاوره کشور

مشاوره تخصصی ثبت نام مدارس ، برنامه ریزی درسی و آمادگی
برای امتحانات مدارس

برای ورود به صفحه مشاوره مدارس کلیک کنید

برای ورود به صفحه نمونه سوالات امتحانی کلیک کنید

تماس با مشاور تحصیلی مدارس

۹۰۹۹۰۷۱۷۸۹



تماس از تلفن ثابت

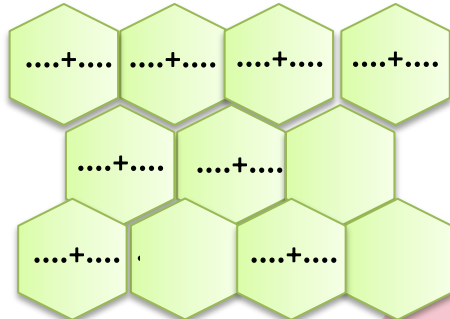
به نام خدا

آزمون مداد کاغذی ریاضی

سال تحصیلی ۹۳-۹۲

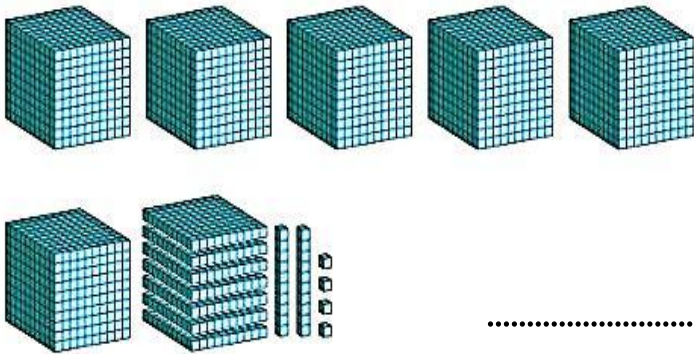
کلاس سوم ابتدایی

نام و نام خانوادگی:



۱. جمع های عدد ۱۰ را بنویسید.

۲. با توجه به شکل در جای خالی عدد و کلمه مناسب بنویس.



| هزارگان | صدگان | دهگان | یکان |
|---------|-------|-------|-------|
| | | | |

به عدد

..... به حروف

۳. الگوهای زیر را ادامه دهید.

۲۶۰۰-۲۸۰۰-۳۰۰۰-.....-.....-.....-.....

.....-.....-.....-.....-۶۰۰۰-۶۵۰۰-۷۰۰۰

۲۵۰۰-۳۵۰۰-۴۵۰۰-.....-.....-.....-.....

۴. اعداد داخل جدول را به عدد و حروف بنویس.

| | | |
|------|---------------------|------|
| ۵۰۰۱ | | ۹۵۰۰ |
| | دو هزار و سی و چهار | |

۵. عدد های زیر را به صورت گسترده (باز شده) بنویس. $۴۵۰۷ = \dots\dots\dots$

$۹۶۸۳ = \dots\dots\dots$

۶. زهرا یک خط کش به قیمت ۲۲۰ تومان و یک پاکن به قیمت ۴۲۵ تومان خرید. او یک اسکناس ۱۰۰۰ تومانی به فروشنده داد. فروشنده چند ریال به زهرا پس داد؟
www.Heyvagroup.com

۷. حاصل جمع و تفریق های زیر را بدست آورید.

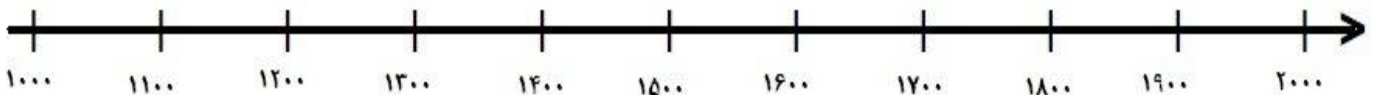
هوا تخصصی ترین سایت مشاوره کشور
 $1 \dots + 1 \dots + 1 \dots + 1 \dots + 1 \dots + 1 \dots + 1 \dots + 1 = \dots$

$$3 \dots + 2 \dots + 1 \dots + 3 \dots + 5 \dots = \dots$$

$$9 \dots - 2 \dots = \dots$$



۸. عدد های ۱۰۷۰، ۱۷۵۰، ۱۴۳۰، ۱۲۹۰ را به طور تقریبی بر روی محور نشان بده.



۹. در جای خالی علامت $<=>$ بگذار.

$$6 \dots - 3 \dots \bigcirc 2 \dots + 1 \dots + 8 \dots + 7 \dots$$

$$5 \dots + 2 \dots + 4 \dots + 9 \dots \bigcirc 54 \dots$$

۱۰. امید ورزشکار است. او هر روز فاصله ی خانه تا محل کار خور را پیاده می رود. فاصله خانه تا محل کارش ۲ کیلو متر است.

او در یک رفت و برگشت چند متر راه می رود؟

۱۱. در جای خالی عدد مناسب بنویسید.

۳۴۰۰ سانتی متر برابر است با متر و سانتی متر.

۴۰۰۰ متر یعنی کیلو متر.

۳ کیلو گرم و ۷۰۰ گرم برابر است با گرم.



ارزیابی معلم: