



# مشاوره تحصیلی هیوا

تخصصی ترین سایت مشاوره کشور

مشاوره تخصصی ثبت نام مدارس ، برنامه ریزی درسی و آمادگی  
برای امتحانات مدارس

برای ورود به صفحه مشاوره مدارس کلیک کنید

برای ورود به صفحه نمونه سوالات امتحانی کلیک کنید

تماس با مشاور تحصیلی مدارس

۹۰۹۹۰۷۱۷۸۹



تماس از تلفن ثابت


۷- جاهای خالی را با کلمات مناسب کامل کنید.

الف - هر مثلث که سه ضلع هم اندازه داشته باشد مثلث مساوی الساقین نام دارد.

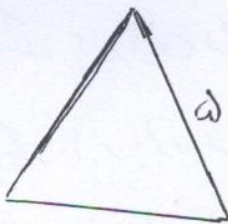

ب - هر مثلث که دو ضلع هم اندازه داشته باشد مثلث مساوی الساقین نام دارد.

۸- مساحت مربعی را که طول یک ضلع آن ۳ سانتی متر است را حساب کنید.

۹- مساحت مستطیلی را که طول آن ۳ و عرض آن ۲ سانتی متر است را حساب کنید.



۱۰- محیط شکل های زیر را بدست آورید.



۱۱- قطر شکل ها را رسم کنید.

