



مشاوره تحصیلی هیوا

تخصصی ترین سایت مشاوره کشور

مشاوره تخصصی ثبت نام مدارس ، برنامه ریزی درسی و آمادگی
برای امتحانات مدارس

برای ورود به صفحه مشاوره مدارس کلیک کنید

برای ورود به صفحه نمونه سوالات امتحانی کلیک کنید

تماس با مشاور تحصیلی مدارس

۹۰۹۹۰۷۱۷۸۹



تماس از تلفن ثابت

نام و نام خانوادگی :

به نام خدا

آزمون مداد کاغذی ریاضی (فصل دوم)

پایه دوم

تاریخ :

آموزگار مربوطه :

۱- نازنینم جاهای خالی را کامل کن و سپس برای آن یک تساوی بنویس.

.....+.....=.....

۸ دسته ی ده تایی منهای ۴ دسته ی ده تایی می شود.....

.....+.....=.....

۳ دسته ی ده تایی به اضافه ۵ دسته ده تایی می شود.....

۲- حاصل جمع و تفریق های زیر را به دست آورید.

۱۲	۱۵	۹	۱۱
-۹	-۷	+۸	+۵
_____	_____	_____	_____

۱- بزرگ ترین عدد یک رقمی و کوچک ترین عدد دو رقمی یک بار جمع و یک بار تفریق بنویس.

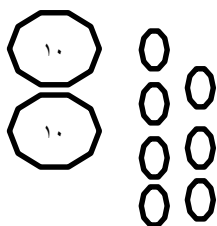
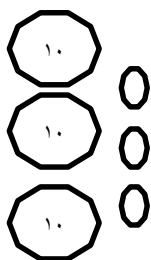
.....+.....=.....

.....-.....=.....

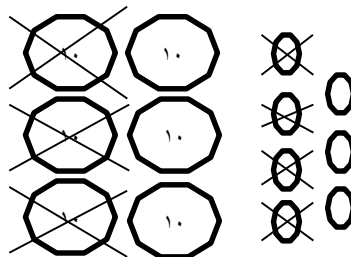
۴- با رقم های ۳ و ۰ و ۹ هر چه می توانی عدد دو رقمی بساز. (برای این کار می توانی از جدول استفاده کنی.)

	ده تایی	یکی

۵- با توجه به شکل ها عددها را در جدول ارزش مکانی قرار داده و حاصل جمع یا تفریق را به دست آورید.



	ده تایی	یکی



	ده تایی	یکی

.....+.....=.....

.....-.....=.....

۶- حاصل جمع و تفریق زیر را با روش فرایندی به تفصیل تخطیبی ترین سایت مشاوره کشور

۸۵

۲۵

۴۶

-۳۷

+۱۹

-۲۸



۷- ابتدا به سوالات زیر پاسخ دهید و سپس جواب جمع و تفریق ها را به صورت تقریبی به دست آورید.

عدد ۳۲ به ۳۰ نزدیک تر است یا به ۴۰ ؟

عدد ۵۷ به ۴۰ نزدیک تر است یا به؟

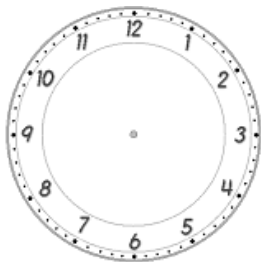
۴۸ →

۸۹ →

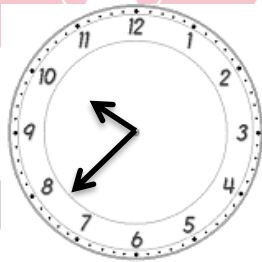
+۲۱ → +.....

-۲۸ → +.....

۸- ساعت های زیر را کامل کن.



دو ساعت و نیم بعد از ساعت ۳:۱۰




۴:۱۸

۹- فاطمه ۲۵ ساله است . او از خواهرش ۷ سال بزرگ تر است . خواهر فاطمه چند ساله است ؟

۱۰- در اتوبوسی ۱۲ نفر نشسته بودند. در ایستگاه اول ۴ نفر سوار شدند و در ایستگاه دوم ۶ نفر پیاده شدند. چند نفر در اتوبوس باقی ماندند؟

باز خورد :



www.Heyvagroup.com

«عزیزم برایت آرزوی موفقیت می کنم»