



# مشاوره تحصیلی هیوا

تخصصی ترین سایت مشاوره کشور

مشاوره تخصصی ثبت نام مدارس ، برنامه ریزی درسی و آمادگی  
برای امتحانات مدارس

برای ورود به صفحه مشاوره مدارس کلیک کنید

برای ورود به صفحه نمونه سوالات امتحانی کلیک کنید

تماس با مشاور تحصیلی مدارس





۹۰۹۹۰۷۱۷۸۹



تماس از تلفن ثابت



نهم خانوادگی:		پایه چهارم:		ارزشیاب ریاضی:	
الف ( پسران گلم : جواب صحیح را علامت بزیند					
ارزش بزرگترین رقم در عدد $586024$ کدام است ؟					
الف ( یکان هزار ) <input type="radio"/> (ب صدگان ) <input type="radio"/> (ج دهگان هزار ) <input type="radio"/> (د صدگان هزار ) <input type="radio"/>					
کسر مساوی $\frac{36}{72}$ کدام است؟					
الف ( $\frac{1}{2}$ ) <input type="radio"/> (ب $\frac{4}{8}$ ) <input type="radio"/> (ج $\frac{6}{9}$ ) <input type="radio"/> (د گزینه های الف و ب ) <input type="radio"/>					
مقسوم علیه تقسیمی عدد ۸ می باشد. باقی مانده کدام عدد نمی تواند باشد ؟					
الف ( ۳ ) <input type="radio"/> (ب ۶ ) <input type="radio"/> (ج ۸ ) <input type="radio"/> (د ۰ ) <input type="radio"/>					
ب) جاهای خالی را با کلمات و اعداد مناسب کامل کنید.					
یک تُن برابر ..... کیلوگرم است.					
به جواب تقسیم ..... گفته می شود .					
$\frac{1}{3}$ یعنی همان ..... .					
سی هزار ..... تا هزار تا است.					
ج) درستی یا نادرستی عبارات زیر را مشخص کنید.					
$\frac{4}{7}$ یعنی ۲ تا $\frac{2}{7}$ <input type="radio"/>					
عدد ۴۹ بر ۳ بخش پذیر است <input type="radio"/>					
د) با دقت به سوالات زیر پاسخ دهید.					
الگوی عددی زیر را ادامه دهید و رابطه بین اعداد را توضیح دهید.					
رابطه : .....					
3 → 6 → 18 → ---- → ----					
با توجه به عدد $16085493$ به سوالات زیر پاسخ دهید.					
الف) عدد را به حروف بنویسید.					
ب) ارزش مکانی کوچک ترین رقم را بنویسید.					
ج) رقم ۶ در چه مرتبه ای قرار دارد؟					

	<p>حاصل عبارتهای زیر را بدست آورید.</p> $\frac{4}{5} - \frac{2}{5} =$ $\frac{3}{6} + \frac{2}{12} =$ $6 \times \frac{7}{100} =$ $2 \times \frac{1}{5} + 3 \times \frac{1}{15} =$	-۶
	<p>برای کسر و عدد مخلوط داده شده شکل بکشید.</p> $\frac{3}{5}$ $3\frac{2}{4}$	-۷
	<p>حاصل جمع و تفریق زیر را با کمک محور بدست آورید.</p> $\frac{3}{9} + \frac{5}{9} =$  $\frac{5}{7} - \frac{2}{7} =$ 	-۸
	<p>با توجه به کاری که هر ماشین انجام می دهد. عدد های خروجی را پیدا کنید و بنویسید.</p> $5 \xrightarrow{\times 7} \boxed{\phantom{00}}$ $9 \xrightarrow{-3} \boxed{\phantom{00}}$	-۹
	<p>اعداد زیر را با هم مقایسه کنید.</p> $38560 \bigcirc 38650$ $520053 \bigcirc 53802$ $\frac{2}{5} \bigcirc \frac{3}{15}$ $\frac{2}{4} \bigcirc \frac{2}{3}$	-۱۰
	<p>الف) ساعت یک و <math>\frac{1}{5}</math> ساعت یعنی چند دقیقه ؟  ب) دو کسر مساوی با <math>\frac{9}{12}</math> بنویسید؟</p>	-۱۱
	<p>در یک مزرعه کاهو ، ۴۶ ردیف کاهو کاشته شده است و در هر ردیف ۶۳ کاهو قرار گرفته است.  این مزرعه به طور تقریبی چند کاهو دارد؟</p> 	-۱۲
	<p>نقاشی <math>\frac{9}{12}</math> اتاقی را رنگ کرده است . او <math>\frac{3}{12}</math> از این اتاق آبی ، <math>\frac{2}{12}</math> آنرا قرمز و بقیه را زرد رنگ کرده است. چه کسری از اتاق قرمز و آبی رنگ شده است ؟ چه کسری به رنگ زرد در آمده است؟</p>	-۱۳
	<p>یک کشاورز ۹۵۰ کیلوگرم محصول را بطور مساوی در ۱۹ کیسه ریخته است . در هر کیسه چند کیلوگرم برنج ریخته است؟</p> 	۱۳

	<p>زهرا ۱۱ سال دارد سن مادر زهرا از ۳ برابر سن او ۶ سال بیش تر است . مادر زهرا چند سال دارد؟</p>	۱۴
$\begin{array}{r} ۳۰۴ \\ \times ۴۳ \\ \hline \end{array}$	<p>حاصل ضرب های زیر را به روش های خواسته شده حساب کنید. ( مساحتی )</p> $\begin{array}{r l} ۱۸ & \\ \times ۱۳ & \\ \hline \end{array}$ <p>تکنیکی</p>	۱۵
$\begin{array}{r l} & ۹ \\ ۴۶۳ & \\ \hline \end{array}$	<p>تقسیم های زیر را انجام دهید و سپس رابطه درستی آن ها را بنویسید.</p> $\begin{array}{r l} & ۷۸ \\ ۳۴۵۶ & \\ \hline \end{array}$	۱۶

باز خورد معلم : .....

نظر والدین گرامی : .....